



Education Consultant India Ltd.

Notations :

- Options shown in green color and with  icon are correct.
- Options shown in red color and with  icon are incorrect.

Question Paper Name:	Assistant Teacher Primary 15th November 2019 Shift 1
Subject Name:	ASSISTANT TEACHER PRIMARY
Creation Date:	2019-11-15 11:37:07
Duration:	120
Total Marks:	200
Display Marks:	Yes
Share Answer Key With Delivery Engine:	No
Actual Answer Key:	Yes
Calculator:	None
Magnifying Glass Required?:	No
Ruler Required?:	No
Eraser Required?:	No
Scratch Pad Required?:	No
Rough Sketch/Notepad Required?:	No
Protractor Required?:	No
Show Watermark on Console?:	Yes
Highlighter:	No
Auto Save on Console?:	No

Mental Ability

Group Number :	1
Group Id :	719399959
Group Maximum Duration :	0
Group Minimum Duration :	0
Revisit allowed for view? :	No
Revisit allowed for edit? :	No
Break time:	0
Group Marks:	20
Revisit allowed for group Instructions? :	Yes
Maximum Instruction Time:	0
Minimum Instruction Time:	0

Mental Ability

Section Id :	7193991069
Section Number :	1
Section type :	Online
Mandatory or Optional:	Mandatory
Number of Questions:	20
Number of Questions to be attempted:	20
Section Marks:	20

Display Number Panel: Yes
Group All Questions: No

Sub-Section Number: 1
Sub-Section Id: 7193991285
Question Shuffling Allowed : Yes

Question Number : 1 Question Id : 71939924057 Question Type : MCQ Option Shuffling : Yes Display Question Number : Yes
Single Line Question Option : No Option Orientation : Vertical

Correct Marks : 1 Wrong Marks : 0.25

A series is given with one term missing. Select the correct alternative from the given ones that will complete the series.

GK28, KF40, OA52, ?, WQ76

Options :

1. ✖ SU64
2. ✔ SV64
3. ✖ TV64
4. ✖ TU64

Question Number : 1 Question Id : 71939924057 Question Type : MCQ Option Shuffling : Yes Display Question Number : Yes
Single Line Question Option : No Option Orientation : Vertical

Correct Marks : 1 Wrong Marks : 0.25

एक अनुक्रम दिया गया है, जिसमें से एक पद लुप्त है। दिए गए विकल्पों में से वह सही विकल्प चुनिए, जो अनुक्रम को पूरा करे।

GK28, KF40, OA52, ?, WQ76

Options :

1. ✖ SU64
2. ✔ SV64
3. ✖ TV64
4. ✖ TU64

Question Number : 2 Question Id : 71939924058 Question Type : MCQ Option Shuffling : Yes Display Question Number : Yes
Single Line Question Option : No Option Orientation : Vertical

Correct Marks : 1 Wrong Marks : 0.25

A series is given with one term wrong. Select that wrong term from the given alternatives.

ROMD, XWGY, DEZT, JMSO, PULJ

Options :

1. ✖ XWGY
2. ✖ DEZT
3. ✔ ROMD
4. ✖ JMSO

Question Number : 2 Question Id : 71939924058 Question Type : MCQ Option Shuffling : Yes Display Question Number : Yes
Single Line Question Option : No Option Orientation : Vertical

Correct Marks : 1 Wrong Marks : 0.25

एक अनुक्रम दिया गया है, जिसमें से एक पद गलत है। दिए गए विकल्पों में से उस गलत पद को चुनिए।

ROMD, XWGY, DEZT, JMSO, PULJ

Options :

1. ✖ XWGY
2. ✖ DEZT
3. ✔ ROMD
4. ✖ JMSO

Question Number : 3 Question Id : 71939924059 Question Type : MCQ Option Shuffling : Yes Display Question Number : Yes
Single Line Question Option : No Option Orientation : Vertical

Correct Marks : 1 Wrong Marks : 0.25

In the following question, select the odd word pair from the given alternatives.

Options :

1. ✖ Furniture : Chair
2. ✖ Stationery : Pencil
3. ✔ Shirt : Garment
4. ✖ Utensil : Spoon

Question Number : 3 Question Id : 71939924059 Question Type : MCQ Option Shuffling : Yes Display Question Number : Yes
Single Line Question Option : No Option Orientation : Vertical

Correct Marks : 1 Wrong Marks : 0.25

निम्नलिखित प्रश्न में दिए गए विकल्पों में से विषम शब्द युग्म को चुनिए।

Options :

1. ✖ फर्नीचर : कुर्सी
2. ✖ लेखन सामग्री : पेंसिल
3. ✔ कमीज : वस्त्र
4. ✖ बर्तन : चम्मच

Question Number : 4 Question Id : 71939924060 Question Type : MCQ Option Shuffling : Yes Display Question Number : Yes
Single Line Question Option : No Option Orientation : Vertical

Correct Marks : 1 Wrong Marks : 0.25

In the following question, select the related letters from the given alternatives.

KR : NU :: TV : ?

Options :

1. ✔ WY
2. ✖ XZ
3. ✖ VX
4. ✖ ZB

Question Number : 4 Question Id : 71939924060 Question Type : MCQ Option Shuffling : Yes Display Question Number : Yes
Single Line Question Option : No Option Orientation : Vertical

Correct Marks : 1 Wrong Marks : 0.25

निम्नलिखित प्रश्न में दिए गए विकल्पों में से संबंधित अक्षरों को चुनिए।

KR : NU :: TV : ?

Options :

1. ✔ WY
2. ✖ XZ
3. ✖ VX
4. ✖ ZB

Question Number : 5 Question Id : 71939924061 Question Type : MCQ Option Shuffling : Yes Display Question Number : Yes
Single Line Question Option : No Option Orientation : Vertical

Correct Marks : 1 Wrong Marks : 0.25

In the following question, select the related letter pair from the given alternatives.

MOK : STS :: ?

Options :

1. ✖ RAP : XFY
2. ✖ LIP : RQH
3. ✖ GOM : MNU
4. ✔ RGM : XLU

Question Number : 5 Question Id : 71939924061 Question Type : MCQ Option Shuffling : Yes Display Question Number : Yes
Single Line Question Option : No Option Orientation : Vertical

Correct Marks : 1 Wrong Marks : 0.25

निम्नलिखित प्रश्न में दिए गए विकल्पों में से संबंधित अक्षर युग्म को चुनिए।

MOK : STS :: ?

Options :

1. ✖ RAP : XFY
2. ✖ LIP : RQH
3. ✖ GOM : MNU
4. ✔ RGM : XLU

Question Number : 6 Question Id : 71939924062 Question Type : MCQ Option Shuffling : Yes Display Question Number : Yes
Single Line Question Option : No Option Orientation : Vertical

Correct Marks : 1 Wrong Marks : 0.25

In a certain code language, 'GRIPS' is written as '71891619', 'FRAME' is written as '6181135'. What is the code for 'JEANS' in that code language?

Options :

1. ✖ 15011491
2. ✔ 10511419
3. ✖ 15114901
4. ✖ 10411491

Question Number : 6 Question Id : 71939924062 Question Type : MCQ Option Shuffling : Yes Display Question Number : Yes
Single Line Question Option : No Option Orientation : Vertical

Correct Marks : 1 Wrong Marks : 0.25

एक विशिष्ट कोड भाषा में, 'GRIPS' को '71891619' लिखा जाता है, 'FRAME' को '6181135' लिखा जाता है। इस कोड भाषा में 'JEANS' का कोड क्या है?

Options :

1. ✖ 15011491
2. ✔ 10511419
3. ✖ 15114901
4. ✖ 10411491

Question Number : 7 Question Id : 71939924063 Question Type : MCQ Option Shuffling : Yes Display Question Number : Yes
Single Line Question Option : No Option Orientation : Vertical

Correct Marks : 1 Wrong Marks : 0.25

Six girls F, G, H, J, K and L are sitting in a row facing towards north (not necessarily in the same order). L and K are sitting at the ends. Only G is between F and K. J is to the immediate left of H. G is to the immediate right of F. What is the position of F from the left end?

Options :

1. ✖ Third
2. ✖ Second
3. ✔ Fourth
4. ✖ Fifth

Question Number : 7 Question Id : 71939924063 Question Type : MCQ Option Shuffling : Yes Display Question Number : Yes
Single Line Question Option : No Option Orientation : Vertical

Correct Marks : 1 Wrong Marks : 0.25

छह लड़कियाँ F, G, H, J, K तथा L एक पंक्ति में उत्तर की ओर मुख करके बैठी हुई हैं (जरूरी नहीं की इसी क्रम में हों)। L तथा K छोरों पर बैठी हुई हैं। F तथा K के मध्य केवल G है। J, H के तुरंत बायीं ओर है। G, F के तुरंत दायीं ओर है। बायें छोर से F का स्थान क्या है?

Options :

1. ✖ तीसरा
2. ✖ दूसरा
3. ✔ चौथा
4. ✖ पांचवा

Question Number : 8 Question Id : 71939924064 Question Type : MCQ Option Shuffling : Yes Display Question Number : Yes
Single Line Question Option : No Option Orientation : Vertical

Correct Marks : 1 Wrong Marks : 0.25

A team of four members is to be formed out of 5 boys : P, Q, R, S and T and 5 girls : J, K, L, M and N. Following conditions should be kept in mind :

- (A) P and M will be selected together.
- (B) N and L will not be in the same team.
- (C) R and T will always be in the same team.
- (D) Minimum one girl should be in team.

Which of the following team cannot be formed?

- I. P M J L
- II. Q S R P
- III. L M Q P
- IV. L R T N

Note: For this question, discrepancy is found in question/answer. So, this question is ignored for all candidates.

Options :

1. I and IV
2. II, III and IV
3. II and III
4. I and III

Question Number : 8 Question Id : 71939924064 Question Type : MCQ Option Shuffling : Yes Display Question Number : Yes
Single Line Question Option : No Option Orientation : Vertical

Correct Marks : 1 Wrong Marks : 0.25

5 लडकों : P, Q, R, S तथा T तथा 5 लडकियों : J, K, L, M तथा N में चार सदस्यों की एक टीम बनायी जानी है। निम्नलिखित शर्तों को ध्यान में रखें :

- (A) P तथा M हमेशा साथ में चुने जायेंगे
- (B) N तथा L समान टीम में नहीं होंगे
- (C) R तथा T हमेशा समान टीम में होंगे
- (D) टीम में कम से कम एक लडकी होनी चाहिए।

निम्नलिखित में से कौन सी टीम नहीं बनायी जा सकती है?

- I. P M J L
- II. Q S R P
- III. L M Q P
- IV. L R T N

Note: For this question, discrepancy is found in question/answer. So, this question is ignored for all candidates.

Options :

- 1. I तथा IV
- 2. II, III तथा IV
- 3. II तथा III
- 4. I तथा III

Question Number : 9 Question Id : 71939924065 Question Type : MCQ Option Shuffling : Yes Display Question Number : Yes
Single Line Question Option : No Option Orientation : Vertical

Correct Marks : 1 Wrong Marks : 0.25

If 'A + B' means 'A is the father of B', 'A - B' means 'A is the sister of B', 'A ÷ B' means 'A is the wife of B', 'A × B' means 'A is the son of B', then which of the following represent 'S as the sister of P'?

Options :

- 1. ✓ $P \times Q \div R + S - A$
- 2. ✗ $R \div S \times P + Q$
- 3. ✗ $R + P \times S - Q$
- 4. ✗ $A + Q \times R - S \div P$

Question Number : 9 Question Id : 71939924065 Question Type : MCQ Option Shuffling : Yes Display Question Number : Yes
Single Line Question Option : No Option Orientation : Vertical

Correct Marks : 1 Wrong Marks : 0.25

यदि 'A + B' का अर्थ 'A, B का पिता है', 'A - B' का अर्थ 'A, B की बहन है', 'A ÷ B' का अर्थ 'A, B की पत्नी है', 'A × B' का अर्थ 'A, B का पुत्र है', तो निम्नलिखित में से कौन सा 'S को P की बहन' दर्शाता है?

Options :

- 1. ✓ $P \times Q \div R + S - A$
- 2. ✗ $R \div S \times P + Q$
- 3. ✗ $R + P \times S - Q$
- 4. ✗ $A + Q \times R - S \div P$

Question Number : 10 Question Id : 71939924066 Question Type : MCQ Option Shuffling : Yes Display Question Number : Yes
Single Line Question Option : No Option Orientation : Vertical

Correct Marks : 1 Wrong Marks : 0.25

In the following question below are given some statements followed by some conclusions based on those statements. Taking the given statements to be true even if they seem to be at variance from commonly known facts. Read all the conclusions and then decide which of the given conclusion logically follows the given statements.

Statements:

- I. All J are M.
- II. Some M are A.

Conclusions:

- I. No A is J.
- II. Some A are not M.

Options :

- 1. ✖ Only conclusion I follows.
- 2. ✖ Only conclusion II follows.
- 3. ✖ Both conclusion I and II follows.
- 4. ✔ Neither conclusion follows.

Question Number : 10 Question Id : 71939924066 Question Type : MCQ Option Shuffling : Yes Display Question Number : Yes
Single Line Question Option : No Option Orientation : Vertical

Correct Marks : 1 Wrong Marks : 0.25

नीचे दिए गए प्रश्न में कुछ कथन और उनके बाद उन कथनों पर आधारित कुछ निष्कर्ष दिए गए हैं। दिए गए कथनों को सही माने, चाहे उनमें सामान्य ज्ञात तथ्यों से भिन्नता हो। सभी निष्कर्ष पढ़ें और फिर निर्धारित करें कि दिए गए कौन से निष्कर्ष, दिए गए कथनों के आधार पर युक्तिसंगत हैं।

कथन:

- I. सभी J, M हैं।
- II. कुछ M, A हैं।

निष्कर्ष:

- I. कोई A, J नहीं है।
- II. कुछ A, M नहीं है।

Options :

- 1. ✖ केवल निष्कर्ष I अनुसरण करता है।
- 2. ✖ केवल निष्कर्ष II अनुसरण करता है।
- 3. ✖ दोनों निष्कर्ष I तथा II अनुसरण करते हैं।
- 4. ✔ कोई भी निष्कर्ष अनुसरण नहीं करता है।

Question Number : 11 Question Id : 71939924067 Question Type : MCQ Option Shuffling : Yes Display Question Number : Yes
Single Line Question Option : No Option Orientation : Vertical

Correct Marks : 1 Wrong Marks : 0.25

In the following question below are given some statements followed by some conclusions based on those statements. Taking the given statements to be true even if they seem to be at variance from commonly known facts. Read all the conclusions and then decide which of the given conclusion logically follows the given statements.

Statements:

- I. Some red are yellow.
- II. No yellow is pink.
- III. No pink is white.

Conclusions:

- I. No white is red.
- II. Some yellow are red.
- III. Some pink are not yellow.

Options :

1. ✖ Only conclusion III follows.
2. ✔ Both conclusion II and III follows.
3. ✖ Both conclusion I and III follows.
4. ✖ All conclusion follow.

Question Number : 11 Question Id : 71939924067 Question Type : MCQ Option Shuffling : Yes Display Question Number : Yes
Single Line Question Option : No Option Orientation : Vertical

Correct Marks : 1 Wrong Marks : 0.25

नीचे दिए गए प्रश्न में कुछ कथन और उनके बाद उन कथनों पर आधारित कुछ निष्कर्ष दिए गए हैं। दिए गए कथनों को सही माने, चाहे उनमें सामान्य ज्ञात तथ्यों से भिन्नता हो। सभी निष्कर्ष पढ़ें और फिर निर्धारित करें कि दिए गए कौन से निष्कर्ष, दिए गए कथनों के आधार पर युक्तिसंगत हैं।

कथन:

- I. कुछ लाल, पीला हैं।
- II. कोई पीला, गुलाबी नहीं है।
- III. कोई गुलाबी, सफेद नहीं है।

निष्कर्ष:

- I. कोई सफेद, लाल नहीं है।
- II. कुछ पीला, लाल हैं।
- III. कुछ गुलाबी, पीला नहीं हैं।

Options :

1. ✖ केवल निष्कर्ष III अनुसरण करता है।
2. ✔ दोनों निष्कर्ष II तथा III अनुसरण करते हैं।
3. ✖ दोनों निष्कर्ष I तथा III अनुसरण करते हैं।
4. ✖ सभी निष्कर्ष अनुसरण करते हैं।

Question Number : 12 Question Id : 71939924068 Question Type : MCQ Option Shuffling : Yes Display Question Number : Yes
Single Line Question Option : No Option Orientation : Vertical

Correct Marks : 1 Wrong Marks : 0.25

If $43\text{ P }16\text{ M }19 = 46$ and $11\text{ M }13\text{ P }12 = 12$, then $16\text{ P }18\text{ M }24 = ?$

Options :

1. ✖ 32
2. ✖ 24
3. ✔ 22
4. ✖ 30

Question Number : 12 Question Id : 71939924068 Question Type : MCQ Option Shuffling : Yes Display Question Number : Yes
Single Line Question Option : No Option Orientation : Vertical

Correct Marks : 1 Wrong Marks : 0.25

यदि $43\text{ P }16\text{ M }19 = 46$ तथा $11\text{ M }13\text{ P }12 = 12$ हो, तो $16\text{ P }18\text{ M }24 = ?$

Options :

1. ✖ 32
2. ✖ 24
3. ✔ 22
4. ✖ 30

Question Number : 13 Question Id : 71939924069 Question Type : MCQ Option Shuffling : Yes Display Question Number : Yes
Single Line Question Option : No Option Orientation : Vertical

Correct Marks : 1 Wrong Marks : 0.25

A series is given with one term wrong. Select that wrong term from the given alternatives.

44, 22, 33, 72.5, 288.75

Options :

1. ✖ 33
2. ✔ 72.5
3. ✖ 288.75
4. ✖ 22

Question Number : 13 Question Id : 71939924069 Question Type : MCQ Option Shuffling : Yes Display Question Number : Yes
Single Line Question Option : No Option Orientation : Vertical

Correct Marks : 1 Wrong Marks : 0.25

एक अनुक्रम दिया गया है, जिसमें से एक पद गलत है। दिए गए विकल्पों में से उस गलत पद को चुनिए।

44, 22, 33, 72.5, 288.75

Options :

1. ✖ 33
2. ✔ 72.5
3. ✖ 288.75
4. ✖ 22

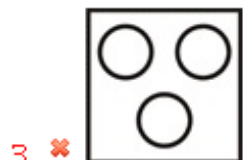
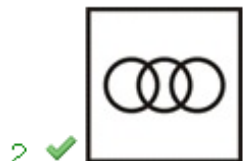
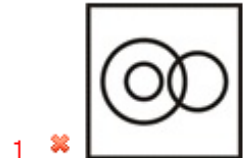
Question Number : 14 Question Id : 71939924070 Question Type : MCQ Option Shuffling : Yes Display Question Number : Yes
Single Line Question Option : No Option Orientation : Vertical

Correct Marks : 1 Wrong Marks : 0.25

Identify the diagram that best represents the relationship among the given classes.

Teacher, Mother, Male

Options :



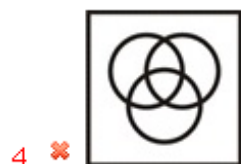
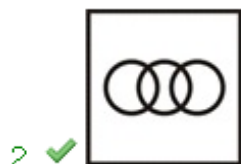
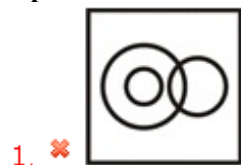
Question Number : 14 Question Id : 71939924070 Question Type : MCQ Option Shuffling : Yes Display Question Number : Yes
Single Line Question Option : No Option Orientation : Vertical

Correct Marks : 1 Wrong Marks : 0.25

वह आरेख चुनिए जो नीचे दिए गए वर्गों के बीच के संबंध का सही निरूपण करता है।

अध्यापक, माता, पुरुष

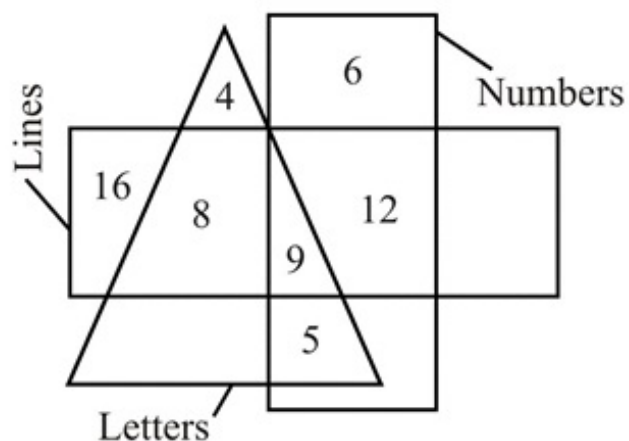
Options :



Question Number : 15 Question Id : 71939924071 Question Type : MCQ Option Shuffling : Yes Display Question Number : Yes
Single Line Question Option : No Option Orientation : Vertical

Correct Marks : 1 Wrong Marks : 0.25

How many lines are numbers?



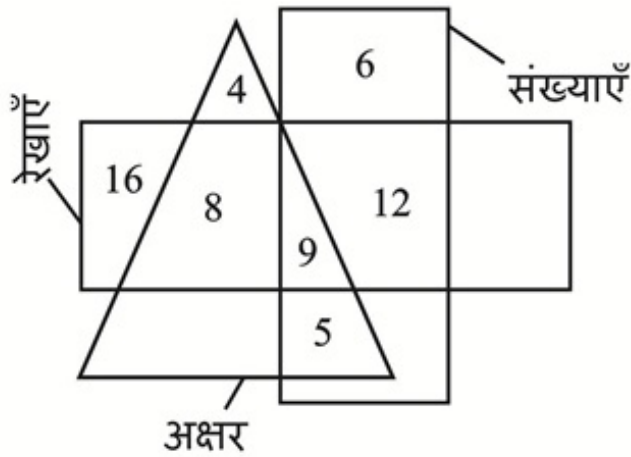
Options :

1. ✖ 9
2. ✖ 12
3. ✖ 20
4. ✔ 21

Question Number : 15 Question Id : 71939924071 Question Type : MCQ Option Shuffling : Yes Display Question Number : Yes
Single Line Question Option : No Option Orientation : Vertical

Correct Marks : 1 Wrong Marks : 0.25

कितनी रेखाएँ संख्याएँ हैं?



Options :

- ✗ 9
- ✗ 12
- ✗ 20
- ✓ 21

Question Number : 16 Question Id : 71939924072 Question Type : MCQ Option Shuffling : Yes Display Question Number : Yes Single Line Question Option : No Option Orientation : Vertical

Correct Marks : 1 Wrong Marks : 0.25

Shweta starts walking. After walking some distance, she moves left. Now after some distance she turns right. After some distance she finally moves right. If she is facing towards south, then in which direction she started walking?

Options :

- ✗ West
- ✗ North
- ✗ South
- ✓ East

Question Number : 16 Question Id : 71939924072 Question Type : MCQ Option Shuffling : Yes Display Question Number : Yes Single Line Question Option : No Option Orientation : Vertical

Correct Marks : 1 Wrong Marks : 0.25

श्वेता चलना आरंभ करती है। कुछ दूरी चलने के पश्चात, वह बायें मुड़ती है। अब कुछ दूरी चलने के पश्चात वह दायें मुड़ती है। कुछ दूरी पश्चात वह अंततः दायें मुड़ती है। यदि वह दक्षिण की ओर देख रही है, तो उसने किस दिशा में चलना आरंभ किया था?

Options :

- ✗ पश्चिम
- ✗ उत्तर
- ✗ दक्षिण
- ✓ पूर्व

Question Number : 17 Question Id : 71939924073 Question Type : MCQ Option Shuffling : Yes Display Question Number : Yes Single Line Question Option : No Option Orientation : Vertical

Correct Marks : 1 Wrong Marks : 0.25

A pen is rotated by 372° in clockwise direction. Then, it is rotated by 476° in anticlockwise direction. Again, it is rotated by 234° in anticlockwise direction. It is finally rotated by 458° in clockwise direction. Now, it is pointing towards east direction. In which direction it was pointing initially?

Options :

1. ✖ North east
2. ✔ North west
3. ✖ South east
4. ✖ South west

Question Number : 17 Question Id : 71939924073 Question Type : MCQ Option Shuffling : Yes Display Question Number : Yes
Single Line Question Option : No Option Orientation : Vertical

Correct Marks : 1 Wrong Marks : 0.25

एक कलम को दक्षिणावर्त दिशा में 372° घुमाया गया है। फिर इसे वामावर्त दिशा में 476° घुमाया गया है। इसे पुनः वामावर्त दिशा में 234° घुमाया गया है। इसे अंततः दक्षिणावर्त दिशा में 458° घुमाया गया है। अब यह पूर्व दिशा की ओर इशारा कर रहा है। यह आरंभ में किस दिशा की ओर इशारा कर रहा था?


Options :

1. ✖ उत्तर पूर्व
2. ✔ उत्तर पश्चिम
3. ✖ दक्षिण पूर्व
4. ✖ दक्षिण पश्चिम

Question Number : 18 Question Id : 71939924074 Question Type : MCQ Option Shuffling : Yes Display Question Number : Yes
Single Line Question Option : No Option Orientation : Vertical

Correct Marks : 1 Wrong Marks : 0.25

Which answer figure will complete the pattern in the question figure?



Options :


1. ✖
2. ✖
3. ✔



Question Number : 18 Question Id : 71939924074 Question Type : MCQ Option Shuffling : Yes Display Question Number : Yes
Single Line Question Option : No Option Orientation : Vertical

Correct Marks : 1 Wrong Marks : 0.25

कौन सी उत्तर आकृति प्रश्न आकृति के प्रतिरूप को पूरा करेगी?



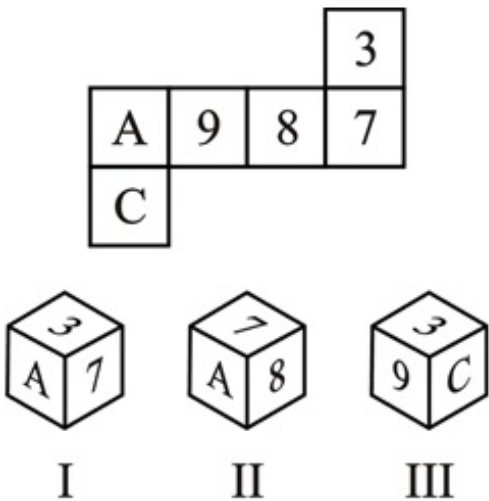
Options :



Question Number : 19 Question Id : 71939924075 Question Type : MCQ Option Shuffling : Yes Display Question Number : Yes
Single Line Question Option : No Option Orientation : Vertical

Correct Marks : 1 Wrong Marks : 0.25

By folding the given paper, which of the following cube can be made?



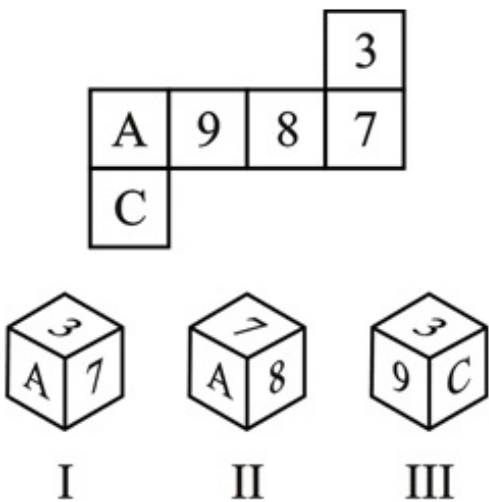
Options :

- 1. ✖ Both II and III
- 2. ✔ Only I
- 3. ✖ Both I and III
- 4. ✖ Only III

Question Number : 19 Question Id : 71939924075 Question Type : MCQ Option Shuffling : Yes Display Question Number : Yes Single Line Question Option : No Option Orientation : Vertical

Correct Marks : 1 Wrong Marks : 0.25

दिए गए कागज को मोड़ने पर, निम्नलिखित में से कौन सा घन बनाया जा सकता है?



Options :

- 1. ✖ II तथा III दोनों
- 2. ✔ केवल I
- 3. ✖ I तथा III दोनों
- 4. ✖ केवल III

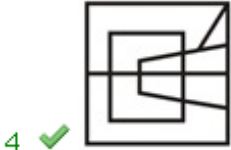
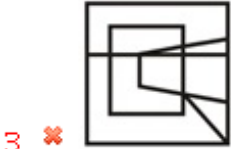
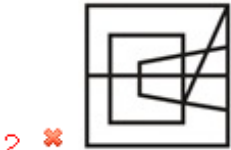
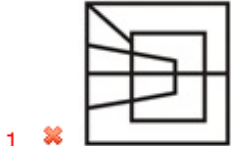
Question Number : 20 Question Id : 71939924076 Question Type : MCQ Option Shuffling : Yes Display Question Number : Yes Single Line Question Option : No Option Orientation : Vertical

Correct Marks : 1 Wrong Marks : 0.25

Which answer figure will complete the pattern in the question figure?



Options :



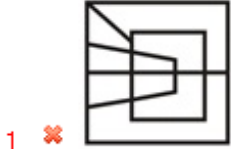
Question Number : 20 Question Id : 71939924076 Question Type : MCQ Option Shuffling : Yes Display Question Number : Yes
Single Line Question Option : No Option Orientation : Vertical

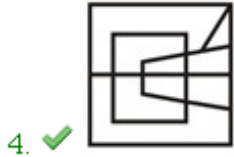
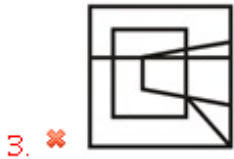
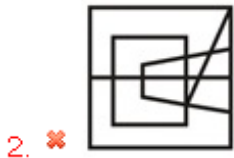
Correct Marks : 1 Wrong Marks : 0.25

कौन सी उत्तर आकृति प्रश्न आकृति के प्रतिरूप को पूरा करेगी?



Options :





General Awareness

Group Number :	2
Group Id :	719399960
Group Maximum Duration :	0
Group Minimum Duration :	0
Revisit allowed for view? :	No
Revisit allowed for edit? :	No
Break time:	0
Group Marks:	20
Revisit allowed for group Instructions? :	Yes
Maximum Instruction Time:	0
Minimum Instruction Time:	0

General Awareness

Section Id :	7193991070
Section Number :	1
Section type :	Online
Mandatory or Optional:	Mandatory
Number of Questions:	20
Number of Questions to be attempted:	20
Section Marks:	20
Display Number Panel:	Yes
Group All Questions:	No

Sub-Section Number:	1
Sub-Section Id:	7193991286
Question Shuffling Allowed :	Yes

Question Number : 21 Question Id : 71939924077 Question Type : MCQ Option Shuffling : Yes Display Question Number : Yes
Single Line Question Option : No Option Orientation : Vertical

Correct Marks : 1 Wrong Marks : 0.25

Chhathi Dala Chhath and Surya Shashthi festival is celebrated in which of the following Indian state?

Options :

1. ✖ Odisha
2. ✔ Bihar
3. ✖ Assam
4. ✖ Sikkim

Question Number : 21 Question Id : 71939924077 Question Type : MCQ Option Shuffling : Yes Display Question Number : Yes
Single Line Question Option : No Option Orientation : Vertical

Correct Marks : 1 Wrong Marks : 0.25

छठ पर्व छठ और सूर्य षष्ठी त्योहार निम्नलिखित में से किस भारतीय राज्य में मनाया जाता है?

Options :

1. ✖ ओडिशा
2. ✔ बिहार
3. ✖ असम
4. ✖ सिक्किम

Question Number : 22 Question Id : 71939924078 Question Type : MCQ Option Shuffling : Yes Display Question Number : Yes
Single Line Question Option : No Option Orientation : Vertical

Correct Marks : 1 Wrong Marks : 0.25

Kirtistambha, or Tower of Fame, was constructed in _____ style architecture.

Options :

1. ✖ Pallavas
2. ✖ Cheras
3. ✖ Cholas
4. ✔ Solanki

Question Number : 22 Question Id : 71939924078 Question Type : MCQ Option Shuffling : Yes Display Question Number : Yes
Single Line Question Option : No Option Orientation : Vertical

Correct Marks : 1 Wrong Marks : 0.25

कीर्तिस्तंभ, या टॉवर ऑफ फेम, _____ वास्तु कला शैली में बनाया गया

Options :

1. ✖ पल्लव
2. ✖ चेर
3. ✖ चोलों
4. ✔ सोलंकी

Question Number : 23 Question Id : 71939924079 Question Type : MCQ Option Shuffling : Yes Display Question Number : Yes
Single Line Question Option : No Option Orientation : Vertical

Correct Marks : 1 Wrong Marks : 0.25

Which Department under Ministry of Finance has principal responsibility of preparation and presentation of the Union Budget (including Railway Budget) to the Parliament and budget for the state governments under President's Rule and union territory administrations?

Options :

1. ✔ Department of Economic Affairs
2. ✖ Department of Expenditure
3. ✖ Department of Revenue
4. ✖ Department of Investment and Public Asset Management

Question Number : 23 Question Id : 71939924079 Question Type : MCQ Option Shuffling : Yes Display Question Number : Yes
Single Line Question Option : No Option Orientation : Vertical

Correct Marks : 1 Wrong Marks : 0.25

वित्त मंत्रालय के अंतर्गत कौन से विभाग के पास केंद्रीय बजट (रेल बजट सहित) की तैयारी और प्रस्तुतीकरण की मुख्य जिम्मेदारी संसद और राज्य सरकारों के लिए राष्ट्रपति शासन और केंद्रशासित प्रदेश प्रशासन के तहत होती है?

Options :

1. ✓ आर्थिक मामलों का विभाग
2. ✗ व्यय विभाग
3. ✗ राजस्व विभाग
4. ✗ निवेश और सार्वजनिक संपत्ति प्रबंधन विभाग

Question Number : 24 Question Id : 71939924080 Question Type : MCQ Option Shuffling : Yes Display Question Number : Yes
Single Line Question Option : No Option Orientation : Vertical

Correct Marks : 1 Wrong Marks : 0.25

The Annual Financial Statement of the Government of India shows the receipts and payments of government under which of the following government accounts?

- I. Consolidated Fund
- II. Contingency Fund
- III. Public Account

Options :

1. ✗ I and II
2. ✗ II and III
3. ✗ I and III
4. ✓ I, II and III

Question Number : 24 Question Id : 71939924080 Question Type : MCQ Option Shuffling : Yes Display Question Number : Yes
Single Line Question Option : No Option Orientation : Vertical

Correct Marks : 1 Wrong Marks : 0.25

भारत सरकार का वार्षिक वित्तीय विवरण निम्नलिखित सरकारी खातों में से किसके तहत सरकार की रसीदें और भुगतान दिखाता है?

- I. समेकित निधि
- II. आकस्मिकता निधि
- III. सार्वजनिक खाता

Options :

1. ✗ I तथा II
2. ✗ II तथा III
3. ✗ I तथा III
4. ✓ I, II तथा III

Question Number : 25 Question Id : 71939924081 Question Type : MCQ Option Shuffling : Yes Display Question Number : Yes
Single Line Question Option : No Option Orientation : Vertical

Correct Marks : 1 Wrong Marks : 0.25

Which of the following cell organelle is involved in the formation of lysosomes?

Options :

1. ✗ Mitochondria
2. ✓ Golgi apparatus
3. ✗ Vacuoles
4. ✗ Plastid

Question Number : 25 Question Id : 71939924081 Question Type : MCQ Option Shuffling : Yes Display Question Number : Yes
Single Line Question Option : No Option Orientation : Vertical

Correct Marks : 1 Wrong Marks : 0.25

कौन सी कोशिका अंगक लाइसोसोम बनाने में सम्मिलित होती है?

Options :

1. ✖ माइटोकॉन्ड्रिया
2. ✔ गॉल्जी उपकरण
3. ✖ रसधानियाँ
4. ✖ प्लैस्टिड

Question Number : 26 Question Id : 71939924082 Question Type : MCQ Option Shuffling : Yes Display Question Number : Yes
Single Line Question Option : No Option Orientation : Vertical

Correct Marks : 1 Wrong Marks : 0.25

Plants belonging to _____ don't have naked embryos.

Options :

1. ✖ Thallophyta
2. ✖ Bryophyta
3. ✖ Pteridophyta
4. ✔ Angiosperm

Question Number : 26 Question Id : 71939924082 Question Type : MCQ Option Shuffling : Yes Display Question Number : Yes
Single Line Question Option : No Option Orientation : Vertical

Correct Marks : 1 Wrong Marks : 0.25

_____ से संबंधित पौधों में नम्र भ्रूण नहीं होता है।

Options :

1. ✖ थैलोफाइटा
2. ✖ ब्रायोफाइटा
3. ✖ टेरेडोफाइटा
4. ✔ एंजियोस्पर्म

Question Number : 27 Question Id : 71939924083 Question Type : MCQ Option Shuffling : Yes Display Question Number : Yes
Single Line Question Option : No Option Orientation : Vertical

Correct Marks : 1 Wrong Marks : 0.25

Which of the following natural source-acid pair is correctly matched?

Options :

1. ✖ Orange - Acetic acid
2. ✔ Tomato - Oxalic acid
3. ✖ Tamarind - Methonic acid
4. ✖ Nettle sting - acid

Question Number : 27 Question Id : 71939924083 Question Type : MCQ Option Shuffling : Yes Display Question Number : Yes
Single Line Question Option : No Option Orientation : Vertical

Correct Marks : 1 Wrong Marks : 0.25

निम्नलिखित में से कौन-सा प्राकृतिक स्रोत-अम्ल का युग्म सही तरीके से मेल खाता है?

Options :

1. ✖ संतरा - ऐसीरिक अम्ल
2. ✔ टमाटर - ऑक्सैलिक अम्ल
3. ✖ इमली - मेथेनॉइक अम्ल
4. ✖ नेटल का डंक - लैक्टिक अम्ल

Question Number : 28 Question Id : 71939924084 Question Type : MCQ Option Shuffling : Yes Display Question Number : Yes
Single Line Question Option : No Option Orientation : Vertical

Correct Marks : 1 Wrong Marks : 0.25

Which of the following latitude divides India into two equal halves?

Options :

1. ✖ 23° 15'N
2. ✖ 23° 45'N
3. ✔ 23° 30'N
4. ✖ 22° 30'N

Question Number : 28 Question Id : 71939924084 Question Type : MCQ Option Shuffling : Yes Display Question Number : Yes
Single Line Question Option : No Option Orientation : Vertical

Correct Marks : 1 Wrong Marks : 0.25

निम्नलिखित में से कौन-सा अक्षांश भारत को दो बराबर हिस्सों में विभाजित करता है?

Options :

1. ✖ 23° 15'N
2. ✖ 23° 45'N
3. ✔ 23° 30'N
4. ✖ 22° 30'N

Question Number : 29 Question Id : 71939924085 Question Type : MCQ Option Shuffling : Yes Display Question Number : Yes
Single Line Question Option : No Option Orientation : Vertical

Correct Marks : 1 Wrong Marks : 0.25

Which of the following crop in India is not an important plantation crop?

Options :

1. ✖ Banana
2. ✖ Rubber
3. ✔ Millet
4. ✖ Sugarcane

Question Number : 29 Question Id : 71939924085 Question Type : MCQ Option Shuffling : Yes Display Question Number : Yes
Single Line Question Option : No Option Orientation : Vertical

Correct Marks : 1 Wrong Marks : 0.25

भारत में निम्नलिखित में से कौन-सी फसल महत्वपूर्ण रोपण फसल नहीं है?

Options :

1. ✖ केला
2. ✖ रबड़
3. ✔ बाजरा
4. ✖ गन्ना

Question Number : 30 Question Id : 71939924086 Question Type : MCQ Option Shuffling : Yes Display Question Number : Yes
Single Line Question Option : No Option Orientation : Vertical

Correct Marks : 1 Wrong Marks : 0.25

Which of the following statements regarding Laterite soil is incorrect?

Options :

1. ✖ The laterite soil develops under tropical and subtropical climate with alternate wet and dry season.
2. ✖ Laterite soil is the result of intense leaching due to heavy rain.
3. ✔ Lateritic soils are mostly deep to very deep, basic ($8.0 < \text{pH}$) and deficient in plant nutrients.

4. ✖ They are prone to erosion and degradation due to their position on the landscape.

Question Number : 30 Question Id : 71939924086 Question Type : MCQ Option Shuffling : Yes Display Question Number : Yes
Single Line Question Option : No Option Orientation : Vertical

Correct Marks : 1 Wrong Marks : 0.25

लेटराइट मृदा से संबंधित निम्नलिखित में से कौन-सा कथन गलत है?

Options :

1. ✖ लेटराइट मृदा वैकल्पिक नम तथा शुष्क ऋतु के साथ उष्णकटिबंधीय तथा उपोष्णकटिबंधीय जलवायु के नीचे उत्पन्न होती है
2. ✖ लेटराइट मृदा भारी वर्षा के कारण अत्यधिक लीचिंग का परिणाम है
3. ✔ लेटराइट मृदा अधिकतम रूप से गहरी तथा अत्यधिक गहरी, क्षारीय तथा वनस्पति पोषक में अपूर्ण होती है
4. ✖ वे परीदृश्य पर अपनी स्थिति के कारण क्षरण तथा गिरावट के उन्मुख होते हैं

Question Number : 31 Question Id : 71939924087 Question Type : MCQ Option Shuffling : Yes Display Question Number : Yes
Single Line Question Option : No Option Orientation : Vertical

Correct Marks : 1 Wrong Marks : 0.25

In 1905, which Viceroy partitioned Bengal?

Options :

1. ✔ Viceroy Curzon
2. ✖ Viceroy Rippon
3. ✖ Viceroy Linlithgow
4. ✖ Viceroy Lytton

Question Number : 31 Question Id : 71939924087 Question Type : MCQ Option Shuffling : Yes Display Question Number : Yes
Single Line Question Option : No Option Orientation : Vertical

Correct Marks : 1 Wrong Marks : 0.25

1905 में, किस वायसराय ने बंगाल का विभाजन कर दिया था?

Options :

1. ✔ वायसराय कर्ज़न
2. ✖ वायसराय रिपन
3. ✖ वायसराय लिमलिथगो
4. ✖ वायसराय लिटन

Question Number : 32 Question Id : 71939924088 Question Type : MCQ Option Shuffling : Yes Display Question Number : Yes
Single Line Question Option : No Option Orientation : Vertical

Correct Marks : 1 Wrong Marks : 0.25

The Khalji and Tughluq monarchs appointed military commanders as governors of territories known as _____.

Options :

1. ✖ Muqtis
2. ✔ Iqta
3. ✖ Kharaj
4. ✖ Samanta

Question Number : 32 Question Id : 71939924088 Question Type : MCQ Option Shuffling : Yes Display Question Number : Yes
Single Line Question Option : No Option Orientation : Vertical

Correct Marks : 1 Wrong Marks : 0.25

खलजी तथा तुगलक शासकों ने _____ के रूप में जाना जाने वाले सेनानायकों को इलाकों के सूबेदार के रूप में नियुक्त किया

Options :

1. ✖ मुक्ती
2. ✔ इक्ता

3. ✖ खराज
4. ✖ सामंतों

Question Number : 33 Question Id : 71939924089 Question Type : MCQ Option Shuffling : Yes Display Question Number : Yes
Single Line Question Option : No Option Orientation : Vertical

Correct Marks : 1 Wrong Marks : 0.25

Which satyagraha organised by Mahatma Gandhi turned out to be the first all - India struggle against the British government?

Options :

1. ✖ Champaran satyagraha
2. ✖ Kheda satyagraha
3. ✖ Ahemdabad satyagraha
4. ✔ Rowlatt satyagraha

Question Number : 33 Question Id : 71939924089 Question Type : MCQ Option Shuffling : Yes Display Question Number : Yes
Single Line Question Option : No Option Orientation : Vertical

Correct Marks : 1 Wrong Marks : 0.25

महात्मा गाँधी द्वारा आयोजित किस सत्याग्रह ने ब्रिटिश सरकार के खिलाफ पहला अखिल भारतीय संघर्ष किया?

Options :

1. ✖ चंपारण सत्याग्रह
2. ✖ खेड़ा सत्याग्रह
3. ✖ अहमदाबाद सत्याग्रह
4. ✔ रॉलट सत्याग्रह

Question Number : 34 Question Id : 71939924090 Question Type : MCQ Option Shuffling : Yes Display Question Number : Yes
Single Line Question Option : No Option Orientation : Vertical

Correct Marks : 1 Wrong Marks : 0.25

"My Life, My Mission" is the autobiography of which of the following famous personality?

Options :

1. ✔ Baba Ramdev
2. ✖ Amitabh Bachchan
3. ✖ Amit Shah
4. ✖ Atal Bihari Vajpayee

Question Number : 34 Question Id : 71939924090 Question Type : MCQ Option Shuffling : Yes Display Question Number : Yes
Single Line Question Option : No Option Orientation : Vertical

Correct Marks : 1 Wrong Marks : 0.25

"मेरा जीवन, मेरा मिशन" निम्नलिखित में से किस प्रसिद्ध व्यक्तित्व की आत्मकथा है?

Options :

1. ✔ बाबा रामदेव
2. ✖ अमिताभ बच्चन
3. ✖ अमित शाह
4. ✖ अटल बिहारी वाजपेयी

Question Number : 35 Question Id : 71939924091 Question Type : MCQ Option Shuffling : Yes Display Question Number : Yes
Single Line Question Option : No Option Orientation : Vertical

Correct Marks : 1 Wrong Marks : 0.25

J C Daniel Award, the Kerala government's highest honour for outstanding contribution to Malayalam cinema has been awarded to which actor /actress in 2019?

Options :

1. ✓ Sheela
2. ✗ Jagathy Sreekumar
3. ✗ Ashish Vidyarthi
4. ✗ Rajyalakshmi

Question Number : 35 Question Id : 71939924091 Question Type : MCQ Option Shuffling : Yes Display Question Number : Yes
Single Line Question Option : No Option Orientation : Vertical

Correct Marks : 1 Wrong Marks : 0.25

मलयालम सिनेमा में उत्कृष्ट योगदान के लिए केरल सरकार का सर्वोच्च सम्मान जे सी डैनियल अवार्ड, 2019 में किस अभिनेता/अभिनेत्री को प्रदान किया गया है?

Options :

1. ✓ शीला
2. ✗ जगथी श्रीकुमार
3. ✗ आशीष विद्यार्थी
4. ✗ राज्यालक्ष्मी

Question Number : 36 Question Id : 71939924092 Question Type : MCQ Option Shuffling : Yes Display Question Number : Yes
Single Line Question Option : No Option Orientation : Vertical

Correct Marks : 1 Wrong Marks : 0.25

Who won the 2019 Senior Women's National Squash Championship?

Options :

1. ✗ Dipika Pallikal Karthik
2. ✗ Sunaya Kuruvilla
3. ✗ Janet Vidhi
4. ✓ Joshna Chinappa

Question Number : 36 Question Id : 71939924092 Question Type : MCQ Option Shuffling : Yes Display Question Number : Yes
Single Line Question Option : No Option Orientation : Vertical

Correct Marks : 1 Wrong Marks : 0.25

2019 सीनियर महिला राष्ट्रीय स्क्वैश चैम्पियनशिप किसने जीती?

Options :

1. ✗ दीपिका पल्लीकल कार्तिक
2. ✗ सुनया कुरुविला
3. ✗ जेनेट विधी
4. ✓ जोशना चिनप्पा

Question Number : 37 Question Id : 71939924093 Question Type : MCQ Option Shuffling : Yes Display Question Number : Yes
Single Line Question Option : No Option Orientation : Vertical

Correct Marks : 1 Wrong Marks : 0.25

Which of the following provision was not borrowed by Indian Constitution from the Canadian Constitution?

Options :

1. ✗ Federation with a strong centre
2. ✗ Appointment of state governors by centre
3. ✗ Advisory jurisdiction of the supreme court
4. ✓ Nominatioj of members to Rajya sabha

Question Number : 37 Question Id : 71939924093 Question Type : MCQ Option Shuffling : Yes Display Question Number : Yes
Single Line Question Option : No Option Orientation : Vertical

Correct Marks : 1 Wrong Marks : 0.25

निम्नलिखित में से कौन सा प्रावधान कनाडा के संविधान से भारतीय संविधान द्वारा उधार नहीं लिया गया है?

Options :

- ✖ सशक्त केन्द्र के साथ संघीय व्यवस्था
- ✖ केन्द्र द्वारा राज्य के राज्यपालों की नियुक्ति
- ✖ उच्चतम न्यायालय का परामर्शी निर्णयन
- ✔ राज्य सभा के लिए सदस्यों का नामांकन

Question Number : 38 Question Id : 71939924094 Question Type : MCQ Option Shuffling : Yes Display Question Number : Yes
Single Line Question Option : No Option Orientation : Vertical

Correct Marks : 1 Wrong Marks : 0.25

Which of the following statements regarding the office of the Comptroller and Auditor General of India is incorrect?

Options :

- ✖ The Comptroller and Auditor General of India is appointed by the President.
- ✖ The procedure and the grounds for his removal from office are the same as for a Supreme Court judge.
- ✔ He is eligible for further office under the union or a state government after he ceases to hold his office.
- ✖ The accounts of the Union and of the states shall be kept in such form as the President may, on the advice of the CAG, prescribe.

Question Number : 38 Question Id : 71939924094 Question Type : MCQ Option Shuffling : Yes Display Question Number : Yes
Single Line Question Option : No Option Orientation : Vertical

Correct Marks : 1 Wrong Marks : 0.25

भारत के नियंत्रक और महालेखा परीक्षक के कार्यालय के बारे में निम्नलिखित कथनों में से कौन सा सही नहीं है?

Options :

- ✖ भारत के नियंत्रक और महालेखा परीक्षक की नियुक्ति राष्ट्रपति द्वारा की जाती है।
- ✖ उनके पद से हटाने की प्रक्रिया और आधार सर्वोच्च न्यायालय के न्यायाधीश के लिए समान है।
- ✔ वह अपने पद पर आसीन होने के बाद संघ या राज्य सरकार के तहत आगे के कार्यालय के लिए पात्र है।
- ✖ नियंत्रक और महालेखा परीक्षक की सलाह पर राष्ट्रपति और संघ के राज्यों के खातों को राष्ट्रपति के रूप में इस तरह रखा जाएगा।

Question Number : 39 Question Id : 71939924095 Question Type : MCQ Option Shuffling : Yes Display Question Number : Yes
Single Line Question Option : No Option Orientation : Vertical

Correct Marks : 1 Wrong Marks : 0.25

Who was the host IAAF World Athletics Championship 2019?

Options :

- ✖ Paris
- ✖ Ulaanbaatar
- ✖ Beijing
- ✔ Doha

Question Number : 39 Question Id : 71939924095 Question Type : MCQ Option Shuffling : Yes Display Question Number : Yes
Single Line Question Option : No Option Orientation : Vertical

Correct Marks : 1 Wrong Marks : 0.25

आईएएफ विश्व एथलेटिक्स चैंपियनशिप 2019 का मेजबान कौन करेगा?

Options :

- ✖ पेरिस
- ✖ उलानबातर
- ✖ बीजिंग
- ✔ दोहा

Question Number : 40 Question Id : 71939924096 Question Type : MCQ Option Shuffling : Yes Display Question Number : Yes
Single Line Question Option : No Option Orientation : Vertical

Correct Marks : 1 Wrong Marks : 0.25

Rovers Cup is associated with which sport?

Options :

- 1. ✖ Cricket
- 2. ✔ Football
- 3. ✖ Hockey
- 4. ✖ Golf

Question Number : 40 Question Id : 71939924096 Question Type : MCQ Option Shuffling : Yes Display Question Number : Yes
Single Line Question Option : No Option Orientation : Vertical

Correct Marks : 1 Wrong Marks : 0.25

रोवरस कप किस खेल से संबंधित है?

Options :

- 1. ✖ क्रिकेट
- 2. ✔ फुटबॉल
- 3. ✖ हॉकी
- 4. ✖ गोल्फ

Arithmetic Ability

Group Number :	3
Group Id :	719399961
Group Maximum Duration :	0
Group Minimum Duration :	0
Revisit allowed for view? :	No
Revisit allowed for edit? :	No
Break time:	0
Group Marks:	20
Revisit allowed for group Instructions? :	Yes
Maximum Instruction Time:	0
Minimum Instruction Time:	0

Arithmetic Ability

Section Id :	7193991071
Section Number :	1
Section type :	Online
Mandatory or Optional:	Mandatory
Number of Questions:	20
Number of Questions to be attempted:	20
Section Marks:	20
Display Number Panel:	Yes
Group All Questions:	No

Sub-Section Number:	1
Sub-Section Id:	7193991287

Question Number : 41 Question Id : 71939924097 Question Type : MCQ Option Shuffling : Yes Display Question Number : Yes
Single Line Question Option : No Option Orientation : Vertical

Correct Marks : 1 Wrong Marks : 0.25

What is the HCF of $6, 3\frac{9}{17}$ and $\frac{36}{51}$?

Options :

1. ✖ 3/17
2. ✔ 6/17
3. ✖ 3/14
4. ✖ 3/8

Question Number : 41 Question Id : 71939924097 Question Type : MCQ Option Shuffling : Yes Display Question Number : Yes
Single Line Question Option : No Option Orientation : Vertical

Correct Marks : 1 Wrong Marks : 0.25

$6, 3\frac{9}{17}$ तथा $\frac{36}{51}$ का महत्तम समापवर्तक क्या है?

Options :

1. ✖ 3/17
2. ✔ 6/17
3. ✖ 3/14
4. ✖ 3/8

Question Number : 42 Question Id : 71939924098 Question Type : MCQ Option Shuffling : Yes Display Question Number : Yes
Single Line Question Option : No Option Orientation : Vertical

Correct Marks : 1 Wrong Marks : 0.25

What is the value of $\frac{5+6-2\times 4\div 8-3+10+8}{5}$?

Options :

1. ✖ 4
2. ✔ 5
3. ✖ 6
4. ✖ 7

Question Number : 42 Question Id : 71939924098 Question Type : MCQ Option Shuffling : Yes Display Question Number : Yes
Single Line Question Option : No Option Orientation : Vertical

Correct Marks : 1 Wrong Marks : 0.25

$\frac{5+6-2\times 4\div 8-3+10+8}{5}$ का मान क्या है?

Options :

1. ✖ 4
2. ✔ 5
3. ✖ 6
4. ✖ 7

Question Number : 43 Question Id : 71939924099 Question Type : MCQ Option Shuffling : Yes Display Question Number : Yes
Single Line Question Option : No Option Orientation : Vertical

Correct Marks : 1 Wrong Marks : 0.25

What is the greatest number that will divide 728 and 900, leaving the remainder 8 and 4 respectively?

Options :

1. ✓ 16

2. ✗ 14

3. ✗ 24

4. ✗ 15

Question Number : 43 Question Id : 71939924099 Question Type : MCQ Option Shuffling : Yes Display Question Number : Yes
Single Line Question Option : No Option Orientation : Vertical

Correct Marks : 1 Wrong Marks : 0.25

वह सबसे बड़ी संख्या क्या है जो 728 तथा 900 को विभाजित करने पर शेष क्रमशः 8 तथा 4 बचाती है?

Options :

1. ✓ 16

2. ✗ 14

3. ✗ 24

4. ✗ 15

Question Number : 44 Question Id : 71939924100 Question Type : MCQ Option Shuffling : Yes Display Question Number : Yes
Single Line Question Option : No Option Orientation : Vertical

Correct Marks : 1 Wrong Marks : 0.25

What is the value of $\frac{1}{7} + \left[\frac{7}{9} - \left(\frac{3}{9} + \frac{2}{9} \right) - \frac{2}{9} \right] + 8 \div 4(3-2) \times 4 + 3 - 7$?

Options :

1. ✓ 29/7

2. ✗ 39/7

3. ✗ 6

4. ✗ 4

Question Number : 44 Question Id : 71939924100 Question Type : MCQ Option Shuffling : Yes Display Question Number : Yes
Single Line Question Option : No Option Orientation : Vertical

Correct Marks : 1 Wrong Marks : 0.25

$\frac{1}{7} + \left[\frac{7}{9} - \left(\frac{3}{9} + \frac{2}{9} \right) - \frac{2}{9} \right] + 8 \div 4(3-2) \times 4 + 3 - 7$ का मान क्या है?

Options :

1. ✓ 29/7

2. ✗ 39/7

3. ✗ 6

4. ✗ 4

Question Number : 45 Question Id : 71939924101 Question Type : MCQ Option Shuffling : Yes Display Question Number : Yes
Single Line Question Option : No Option Orientation : Vertical

Correct Marks : 1 Wrong Marks : 0.25

If $A = \frac{1}{3 + \frac{1}{1 + \frac{1}{2 + \frac{1}{4}}}}$, then what is the value of 24A?

Options :

1. ✓ 13/2
2. ✗ 13/40
3. ✗ 13/4
4. ✗ 13/12

Question Number : 45 Question Id : 71939924101 Question Type : MCQ Option Shuffling : Yes Display Question Number : Yes
Single Line Question Option : No Option Orientation : Vertical

Correct Marks : 1 Wrong Marks : 0.25

यदि $A = \frac{1}{3 + \frac{1}{1 + \frac{1}{2 + \frac{1}{4}}}}$, तो 24A का मान क्या है?

Options :

1. ✓ 13/2
2. ✗ 13/40
3. ✗ 13/4
4. ✗ 13/12

Question Number : 46 Question Id : 71939924102 Question Type : MCQ Option Shuffling : Yes Display Question Number : Yes
Single Line Question Option : No Option Orientation : Vertical

Correct Marks : 1 Wrong Marks : 0.25

Ratio of selling price to marked price is 3 : 7. What is the discount percentage?

Options :

1. ✓ 57.14 percent
2. ✗ 56.14 percent
3. ✗ 42.85 percent
4. ✗ 48.56 percent

Question Number : 46 Question Id : 71939924102 Question Type : MCQ Option Shuffling : Yes Display Question Number : Yes
Single Line Question Option : No Option Orientation : Vertical

Correct Marks : 1 Wrong Marks : 0.25

विक्रय मूल्य का अंकित मूल्य से अनुपात 3 : 7 है। छूट का प्रतिशत क्या है?

Options :

1. ✓ 57.14 प्रतिशत
2. ✗ 56.14 प्रतिशत
3. ✗ 42.85 प्रतिशत
4. ✗ 48.56 प्रतिशत

Question Number : 47 Question Id : 71939924103 Question Type : MCQ Option Shuffling : Yes Display Question Number : Yes
Single Line Question Option : No Option Orientation : Vertical

Correct Marks : 1 Wrong Marks : 0.25

Price of rice is increased by 55%. By how much percentage a household should reduce her consumption to keep the expenditure same?

Options :

1. ✓ 35.48 percent
2. ✗ 37.83 percent
3. ✗ 36.53 percent
4. ✗ 39.85 percent

Question Number : 47 Question Id : 71939924103 Question Type : MCQ Option Shuffling : Yes Display Question Number : Yes
Single Line Question Option : No Option Orientation : Vertical

Correct Marks : 1 Wrong Marks : 0.25

चावल के मूल्य को 55% से बढ़ाया गया है। व्यय को समान रखने के लिए एक गृहणी को अपनी खपत कितने प्रतिशत से कम कर देनी चाहिए?

Options :

1. ✓ 35.48 प्रतिशत
2. ✗ 37.83 प्रतिशत
3. ✗ 36.53 प्रतिशत
4. ✗ 39.85 प्रतिशत

Question Number : 48 Question Id : 71939924104 Question Type : MCQ Option Shuffling : Yes Display Question Number : Yes
Single Line Question Option : No Option Orientation : Vertical

Correct Marks : 1 Wrong Marks : 0.25

The radius of a sphere is firstly decreased by 33.33% and then increased by x%. If there is no change in the surface area of sphere, then what is the value of x?

Options :

1. ✗ 30
2. ✗ 25
3. ✗ 75
4. ✓ 50

Question Number : 48 Question Id : 71939924104 Question Type : MCQ Option Shuffling : Yes Display Question Number : Yes
Single Line Question Option : No Option Orientation : Vertical

Correct Marks : 1 Wrong Marks : 0.25

एक गोले की त्रिज्या को पहले 33.33% से घटाया गया है तथा फिर x% से बढ़ाया गया है। यदि गोले के पृष्ठीय क्षेत्रफल में कोई बदलाव नहीं हुआ है, तो x का मान क्या है?

Options :

1. ✗ 30
2. ✗ 25
3. ✗ 75
4. ✓ 50

Question Number : 49 Question Id : 71939924105 Question Type : MCQ Option Shuffling : Yes Display Question Number : Yes
Single Line Question Option : No Option Orientation : Vertical

Correct Marks : 1 Wrong Marks : 0.25

Jiten calculates the profit/loss on selling price. Jiten sold an article G at a profit of 20% and the cost price of article G is Rs. 1200. Prem calculates his profit/loss on cost price. Prem sold a article M for Rs. 1125 at a loss of 25%. What is the ratio of cost price of article M to the selling price of article G?

Options :

1. ✗ 3 : 2
2. ✗ 2 : 5

3. ✖ 1 : 3

4. ✔ 1 : 1

Question Number : 49 Question Id : 71939924105 Question Type : MCQ Option Shuffling : Yes Display Question Number : Yes
Single Line Question Option : No Option Orientation : Vertical

Correct Marks : 1 Wrong Marks : 0.25

जितेन अपने लाभ/हानि को विक्रय मूल्य पर परिकलित करता है। जितेन ने एक वस्तु G 20% के लाभ पर बेची तथा G का क्रय मूल्य 1200 रुपये है। प्रेम अपना लाभ/हानि क्रय मूल्य पर परिकलित करता है। प्रेम ने एक वस्तु M 1125 रुपये में 25% की हानि पर बेच दी। वस्तु M के क्रय मूल्य का वस्तु G के विक्रय मूल्य से क्या अनुपात है?

Options :

1. ✖ 3 : 2

2. ✖ 2 : 5

3. ✖ 1 : 3

4. ✔ 1 : 1

Question Number : 50 Question Id : 71939924106 Question Type : MCQ Option Shuffling : Yes Display Question Number : Yes
Single Line Question Option : No Option Orientation : Vertical

Correct Marks : 1 Wrong Marks : 0.25

Rahul spends some part of his income and saves the remaining part. The ratio of his expenditure and saving is 4 : 5 respectively. If Rahul's income is Rs. 90000, then what will be his expenditure?

Options :

1. ✖ Rs. 50000

2. ✔ Rs. 40000

3. ✖ Rs. 30000

4. ✖ Rs. 35000

Question Number : 50 Question Id : 71939924106 Question Type : MCQ Option Shuffling : Yes Display Question Number : Yes
Single Line Question Option : No Option Orientation : Vertical

Correct Marks : 1 Wrong Marks : 0.25

राहुल अपनी आय का कुछ भाग खर्च करता है तथा शेष भाग बचाता है। उसके व्यय तथा बचत का अनुपात क्रमशः 4 : 5 है। यदि राहुल की आय 90000 रुपये है, तो उसका व्यय क्या होगा?

Options :

1. ✖ 50000 रुपये

2. ✔ 40000 रुपये

3. ✖ 30000 रुपये

4. ✖ 35000 रुपये

Question Number : 51 Question Id : 71939924107 Question Type : MCQ Option Shuffling : Yes Display Question Number : Yes
Single Line Question Option : No Option Orientation : Vertical

Correct Marks : 1 Wrong Marks : 0.25

A sum of Rs. 3242 is divided among X, Y and Z such that if Rs. 18, Rs. 13 and Rs. 11 be diminish from the shares of X, Y and Z respectively, then their shares will be in the ratio 3 : 6 : 7. What is the new share of Z?

Options :

1. ✖ Rs. 900

2. ✖ Rs. 975

3. ✖ Rs. 1200

4. ✔ Rs. 1400

Question Number : 51 Question Id : 71939924107 Question Type : MCQ Option Shuffling : Yes Display Question Number : Yes
Single Line Question Option : No Option Orientation : Vertical

Correct Marks : 1 Wrong Marks : 0.25

3242 रुपये की राशि को X, Y तथा Z में इस प्रकार विभाजित किया गया है कि यदि X, Y तथा Z के हिस्सों में से क्रमशः 18 रुपये, 13 रुपये तथा 11 रुपये कम कर दिए जाए, तो उनके हिस्से 3 : 6 : 7 के अनुपात में होंगे Z का नया हिस्सा क्या है?

Options :

1. ✖ 900 रुपये
2. ✖ 975 रुपये
3. ✖ 1200 रुपये
4. ✔ 1400 रुपये

Question Number : 52 Question Id : 71939924108 Question Type : MCQ Option Shuffling : Yes Display Question Number : Yes Single Line Question Option : No Option Orientation : Vertical

Correct Marks : 1 Wrong Marks : 0.25

A sum becomes Rs. 21000 on compound interest (compounding annually) after one year. This sum becomes Rs. 22050 on compound interest (compound annually) at the same rate after two years. What is the annual rate of interest?

Options :

1. ✖ 10 percent
2. ✖ 15 percent
3. ✖ 12 percent
4. ✔ 5 percent

Question Number : 52 Question Id : 71939924108 Question Type : MCQ Option Shuffling : Yes Display Question Number : Yes Single Line Question Option : No Option Orientation : Vertical

Correct Marks : 1 Wrong Marks : 0.25

एक वर्ष के पश्चात एक राशि चक्रवृद्धि ब्याज (वार्षिक संयोजन पर) पर 21000 रुपये हो जाती है। यही राशि समान दर से चक्रवृद्धि ब्याज पर (वार्षिक संयोजन पर) दो वर्षों के पश्चात 22050 रुपये हो जाती है। ब्याज की वार्षिक दर क्या है?

Options :

1. ✖ 10 प्रतिशत
2. ✖ 15 प्रतिशत
3. ✖ 12 प्रतिशत
4. ✔ 5 प्रतिशत

Question Number : 53 Question Id : 71939924109 Question Type : MCQ Option Shuffling : Yes Display Question Number : Yes Single Line Question Option : No Option Orientation : Vertical

Correct Marks : 1 Wrong Marks : 0.25

A 500 metres long train is running at the speed of 36 km/hr. If it crosses a bridge in 70 seconds, then what is the length of the bridge?

Options :

1. ✔ 200 metres
2. ✖ 300 metres
3. ✖ 100 metres
4. ✖ 400 metres

Question Number : 53 Question Id : 71939924109 Question Type : MCQ Option Shuffling : Yes Display Question Number : Yes Single Line Question Option : No Option Orientation : Vertical

Correct Marks : 1 Wrong Marks : 0.25

एक 500 मीटर लम्बी रेलगाड़ी 36 कि.मी./घंटा की गति से चल रही है। यदि वह एक पुल को 70 सेकण्ड में पार करती है, तो पुल की लम्बाई क्या है?

Options :

1. ✔ 200 मीटर
2. ✖ 300 मीटर

- 3. ✖ 100 मीटर
- 4. ✖ 400 मीटर

Question Number : 54 Question Id : 71939924110 Question Type : MCQ Option Shuffling : Yes Display Question Number : Yes
Single Line Question Option : No Option Orientation : Vertical

Correct Marks : 1 Wrong Marks : 0.25

A scooter runs at a speed of 36 km/hr after repairing and runs at speed of 30 km/hr before repairing. It covers a certain distance in 2 hours after repairing. How much time will it take to cover the same distance before repairing?

Options :

- 1. ✖ 24/7 hours
- 2. ✔ 12/5 hours
- 3. ✖ 12/7 hours
- 4. ✖ 24/5 hours

Question Number : 54 Question Id : 71939924110 Question Type : MCQ Option Shuffling : Yes Display Question Number : Yes
Single Line Question Option : No Option Orientation : Vertical

Correct Marks : 1 Wrong Marks : 0.25

एक स्कूटर मरम्मत कराने के बाद 36 कि.मी. /घंटा की गति से चलता है तथा मरम्मत कराने से पहले 30 कि.मी. /घंटा की गति से चलता है। मरम्मत कराने के बाद वह एक निश्चित दूरी को 2 घंटे में तय करता है। मरम्मत कराने से पहले यह समान दूरी को तय करने में कितना समय लेगा?

Options :

- 1. ✖ 24/7 घंटे
- 2. ✔ 12/5 घंटे
- 3. ✖ 12/7 घंटे
- 4. ✖ 24/5 घंटे

Question Number : 55 Question Id : 71939924111 Question Type : MCQ Option Shuffling : Yes Display Question Number : Yes
Single Line Question Option : No Option Orientation : Vertical

Correct Marks : 1 Wrong Marks : 0.25

Vivek and Mohit alone can complete a work in 42 days and 56 days respectively Vivek and Mohit start together but Mohit left after 12 days from the beginning. How many days will it take to complete the remaining work?

Options :

- 1. ✔ 21 days
- 2. ✖ 24 days
- 3. ✖ 18 days
- 4. ✖ 15 days

Question Number : 55 Question Id : 71939924111 Question Type : MCQ Option Shuffling : Yes Display Question Number : Yes
Single Line Question Option : No Option Orientation : Vertical

Correct Marks : 1 Wrong Marks : 0.25

विवेक तथा मोहित अकेले एक कार्य को क्रमशः 42 दिन तथा 56 दिन में पूरा कर सकते हैं। विवेक तथा मोहित एक साथ आरंभ करते हैं परंतु मोहित शुरुआत से 12 दिन के पश्चात कार्य छोड़ देता है। शेष कार्य पूरा करने में कुल कितने दिन लगेंगे?

Options :

- 1. ✔ 21 दिन
- 2. ✖ 24 दिन
- 3. ✖ 18 दिन
- 4. ✖ 15 दिन

Question Number : 56 Question Id : 71939924112 Question Type : MCQ Option Shuffling : Yes Display Question Number : Yes
Single Line Question Option : No Option Orientation : Vertical

Correct Marks : 1 Wrong Marks : 0.25

A solid cuboid of length, breadth and height 40 cm, 35 cm and 20 cm is melted to form identical cubes of side 4 cm. 20% of solid cuboid is wasted in melting. What is the total number of small cubes?

Options :

1. ✖ 400
2. ✔ 350
3. ✖ 380
4. ✖ 440

Question Number : 56 Question Id : 71939924112 Question Type : MCQ Option Shuffling : Yes Display Question Number : Yes
Single Line Question Option : No Option Orientation : Vertical

Correct Marks : 1 Wrong Marks : 0.25

40 से.मी., 35 से.मी. तथा 20 से.मी. आयाम वाले एक ठोस घनाभ को पिघलाकर 4 से.मी. भुजा वाले समान घन बनाए जाते हैं। ठोस घनाभ का 20% पिघलाने में खराब हो जाता है। छोटे घन की कुल संख्या क्या है?

Options :

1. ✖ 400
2. ✔ 350
3. ✖ 380
4. ✖ 440

Question Number : 57 Question Id : 71939924113 Question Type : MCQ Option Shuffling : Yes Display Question Number : Yes
Single Line Question Option : No Option Orientation : Vertical

Correct Marks : 1 Wrong Marks : 0.25

Perimeter of a rectangle is equal to the circumference of a circle whose radius is 21 cm. If the area of rectangle is 864 cm^2 , then what will be the length of the diagonal of a rectangle?

Options :

1. ✖ $5\sqrt{102} \text{ cm}$
2. ✖ $6\sqrt{87} \text{ cm}$
3. ✖ $9\sqrt{83} \text{ cm}$
4. ✔ $6\sqrt{73} \text{ cm}$

Question Number : 57 Question Id : 71939924113 Question Type : MCQ Option Shuffling : Yes Display Question Number : Yes
Single Line Question Option : No Option Orientation : Vertical

Correct Marks : 1 Wrong Marks : 0.25

एक आयत का परिमाण, एक वृत्त की परिधि के बराबर है जिसकी त्रिज्या 21 से.मी. है। यदि आयत का क्षेत्रफल 864 से.मी.^2 है, तो आयत के विकर्ण की लम्बाई क्या होगी?

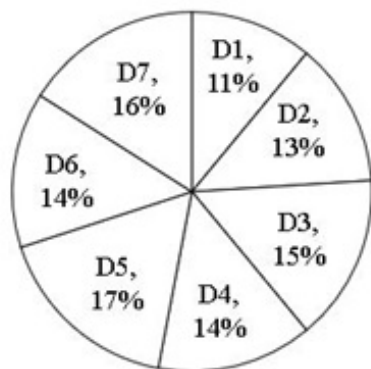
Options :

1. ✖ $5\sqrt{102} \text{ से.मी.}$
2. ✖ $6\sqrt{87} \text{ से.मी.}$
3. ✖ $9\sqrt{83} \text{ से.मी.}$
4. ✔ $6\sqrt{73} \text{ से.मी.}$

Question Number : 58 Question Id : 71939924114 Question Type : MCQ Option Shuffling : Yes Display Question Number : Yes
Single Line Question Option : No Option Orientation : Vertical

Correct Marks : 1 Wrong Marks : 0.25

The pie chart given below shows the number of aeroplane that departed from the particular airport on different days of a week. The number of aeroplane that departed on a particular day is shown as a percentage of total number of aeroplane that departed on all the days of a week.



what is the central angle subtend by the sector for day D4?

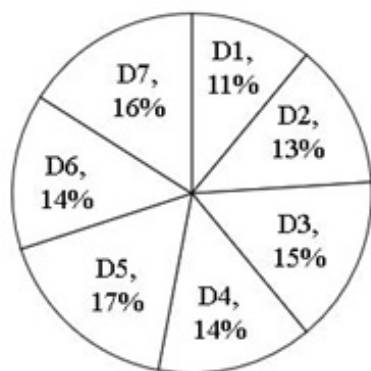
Options :

1. ✖ 18°
2. ✖ 30°
3. ✖ 44°
4. ✔ 50.4°

Question Number : 58 Question Id : 71939924114 Question Type : MCQ Option Shuffling : Yes Display Question Number : Yes Single Line Question Option : No Option Orientation : Vertical

Correct Marks : 1 Wrong Marks : 0.25

नीचे दिया गया वृत्त चित्र एक हवाई अड्डे से सप्ताह के विभिन्न दिनों पर जाने वाले हवाई जहाज की संख्या को दर्शाता है। किसी विशिष्ट दिन पर जाने वाले हवाई जहाज की संख्या को सभी दिनों पर जाने वाले कुल हवाई जहाज की संख्या के रूप में दर्शाता गया है।



D4 दिन द्वारा बनाया गया केंद्रीय कोण क्या है?

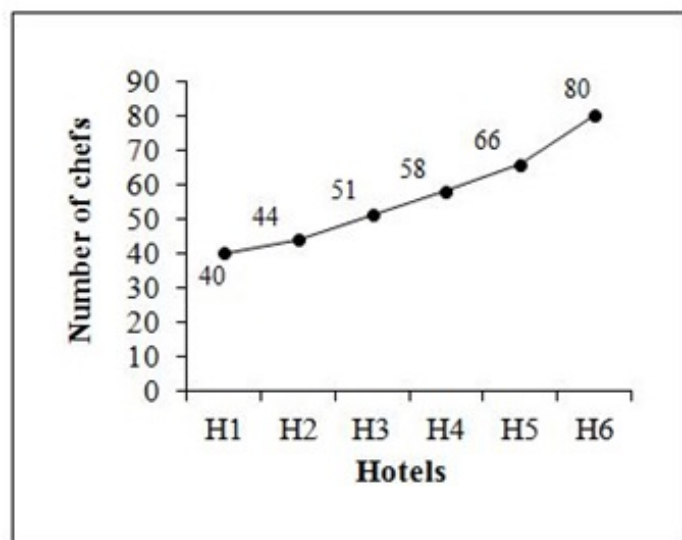
Options :

1. ✖ 18°
2. ✖ 30°
3. ✖ 44°
4. ✔ 50.4°

Question Number : 59 Question Id : 71939924115 Question Type : MCQ Option Shuffling : Yes Display Question Number : Yes Single Line Question Option : No Option Orientation : Vertical

Correct Marks : 1 Wrong Marks : 0.25

The line graph given below shows the number of chefs in different hotels of a city.



If A represents the total number of chefs in hotels H2 and H3 and B represents the total number of chefs in hotels H1 and H6, then B is what percentage of A?

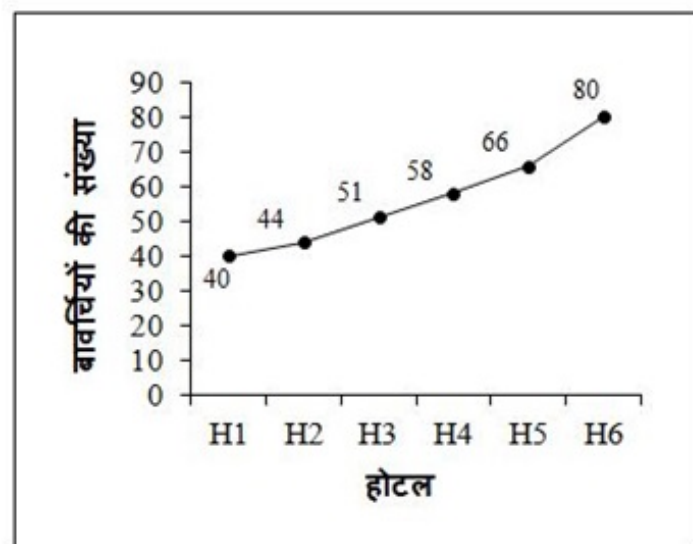
Options :

1. ✗ 122.37 percent
2. ✓ 126.31 percent
3. ✗ 130.31 percent
4. ✗ 134.37 percent

Question Number : 59 Question Id : 71939924115 Question Type : MCQ Option Shuffling : Yes Display Question Number : Yes Single Line Question Option : No Option Orientation : Vertical

Correct Marks : 1 Wrong Marks : 0.25

नीचे दिया गया रेखा चित्र एक शहर के विभिन्न होटल में बावर्चियों की संख्या को दर्शाता है।



यदि A होटल H2 तथा H3 में कुल बावर्चियों की संख्या को निरूपित करता है तथा B होटल H1 तथा H6 में कुल बावर्चियों की संख्या को निरूपित करता है, तो B, A का कितना प्रतिशत है?

Options :

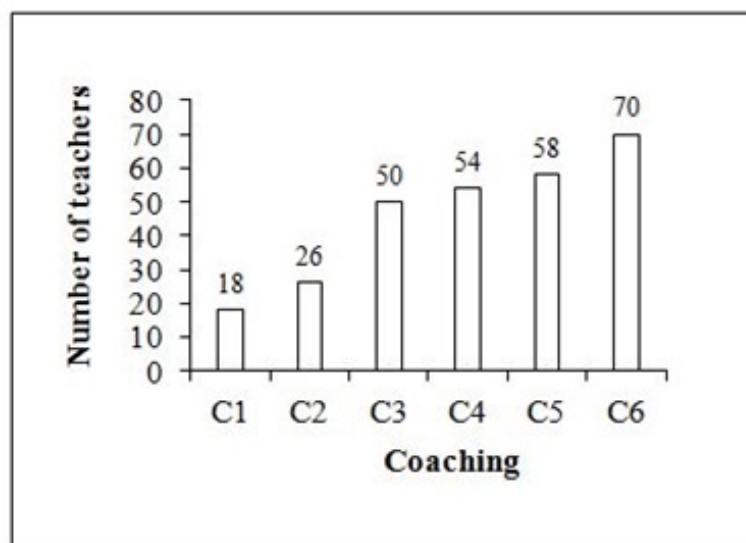
1. ✗ 122.37 प्रतिशत
2. ✓ 126.31 प्रतिशत
3. ✗ 130.31 प्रतिशत

4. ✖ 134.37 प्रतिशत

Question Number : 60 Question Id : 71939924116 Question Type : MCQ Option Shuffling : Yes Display Question Number : Yes
Single Line Question Option : No Option Orientation : Vertical

Correct Marks : 1 Wrong Marks : 0.25

The bar graph given below shows the number of teachers in different coaching of a city.



The number of teachers in coaching C6 is how much less than the total number of teachers in all the 6 coachings?

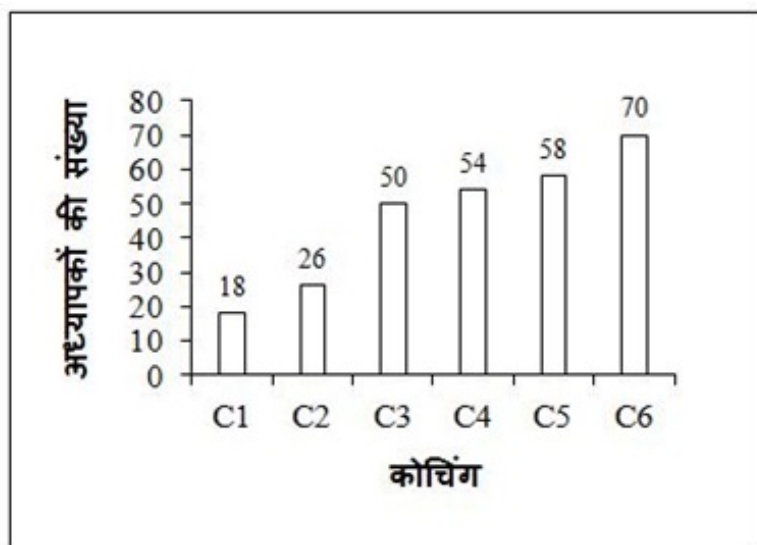
Options :

1. ✖ 202
2. ✖ 204
3. ✔ 206
4. ✖ 210

Question Number : 60 Question Id : 71939924116 Question Type : MCQ Option Shuffling : Yes Display Question Number : Yes
Single Line Question Option : No Option Orientation : Vertical

Correct Marks : 1 Wrong Marks : 0.25

नीचे दिया गया दण्ड चित्र एक शहर के विभिन्न कोचिंग में अध्यापकों की संख्या को दर्शाता है।



C6 कोचिंग में अध्यापकों की संख्या सभी कोचिंग में कुल अध्यापकों की संख्या से कितनी कम है?

Options :

1. ✖ 202
2. ✖ 204
3. ✔ 206
4. ✖ 210

General English

Group Number :	4
Group Id :	719399962
Group Maximum Duration :	0
Group Minimum Duration :	0
Revisit allowed for view? :	No
Revisit allowed for edit? :	No
Break time:	0
Group Marks:	20
Revisit allowed for group Instructions? :	Yes
Maximum Instruction Time:	0
Minimum Instruction Time:	0

General English

Section Id :	7193991072
Section Number :	1
Section type :	Online
Mandatory or Optional:	Mandatory
Number of Questions:	16
Number of Questions to be attempted:	16
Section Marks:	20
Display Number Panel:	Yes
Group All Questions:	No

Sub-Section Number:	1
Sub-Section Id:	7193991288
Question Shuffling Allowed :	Yes

Question Number : 61 Question Id : 71939924117 Question Type : MCQ Option Shuffling : Yes Display Question Number : Yes
Single Line Question Option : No Option Orientation : Vertical

Correct Marks : 1 Wrong Marks : 0.25

Find the part of the given sentence that has an error in it. If there is no error, choose 'No error'.

The country (1)/ expect us to (2)/ do our duty (3)/ No error (4)

Options :

1. ✖ 1
2. ✔ 2
3. ✖ 3
4. ✖ 4

Question Number : 61 Question Id : 71939924117 Question Type : MCQ Option Shuffling : Yes Display Question Number : Yes
Single Line Question Option : No Option Orientation : Vertical

Correct Marks : 1 Wrong Marks : 0.25

Find the part of the given sentence that has an error in it. If there is no error, choose 'No error'.

The country (1)/ expect us to (2)/ do our duty (3)/ No error (4)

Options :

1. ✖ 1

2. ✔ 2

3. ✖ 3

4. ✖ 4

Question Number : 62 Question Id : 71939924118 Question Type : MCQ Option Shuffling : Yes Display Question Number : Yes Single Line Question Option : No Option Orientation : Vertical

Correct Marks : 1 Wrong Marks : 0.25

Find the part of the given sentence that has an error in it. If there is no error, choose 'No error'.

Everybody admitted (1)/ that she has (2)/ doing her best (3)/ No error (4)

Options :

1. ✖ 1

2. ✖ 2

3. ✔ 3

4. ✖ 4

Question Number : 62 Question Id : 71939924118 Question Type : MCQ Option Shuffling : Yes Display Question Number : Yes Single Line Question Option : No Option Orientation : Vertical

Correct Marks : 1 Wrong Marks : 0.25

Find the part of the given sentence that has an error in it. If there is no error, choose 'No error'.

Everybody admitted (1)/ that she has (2)/ doing her best (3)/ No error (4)

Options :

1. ✖ 1

2. ✖ 2

3. ✔ 3

4. ✖ 4

Question Number : 63 Question Id : 71939924119 Question Type : MCQ Option Shuffling : Yes Display Question Number : Yes Single Line Question Option : No Option Orientation : Vertical

Correct Marks : 1 Wrong Marks : 0.25

Improve the bracketed part of the sentence.

The teacher (agree) to answer all the questions.

Options :

1. ✖ agreeing

2. ✖ has agreeing

3. ✔ agreed

4. ✖ No improvement

Question Number : 63 Question Id : 71939924119 Question Type : MCQ Option Shuffling : Yes Display Question Number : Yes Single Line Question Option : No Option Orientation : Vertical

Correct Marks : 1 Wrong Marks : 0.25

Improve the bracketed part of the sentence.

The teacher (agree) to answer all the questions.

Options :

1. ✖ agreeing
2. ✖ has agreeing
3. ✔ agreed
4. ✖ No improvement

Question Number : 64 Question Id : 71939924120 Question Type : MCQ Option Shuffling : Yes Display Question Number : Yes
Single Line Question Option : No Option Orientation : Vertical

Correct Marks : 1 Wrong Marks : 0.25

Improve the bracketed part of the sentence.

It does not take much to (make) her angry.

Options :

1. ✖ making
2. ✖ made
3. ✖ makes
4. ✔ No improvement

Question Number : 64 Question Id : 71939924120 Question Type : MCQ Option Shuffling : Yes Display Question Number : Yes
Single Line Question Option : No Option Orientation : Vertical

Correct Marks : 1 Wrong Marks : 0.25

Improve the bracketed part of the sentence.

It does not take much to (make) her angry.

Options :

1. ✖ making
2. ✖ made
3. ✖ makes
4. ✔ No improvement

Question Number : 65 Question Id : 71939924121 Question Type : MCQ Option Shuffling : Yes Display Question Number : Yes
Single Line Question Option : No Option Orientation : Vertical

Correct Marks : 1 Wrong Marks : 0.25

A sentence has been given with a blank to be filled with an appropriate word. Choose the correct alternative.

Flowers _____ the beauty of our surroundings.

Options :

1. ✖ embellishment
2. ✔ enhance
3. ✖ replenish
4. ✖ destroys

Question Number : 65 Question Id : 71939924121 Question Type : MCQ Option Shuffling : Yes Display Question Number : Yes
Single Line Question Option : No Option Orientation : Vertical

Correct Marks : 1 Wrong Marks : 0.25

A sentence has been given with a blank to be filled with an appropriate word. Choose the correct alternative.

Flowers _____ the beauty of our surroundings.

Options :

1. ✖ embellishment
2. ✔ enhance
3. ✖ replenish
4. ✖ destroys

Question Number : 66 Question Id : 71939924122 Question Type : MCQ Option Shuffling : Yes Display Question Number : Yes
Single Line Question Option : No Option Orientation : Vertical

Correct Marks : 1 Wrong Marks : 0.25

A sentence has been given with a blank to be filled with an appropriate word. Choose the correct alternative.

I congratulated him _____ his promotion.

Options :

1. ✖ due to
2. ✔ on
3. ✖ for
4. ✖ because of

Question Number : 66 Question Id : 71939924122 Question Type : MCQ Option Shuffling : Yes Display Question Number : Yes
Single Line Question Option : No Option Orientation : Vertical

Correct Marks : 1 Wrong Marks : 0.25

A sentence has been given with a blank to be filled with an appropriate word. Choose the correct alternative.

I congratulated him _____ his promotion.

Options :

1. ✖ due to
2. ✔ on
3. ✖ for
4. ✖ because of

Question Number : 67 Question Id : 71939924123 Question Type : MCQ Option Shuffling : Yes Display Question Number : Yes
Single Line Question Option : No Option Orientation : Vertical

Correct Marks : 1 Wrong Marks : 0.25

Rearrange the parts of the sentence in correct order.

P: in schools

Q: other activities

R: take precedence over

S: academic subjects

Options :

1. ✖ PQSR
2. ✖ QPSR
3. ✖ SRPQ
4. ✔ SRQP

Question Number : 67 Question Id : 71939924123 Question Type : MCQ Option Shuffling : Yes Display Question Number : Yes
Single Line Question Option : No Option Orientation : Vertical

Correct Marks : 1 Wrong Marks : 0.25

Rearrange the parts of the sentence in correct order.

P: in schools
Q: other activities
R: take precedence over
S: academic subjects

Options :

1. ✖ PQSR
2. ✖ QPSR
3. ✖ SRPQ
4. ✔ SRQP

Question Number : 68 Question Id : 71939924124 Question Type : MCQ Option Shuffling : Yes Display Question Number : Yes
Single Line Question Option : No Option Orientation : Vertical

Correct Marks : 1 Wrong Marks : 0.25

Rearrange the parts of the sentence in correct order.

P: high fever and
Q: on her bed
R: she laid motionless
S: she had

Options :

1. ✖ PQRS
2. ✔ SPRQ
3. ✖ SPQR
4. ✖ SRPQ

Question Number : 68 Question Id : 71939924124 Question Type : MCQ Option Shuffling : Yes Display Question Number : Yes
Single Line Question Option : No Option Orientation : Vertical

Correct Marks : 1 Wrong Marks : 0.25

Rearrange the parts of the sentence in correct order.

P: high fever and
Q: on her bed
R: she laid motionless
S: she had

Options :

1. ✖ PQRS
2. ✔ SPRQ
3. ✖ SPQR
4. ✖ SRPQ

Question Number : 69 Question Id : 71939924125 Question Type : MCQ Option Shuffling : Yes Display Question Number : Yes
Single Line Question Option : No Option Orientation : Vertical

Correct Marks : 1 Wrong Marks : 0.25

Choose the word that is opposite in meaning to the given word.

Courtesy

Options :

1. ✖ Expand
2. ✖ Discord

3.  Obstacle

4.  Praise

Question Number : 69 Question Id : 71939924125 Question Type : MCQ Option Shuffling : Yes Display Question Number : Yes
Single Line Question Option : No Option Orientation : Vertical

Correct Marks : 1 Wrong Marks : 0.25

Choose the word that is opposite in meaning to the given word.

Courtesy

Options :

1.  Expand

2.  Discord

3.  Obstacle

4.  Praise

Question Number : 70 Question Id : 71939924126 Question Type : MCQ Option Shuffling : Yes Display Question Number : Yes
Single Line Question Option : No Option Orientation : Vertical

Correct Marks : 1 Wrong Marks : 0.25

Choose the word that is opposite in meaning to the given word.

Spiritual

Options :

1.  Earthly

2.  Legal

3.  Carnal

4.  Bodily

Question Number : 70 Question Id : 71939924126 Question Type : MCQ Option Shuffling : Yes Display Question Number : Yes
Single Line Question Option : No Option Orientation : Vertical

Correct Marks : 1 Wrong Marks : 0.25

Choose the word that is opposite in meaning to the given word.

Spiritual

Options :

1.  Earthly

2.  Legal

3.  Carnal

4.  Bodily

Question Number : 71 Question Id : 71939924127 Question Type : MCQ Option Shuffling : Yes Display Question Number : Yes
Single Line Question Option : No Option Orientation : Vertical

Correct Marks : 1 Wrong Marks : 0.25

In the given question, four words are given out of which one word is correctly spelt. Choose the correctly spelt word.

Options :

1.  Ambassador

2.  Ambasader

3.  Ambbassador

4.  Ammbasador

Question Number : 71 Question Id : 71939924127 Question Type : MCQ Option Shuffling : Yes Display Question Number : Yes
Single Line Question Option : No Option Orientation : Vertical

Correct Marks : 1 Wrong Marks : 0.25

In the given question, four words are given out of which one word is correctly spelt. Choose the correctly spelt word.

Options :

1. ✓ Ambassador
2. ✗ Ambasader
3. ✗ Ambbassador
4. ✗ Ammbasador

Question Number : 72 Question Id : 71939924128 Question Type : MCQ Option Shuffling : Yes Display Question Number : Yes
Single Line Question Option : No Option Orientation : Vertical

Correct Marks : 1 Wrong Marks : 0.25

In the given question, four words are given out of which one word is correctly spelt. Choose the correctly spelt word.

Options :

1. ✓ Beneficial
2. ✗ Benificial
3. ✗ Benefitial
4. ✗ Banefitle

Question Number : 72 Question Id : 71939924128 Question Type : MCQ Option Shuffling : Yes Display Question Number : Yes
Single Line Question Option : No Option Orientation : Vertical

Correct Marks : 1 Wrong Marks : 0.25

In the given question, four words are given out of which one word is correctly spelt. Choose the correctly spelt word.

Options :

1. ✓ Beneficial
2. ✗ Benificial
3. ✗ Benefitial
4. ✗ Banefitle

Question Number : 73 Question Id : 71939924129 Question Type : MCQ Option Shuffling : Yes Display Question Number : Yes
Single Line Question Option : No Option Orientation : Vertical

Correct Marks : 1 Wrong Marks : 0.25

In the following question, out of the given four alternatives, select the alternative which best expresses the meaning of the Idiom/Phrase.

Head over heels

Options :

1. ✗ A strange person
2. ✗ Here and there
3. ✗ Living is luxury
4. ✓ In love with

Question Number : 73 Question Id : 71939924129 Question Type : MCQ Option Shuffling : Yes Display Question Number : Yes
Single Line Question Option : No Option Orientation : Vertical

Correct Marks : 1 Wrong Marks : 0.25

In the following question, out of the given four alternatives, select the alternative which best expresses the meaning of the Idiom/Phrase.

Head over heels

Options :

1. ✖ A strange person
2. ✖ Here and there
3. ✖ Living is luxury
4. ✔ In love with

Question Number : 74 Question Id : 71939924130 Question Type : MCQ Option Shuffling : Yes Display Question Number : Yes
Single Line Question Option : No Option Orientation : Vertical

Correct Marks : 1 Wrong Marks : 0.25

In the following question, out of the given four alternatives, select the alternative which best expresses the meaning of the Idiom/Phrase.

Life and soul

Options :

1. ✔ Main support
2. ✖ Energetic
3. ✖ Old people
4. ✖ All over

Question Number : 74 Question Id : 71939924130 Question Type : MCQ Option Shuffling : Yes Display Question Number : Yes
Single Line Question Option : No Option Orientation : Vertical

Correct Marks : 1 Wrong Marks : 0.25

In the following question, out of the given four alternatives, select the alternative which best expresses the meaning of the Idiom/Phrase.

Life and soul

Options :

1. ✔ Main support
2. ✖ Energetic
3. ✖ Old people
4. ✖ All over

Question Number : 75 Question Id : 71939924131 Question Type : MCQ Option Shuffling : Yes Display Question Number : Yes
Single Line Question Option : No Option Orientation : Vertical

Correct Marks : 1 Wrong Marks : 0.25

Choose the word that can substitute the given sentence.

A person who sells and arranges cut flowers.

Options :

1. ✖ Zoology
2. ✖ Sculptor
3. ✔ Florist
4. ✖ Petrology

Question Number : 75 Question Id : 71939924131 Question Type : MCQ Option Shuffling : Yes Display Question Number : Yes
Single Line Question Option : No Option Orientation : Vertical

Correct Marks : 1 Wrong Marks : 0.25

Choose the word that can substitute the given sentence.

A person who sells and arranges cut flowers.

Options :

1. ✖ Zoology
2. ✖ Sculptor
3. ✔ Florist
4. ✖ Petrology

Sub-Section Number:	2
Sub-Section Id:	7193991289
Question Shuffling Allowed :	Yes

Question Id : 71939924132 Question Type : COMPREHENSION Sub Question Shuffling Allowed : Yes Group Comprehension Questions : No

Question Numbers : (76 to 80)

Question Label : Comprehension

Read the following information carefully and answer the given questions.

Big dams received a big push from politicians and bureaucracy pouring enormous amounts of borrowed money in the early years of Independence. There has however been hardly any attempt at questioning the extent of damage caused or in evaluating whether the promises of food, water and prosperity for all have actually been realised. The diversion of rivers and construction of a long system of canals in a densely populated country like India will involve displacement of people on a colossal scale and the people affected are never likely to agree with such measures. All over the world, community reaction is to prevent construction of large dams. Preserving rivers in free-flow condition is considered ecologically necessary and the construction of large dams is now legally prohibited in Sweden and also in parts of USA. The technical challenges to be faced in redrawing the geography of the country are many and full of dangerous consequences and the mad rush in pursuit of such a chimera will prove disastrous. The cost of the project is so stupendous that any water made available will cost so much that governments will have to be forever subsidizing farmers. What long-term impact this massive borrowing will have on the economy is difficult to foresee.

Sub questions

Question Number : 76 Question Id : 71939924133 Question Type : MCQ Option Shuffling : Yes Display Question Number : Yes Single Line Question Option : No Option Orientation : Vertical

Correct Marks : 1 Wrong Marks : 0.25

What is the thematic center of the passage?

Options :

1. ✖ Following the footsteps of Sweden and USA in banning the construction of dams.
2. ✔ Dams have proven to be bane rather than boon in the long run.
3. ✖ The social impact of dams over rides their economic impact.
4. ✖ Dams have proven to be bane rather than boon in the long run and the social impact of dams over rides their economic impact.

Question Number : 77 Question Id : 71939924134 Question Type : MCQ Option Shuffling : Yes Display Question Number : Yes Single Line Question Option : No Option Orientation : Vertical

Correct Marks : 1 Wrong Marks : 0.25

Which of the following statements is true?

Options :

1. ✖ The water made available through dams is better suited for industries than agricultural because of high costs.
2. ✖ Most of the countries have banned the construction of big dams.

3. ✖ The water made available through dams is better suited for industries than agricultural because of high costs and most of the countries have banned the construction of big dams.

4. ✔ The diversion of rivers will involve displacement of people on a colossal scale.

Question Number : 78 Question Id : 71939924135 Question Type : MCQ Option Shuffling : Yes Display Question Number : Yes
Single Line Question Option : No Option Orientation : Vertical

Correct Marks : 1 Wrong Marks : 0.25

Which of the following have been mentioned as disadvantages of dams?

Options :

1. ✖ Displacement of people on a large scale

2. ✖ Ecological imbalance due to restrictions on the flow of rivers

3. ✔ Displacement of people on a large scale and ecological imbalance due to restrictions on the natural flow of rivers

4. ✖ Construction of dams is prohibited in Sweden

Question Number : 79 Question Id : 71939924136 Question Type : MCQ Option Shuffling : Yes Display Question Number : Yes
Single Line Question Option : No Option Orientation : Vertical

Correct Marks : 1 Wrong Marks : 0.25

Which of the following is not true about the water made available through dams?

Options :

1. ✖ The water made available through dams has high costs associated with it.

2. ✖ The water so generated is mainly used in agriculture.

3. ✖ The government gives subsidy to the farmers due to high costs of the water from the dams.

4. ✔ The water so generated is mainly used in washing.

Question Number : 80 Question Id : 71939924137 Question Type : MCQ Option Shuffling : Yes Display Question Number : Yes
Single Line Question Option : No Option Orientation : Vertical

Correct Marks : 1 Wrong Marks : 0.25

Which word is similar in meaning to displacement?

Options :

1. ✖ Inaction

2. ✖ Stagnation

3. ✔ Dislocation

4. ✖ Inactivity

Question Id : 71939924132 Question Type : COMPREHENSION Sub Question Shuffling Allowed : Yes Group Comprehension
Questions : No

Question Numbers : (76 to 80)

Question Label : Comprehension

Read the following information carefully and answer the given questions.

Big dams received a big push from politicians and bureaucracy pouring enormous amounts of borrowed money in the early years of Independence. There has however been hardly any attempt at questioning the extent of damage caused or in evaluating whether the promises of food, water and prosperity for all have actually been realised. The diversion of rivers and construction of a long system of canals in a densely populated country like India will involve displacement of people on a colossal scale and the people affected are never likely to agree with such measures. All over the world, community reaction is to prevent construction of large dams. Preserving rivers in free-flow condition is considered ecologically necessary and the construction of large dams is now legally prohibited in Sweden and also in parts of USA. The technical challenges to be faced in redrawing the geography of the country are many and full of dangerous consequences and the mad rush in pursuit of such a chimera will prove disastrous. The cost of the project is so stupendous that any water made available will cost so much that governments will have to be forever subsidizing farmers. What long-term impact this massive borrowing will have on the economy is difficult to foresee.

Sub questions

Question Number : 76 Question Id : 71939924133 Question Type : MCQ Option Shuffling : Yes Display Question Number : Yes Single Line Question Option : No Option Orientation : Vertical

Correct Marks : 1 Wrong Marks : 0.25

What is the thematic center of the passage?

Options :

1. ✖ Following the footsteps of Sweden and USA in banning the construction of dams.
2. ✔ Dams have proven to be bane rather than boon in the long run.
3. ✖ The social impact of dams over rides their economic impact.
4. ✖ Dams have proven to be bane rather than boon in the long run and the social impact of dams over rides their economic impact.

Question Number : 77 Question Id : 71939924134 Question Type : MCQ Option Shuffling : Yes Display Question Number : Yes Single Line Question Option : No Option Orientation : Vertical

Correct Marks : 1 Wrong Marks : 0.25

Which of the following statements is true?

Options :

1. ✖ The water made available through dams is better suited for industries than agricultural because of high costs.
2. ✖ Most of the countries have banned the construction of big dams.
3. ✖ The water made available through dams is better suited for industries than agricultural because of high costs and most of the countries have banned the construction of big dams.
4. ✔ The diversion of rivers will involve displacement of people on a colossal scale.

Question Number : 78 Question Id : 71939924135 Question Type : MCQ Option Shuffling : Yes Display Question Number : Yes Single Line Question Option : No Option Orientation : Vertical

Correct Marks : 1 Wrong Marks : 0.25

Which of the following have been mentioned as disadvantages of dams?

Options :

1. ✖ Displacement of people on a large scale
2. ✖ Ecological imbalance due to restrictions on the flow of rivers
3. ✔ Displacement of people on a large scale and ecological imbalance due to restrictions on the natural flow of rivers
4. ✖ Construction of dams is prohibited in Sweden

Question Number : 79 Question Id : 71939924136 Question Type : MCQ Option Shuffling : Yes Display Question Number : Yes Single Line Question Option : No Option Orientation : Vertical

Correct Marks : 1 Wrong Marks : 0.25

Which of the following is not true about the water made available through dams?

Options :

- ✖ The water made available through dams has high costs associated with it.
- ✖ The water so generated is mainly used in agriculture.
- ✖ The government gives subsidy to the farmers due to high costs of the water from the dams.
- ✔ The water so generated is mainly used in washing.

Question Number : 80 Question Id : 71939924137 Question Type : MCQ Option Shuffling : Yes Display Question Number : Yes
Single Line Question Option : No Option Orientation : Vertical

Correct Marks : 1 Wrong Marks : 0.25

Which word is similar in meaning to displacement?

Options :

- ✖ Inaction
- ✖ Stagnation
- ✔ Dislocation
- ✖ Inactivity

General Hindi

Group Number :	5
Group Id :	719399963
Group Maximum Duration :	0
Group Minimum Duration :	0
Revisit allowed for view? :	No
Revisit allowed for edit? :	No
Break time:	0
Group Marks:	20
Revisit allowed for group Instructions? :	Yes
Maximum Instruction Time:	0
Minimum Instruction Time:	0

General Hindi

Section Id :	7193991073
Section Number :	1
Section type :	Online
Mandatory or Optional:	Mandatory
Number of Questions:	16
Number of Questions to be attempted:	16
Section Marks:	20
Display Number Panel:	Yes
Group All Questions:	No

Sub-Section Number:	1
Sub-Section Id:	7193991290
Question Shuffling Allowed :	Yes

Question Number : 81 Question Id : 71939924138 Question Type : MCQ Option Shuffling : Yes Display Question Number : Yes
Single Line Question Option : No Option Orientation : Vertical

Correct Marks : 1 Wrong Marks : 0.25

दिए गए वाक्य में अव्यय ज्ञात कीजिए।

ऐसी बात सदा से होती रही है।

Options :

1. ✖ स्थितिवाचक अव्यय
2. ✖ स्थानवाचक अव्यय
3. ✔ कालवाचक अव्यय
4. ✖ दिशावाचक अव्यय

Question Number : 81 Question Id : 71939924138 Question Type : MCQ Option Shuffling : Yes Display Question Number : Yes
Single Line Question Option : No Option Orientation : Vertical

Correct Marks : 1 Wrong Marks : 0.25

दिए गए वाक्य में अव्यय ज्ञात कीजिए।

ऐसी बात सदा से होती रही है।

Options :

1. ✖ स्थितिवाचक अव्यय
2. ✖ स्थानवाचक अव्यय
3. ✔ कालवाचक अव्यय
4. ✖ दिशावाचक अव्यय

Question Number : 82 Question Id : 71939924139 Question Type : MCQ Option Shuffling : Yes Display Question Number : Yes
Single Line Question Option : No Option Orientation : Vertical

Correct Marks : 1 Wrong Marks : 0.25

दिए गए वाक्य में क्रिया ज्ञात कीजिए।

विद्यार्थी ने पुस्तक से देखकर उत्तर दिया।

Options :

1. ✔ पूर्वकालिक क्रिया
2. ✖ नाम धातु क्रिया
3. ✖ अकर्मक क्रिया
4. ✖ संयुक्त क्रिया

Question Number : 82 Question Id : 71939924139 Question Type : MCQ Option Shuffling : Yes Display Question Number : Yes
Single Line Question Option : No Option Orientation : Vertical

Correct Marks : 1 Wrong Marks : 0.25

दिए गए वाक्य में क्रिया ज्ञात कीजिए।

विद्यार्थी ने पुस्तक से देखकर उत्तर दिया।

Options :

1. ✔ पूर्वकालिक क्रिया
2. ✖ नाम धातु क्रिया
3. ✖ अकर्मक क्रिया
4. ✖ संयुक्त क्रिया

Question Number : 83 Question Id : 71939924140 Question Type : MCQ Option Shuffling : Yes Display Question Number : Yes
Single Line Question Option : No Option Orientation : Vertical

Correct Marks : 1 Wrong Marks : 0.25

दिए गए शब्द का समास ज्ञात कीजिए।

कथा साहित्य

Options :

1. ✖ बहुब्रीहि समास
2. ✖ कर्मधारय समास
3. ✖ द्विगु समास
4. ✔ तत्पुरुष समास

Question Number : 83 Question Id : 71939924140 Question Type : MCQ Option Shuffling : Yes Display Question Number : Yes
Single Line Question Option : No Option Orientation : Vertical

Correct Marks : 1 Wrong Marks : 0.25

दिए गए शब्द का समास ज्ञात कीजिए।

कथा साहित्य

Options :

1. ✖ बहुब्रीहि समास
2. ✖ कर्मधारय समास
3. ✖ द्विगु समास
4. ✔ तत्पुरुष समास

Question Number : 84 Question Id : 71939924141 Question Type : MCQ Option Shuffling : Yes Display Question Number : Yes
Single Line Question Option : No Option Orientation : Vertical

Correct Marks : 1 Wrong Marks : 0.25

निम्नलिखित वाक्य में रेखांकित शब्द का उचित विलोम शब्द ज्ञात कीजिए।

हमें लोगों के गुण देखने चाहिए।

Note: For this question, discrepancy is found in question/answer. So, this question is ignored for all candidates.

Options :

1. दोष
2. अगुण
3. अनुगुण
4. अवगुण

Question Number : 84 Question Id : 71939924141 Question Type : MCQ Option Shuffling : Yes Display Question Number : Yes
Single Line Question Option : No Option Orientation : Vertical

Correct Marks : 1 Wrong Marks : 0.25

निम्नलिखित वाक्य में रेखांकित शब्द का उचित विलोम शब्द ज्ञात कीजिए।

हमें लोगों के गुण देखने चाहिए।

Note: For this question, discrepancy is found in question/answer. So, this question is ignored for all candidates.

Options :

1. दोष
2. अगुण
3. अनुगुण
4. अवगुण

Question Number : 85 Question Id : 71939924142 Question Type : MCQ Option Shuffling : Yes Display Question Number : Yes
Single Line Question Option : No Option Orientation : Vertical

Correct Marks : 1 Wrong Marks : 0.25

दिए गए वाक्य में उपयुक्त शब्द का चयन करके रिक्तस्थान की पूर्ति कीजिए

प्राचार्य जी आ रहे हैं _____ प्रणाम करो।

Options :

1. ✖ उसे
2. ✖ उसको
3. ✖ उनके लिए
4. ✔ उन्हें

Question Number : 85 Question Id : 71939924142 Question Type : MCQ Option Shuffling : Yes Display Question Number : Yes
Single Line Question Option : No Option Orientation : Vertical

Correct Marks : 1 Wrong Marks : 0.25

दिए गए वाक्य में उपयुक्त शब्द का चयन करके रिक्तस्थान की पूर्ति कीजिए

प्राचार्य जी आ रहे हैं _____ प्रणाम करो।

Options :

1. ✖ उसे
2. ✖ उसको
3. ✖ उनके लिए
4. ✔ उन्हें

Question Number : 86 Question Id : 71939924143 Question Type : MCQ Option Shuffling : Yes Display Question Number : Yes
Single Line Question Option : No Option Orientation : Vertical

Correct Marks : 1 Wrong Marks : 0.25

दिए गए समश्रुत भिन्नार्थक शब्द का उचित अर्थ ज्ञात कीजिए

आदि-आदी

Options :

1. ✔ आरंभ : अभ्यस्त
2. ✖ अंत : बराबर
3. ✖ त्योहार : गंदा
4. ✖ शरीर का अंग : आरंभ

Question Number : 86 Question Id : 71939924143 Question Type : MCQ Option Shuffling : Yes Display Question Number : Yes
Single Line Question Option : No Option Orientation : Vertical

Correct Marks : 1 Wrong Marks : 0.25

दिए गए समश्रुत भिन्नार्थक शब्द का उचित अर्थ ज्ञात कीजिए

आदि-आदी

Options :

1. ✔ आरंभ : अभ्यस्त
2. ✖ अंत : बराबर
3. ✖ त्योहार : गंदा
4. ✖ शरीर का अंग : आरंभ

Question Number : 87 Question Id : 71939924144 Question Type : MCQ Option Shuffling : Yes Display Question Number : Yes
Single Line Question Option : No Option Orientation : Vertical

Correct Marks : 1 Wrong Marks : 0.25

दिए गए शब्द का पर्यायवाची ज्ञात कीजिए।

साँप

Options :

1. ✖ सुर
2. ✖ देव
3. ✔ विषधर
4. ✖ अमरपुरी

Question Number : 87 Question Id : 71939924144 Question Type : MCQ Option Shuffling : Yes Display Question Number : Yes
Single Line Question Option : No Option Orientation : Vertical

Correct Marks : 1 Wrong Marks : 0.25

दिए गए शब्द का पर्यायवाची ज्ञात कीजिए।

साँप

Options :

1. ✖ सुर
2. ✖ देव
3. ✔ विषधर
4. ✖ अमरपुरी

Question Number : 88 Question Id : 71939924145 Question Type : MCQ Option Shuffling : Yes Display Question Number : Yes
Single Line Question Option : No Option Orientation : Vertical

Correct Marks : 1 Wrong Marks : 0.25

दिए गए वाक्यों में से शुद्ध वाक्य ज्ञात कीजिए।

Note: For this question, discrepancy is found in question/answer. So, this question is ignored for all candidates.

Options :

1. अचानक दैत्य को देखकर बालक चौंक गए।
2. अचानक दैत्य को देखकर बालक को चौंक गया।
3. दैत्य को देखकर अचानक बालिका चौंका गया।
4. अचानक दैत्य को देखकर बालक चौंक गया।

Question Number : 88 Question Id : 71939924145 Question Type : MCQ Option Shuffling : Yes Display Question Number : Yes
Single Line Question Option : No Option Orientation : Vertical

Correct Marks : 1 Wrong Marks : 0.25

दिए गए वाक्यों में से शुद्ध वाक्य ज्ञात कीजिए।

Note: For this question, discrepancy is found in question/answer. So, this question is ignored for all candidates.

Options :

1. अचानक दैत्य को देखकर बालक चौंक गए।
2. अचानक दैत्य को देखकर बालक को चौंक गया।
3. दैत्य को देखकर अचानक बालिका चौंका गया।
4. अचानक दैत्य को देखकर बालक चौंक गया।

Question Number : 89 Question Id : 71939924146 Question Type : MCQ Option Shuffling : Yes Display Question Number : Yes
Single Line Question Option : No Option Orientation : Vertical

Correct Marks : 1 Wrong Marks : 0.25

दिए गए वाक्यों में किस प्रकार का पुरुष है ज्ञात कीजिए।

आपका बड़ा बेटा तो बहुत ही सुस्त है।

Options :

1. ✓ मध्यम
2. ✗ उत्तम
3. ✗ अन्य
4. ✗ प्रथम

Question Number : 89 Question Id : 71939924146 Question Type : MCQ Option Shuffling : Yes Display Question Number : Yes
Single Line Question Option : No Option Orientation : Vertical

Correct Marks : 1 Wrong Marks : 0.25

दिए गए वाक्यों में किस प्रकार का पुरुष है ज्ञात कीजिए

आपका बड़ा बेटा तो बहुत ही सुस्त है।

Options :

1. ✓ मध्यम
2. ✗ उत्तम
3. ✗ अन्य
4. ✗ प्रथम

Question Number : 90 Question Id : 71939924147 Question Type : MCQ Option Shuffling : Yes Display Question Number : Yes
Single Line Question Option : No Option Orientation : Vertical

Correct Marks : 1 Wrong Marks : 0.25

दिए गए वाक्य का काल ज्ञात कीजिए

अगर पैसे बचाए, होते तो यह दिन न देखना पड़ता।

Options :

1. ✗ पूर्णभूतकाल
2. ✗ अपूर्ण भूतकाल
3. ✗ संदिग्ध भूतकाल
4. ✓ हेतुहेतुमद भूतकाल

Question Number : 90 Question Id : 71939924147 Question Type : MCQ Option Shuffling : Yes Display Question Number : Yes
Single Line Question Option : No Option Orientation : Vertical

Correct Marks : 1 Wrong Marks : 0.25

दिए गए वाक्य का काल ज्ञात कीजिए

अगर पैसे बचाए, होते तो यह दिन न देखना पड़ता।

Options :

1. ✗ पूर्णभूतकाल
2. ✗ अपूर्ण भूतकाल
3. ✗ संदिग्ध भूतकाल
4. ✓ हेतुहेतुमद भूतकाल

Question Number : 91 Question Id : 71939924148 Question Type : MCQ Option Shuffling : Yes Display Question Number : Yes
Single Line Question Option : No Option Orientation : Vertical

Correct Marks : 1 Wrong Marks : 0.25

दिए गए वाक्य में वाच्य ज्ञात कीजिए

राम से रेत में दौड़ा नहीं जाता।

Options :

1. ✗ कर्मवाच्य

2. ✖ कर्तृवाच्य
3. ✔ भाववाच्य
4. ✖ अपूर्ण

Question Number : 91 Question Id : 71939924148 Question Type : MCQ Option Shuffling : Yes Display Question Number : Yes
Single Line Question Option : No Option Orientation : Vertical

Correct Marks : 1 Wrong Marks : 0.25

दिए गए वाक्य में वाच्य ज्ञात कीजिए।

राम से रेत में दौड़ा नहीं जाता।

Options :

1. ✖ कर्मवाच्य
2. ✖ कर्तृवाच्य
3. ✔ भाववाच्य
4. ✖ अपूर्ण

Question Number : 92 Question Id : 71939924149 Question Type : MCQ Option Shuffling : Yes Display Question Number : Yes
Single Line Question Option : No Option Orientation : Vertical

Correct Marks : 1 Wrong Marks : 0.25

दिए गए रिक्त स्थान में उपयुक्त मुहावरे का चयन कीजिए।

राधा अपने पति के इंतजार में सारी रात _____ रही।

Options :

1. ✖ जागती
2. ✔ तारे गिनती
3. ✖ व्याकुल
4. ✖ अधिक प्रसन्न

Question Number : 92 Question Id : 71939924149 Question Type : MCQ Option Shuffling : Yes Display Question Number : Yes
Single Line Question Option : No Option Orientation : Vertical

Correct Marks : 1 Wrong Marks : 0.25

दिए गए रिक्त स्थान में उपयुक्त मुहावरे का चयन कीजिए।

राधा अपने पति के इंतजार में सारी रात _____ रही।

Options :

1. ✖ जागती
2. ✔ तारे गिनती
3. ✖ व्याकुल
4. ✖ अधिक प्रसन्न

Question Number : 93 Question Id : 71939924150 Question Type : MCQ Option Shuffling : Yes Display Question Number : Yes
Single Line Question Option : No Option Orientation : Vertical

Correct Marks : 1 Wrong Marks : 0.25

दिए गए मुहावरे का अर्थ ज्ञात कीजिए।

दलदल में फँसना

Options :

1. ✖ गिर जाना
2. ✔ मुश्किल में पड़ना
3. ✖ चुनौती पूर्ण कार्य

4. ✖ गंदा होना

Question Number : 93 Question Id : 71939924150 Question Type : MCQ Option Shuffling : Yes Display Question Number : Yes
Single Line Question Option : No Option Orientation : Vertical

Correct Marks : 1 Wrong Marks : 0.25

दिए गए मुहावरे का अर्थ ज्ञात कीजिए

दलदल में फँसना

Options :

1. ✖ गिर जाना
2. ✔ मुश्किल में पड़ना
3. ✖ चुनौती पूर्ण कार्य
4. ✖ गंदा होना

Question Number : 94 Question Id : 71939924151 Question Type : MCQ Option Shuffling : Yes Display Question Number : Yes
Single Line Question Option : No Option Orientation : Vertical

Correct Marks : 1 Wrong Marks : 0.25

दिए गए वाक्य में किस विराम चिह्न का उपयोग किया जाएगा उनकी पहचान कीजिए

चलते रहो कहीं रूको मत

Options :

1. ✔ , ।
2. ✖ , ,
3. ✖ . ,
4. ✖ ; ।

Question Number : 94 Question Id : 71939924151 Question Type : MCQ Option Shuffling : Yes Display Question Number : Yes
Single Line Question Option : No Option Orientation : Vertical

Correct Marks : 1 Wrong Marks : 0.25

दिए गए वाक्य में किस विराम चिह्न का उपयोग किया जाएगा उनकी पहचान कीजिए

चलते रहो कहीं रूको मत

Options :

1. ✔ , ।
2. ✖ , ,
3. ✖ . ,
4. ✖ ; ।

Question Number : 95 Question Id : 71939924152 Question Type : MCQ Option Shuffling : Yes Display Question Number : Yes
Single Line Question Option : No Option Orientation : Vertical

Correct Marks : 1 Wrong Marks : 0.25

दिए गए मुहावरे का अर्थ ज्ञात कीजिए

आँख का काजल चुराना

Options :

1. ✖ प्रेम करना
2. ✔ सफाई के साथ चोरी करना
3. ✖ बहुत प्यारा
4. ✖ अलग रहना

Question Number : 95 Question Id : 71939924152 Question Type : MCQ Option Shuffling : Yes Display Question Number : Yes
Single Line Question Option : No Option Orientation : Vertical

Correct Marks : 1 Wrong Marks : 0.25

दिए गए मुहावरे का अर्थ ज्ञात कीजिए

आँख का काजल चुराना

Options :

1. ✖ प्रेम करना
2. ✔ सफाई के साथ चोरी करना
3. ✖ बहुत प्यारा
4. ✖ अलग रहना

Sub-Section Number: 2
Sub-Section Id: 7193991291
Question Shuffling Allowed : Yes

Question Id : 71939924153 Question Type : COMPREHENSION Sub Question Shuffling Allowed : Yes Group Comprehension
Questions : No

Question Numbers : (96 to 100)

Question Label : Comprehension

एक गद्यांश दिया गया है। गद्यांश को ध्यानपूर्वक पढ़ें तथा प्रत्येक प्रश्न के चार विकल्पों में से सही विकल्प चुनें।

संपूर्ण विश्व में 8 मार्च को अंतर्राष्ट्रीय महिला दिवस मनाया जाता है। इस दिवस को मनाने का उद्देश्य नारी को उसके अधिकारों के प्रति प्रोत्साहित कर उसे सशक्त होने का अवसर प्रदान करना है जिससे वह न केवल खुद को सशक्त कर सके बल्कि उन्नत समाज के लिए महत्वपूर्ण योगदान दे सके। भारत में, महिलाओं को सशक्त बनाने के लिये सबसे पहले समाज में उनके अधिकारों और मूल्यों को मारने वाले उन सभी राक्षसी सोच को मारना जरूरी है। जैसे- दहेज प्रथा, यौन हिंसा, अशिक्षा, भ्रूण हत्या, असमानता, महिलाओं के प्रति घरेलू हिंसा, कार्य स्थल पर यौन शोषण, बाल मजदूरी, वेश्यावृत्ति, मानव तस्करी आदि। स्त्री को सृजन की शक्ति माना जाता है। इस सृजन की शक्ति को विकसित-परिष्कृत कर उसे सामाजिक, आर्थिक, राजनैतिक न्याय, विचार, विश्वास, धर्म और उपासना की स्वतंत्रता, अवसर की समानता का सुअवसर प्रदान करना ही नारी सशक्तिकरण का आशय है। बदलते समय के साथ आधुनिक युग की नारी पढ़-लिख कर स्वतंत्र है। वह अपने अधिकारों के प्रति सजग है तथा स्वयं अपना निर्णय लेती है। अब वह चारदीवारी से बाहर निकलकर देश के लिए विशेष महत्वपूर्ण कार्य करती है। आज स्त्री की छवि भले ही 'पवित्र आदरणीय देवी' की नहीं है लेकिन भारतीय संस्कृति के इतिहास के पन्ने पलट कर देखे तो नर और नारी को गृहस्थी की गाड़ी चलाने के लिए दो पहियों की भांति माना गया है। एक के बिना दूसरा अधूरा तथा आश्रयहीन था। आज देश में नारी शक्ति को सभी दृष्टि से सशक्त बनाने के प्रयास किये जा रहे हैं।

Sub questions

Question Number : 96 Question Id : 71939924154 Question Type : MCQ Option Shuffling : Yes Display Question Number : Yes
Single Line Question Option : No Option Orientation : Vertical

Correct Marks : 1 Wrong Marks : 0.25

संपूर्ण विश्व में अंतर्राष्ट्रीय महिला दिवस कब मनाया जाता है?

Options :

1. ✖ 9 मार्च
2. ✖ 5 मार्च
3. ✖ 10 मार्च
4. ✔ 8 मार्च

Question Number : 97 Question Id : 71939924155 Question Type : MCQ Option Shuffling : Yes Display Question Number : Yes
Single Line Question Option : No Option Orientation : Vertical

Correct Marks : 1 Wrong Marks : 0.25

आधुनिक युग में क्या बदलाव देखने को मिला है?

Options :

1. ✔ नारी पढ़-लिखकर स्वतंत्र है।
2. ✖ नारी पढ़-लिखकर चार दीवारी में है।

3. ✖ अपने अधिकारों के प्रति सजग नहीं है
4. ✖ नारी दहेज प्रथा व यौन शोषण का शिकार

Question Number : 98 Question Id : 71939924156 Question Type : MCQ Option Shuffling : Yes Display Question Number : Yes
Single Line Question Option : No Option Orientation : Vertical

Correct Marks : 1 Wrong Marks : 0.25

देश में कौन-सी शक्ति को सभी दृष्टि से सशक्त बनाने का प्रयास कर रहे हैं?

Options :

1. ✖ नर शक्ति
2. ✔ नारी शक्ति
3. ✖ वृद्ध शक्ति
4. ✖ बाल शक्ति

Question Number : 99 Question Id : 71939924157 Question Type : MCQ Option Shuffling : Yes Display Question Number : Yes
Single Line Question Option : No Option Orientation : Vertical

Correct Marks : 1 Wrong Marks : 0.25

स्त्री को कौन-सी शक्ति भी माना जाता है?

Options :

1. ✔ सृजन
2. ✖ असृजन
3. ✖ हिंसा
4. ✖ शोषण

Question Number : 100 Question Id : 71939924158 Question Type : MCQ Option Shuffling : Yes Display Question Number : Yes
Single Line Question Option : No Option Orientation : Vertical

Correct Marks : 1 Wrong Marks : 0.25

उपर्युक्त गद्यांश का उपयुक्त शीर्षक क्या होगा?

Options :

1. ✖ नारी चारदीवारी के भीतर
2. ✖ नारी राजनैतिक अन्याय
3. ✔ नारी सशक्तीकरण
4. ✖ नारी-दहेज प्रथा

Question Id : 71939924153 Question Type : COMPREHENSION Sub Question Shuffling Allowed : Yes Group Comprehension
Questions : No

Question Numbers : (96 to 100)

Question Label : Comprehension

एक गद्यांश दिया गया है। गद्यांश को ध्यानपूर्वक पढ़ें तथा प्रत्येक प्रश्न के चार विकल्पों में से सही विकल्प चुनें।

संपूर्ण विश्व में 8 मार्च को अंतर्राष्ट्रीय महिला दिवस मनाया जाता है। इस दिवस को मनाने का उद्देश्य नारी को उसके अधिकारों के प्रति प्रोत्साहित कर उसे सशक्त होने का अवसर प्रदान करना है जिससे वह ना केवल खुद को सशक्त कर सके बल्कि उन्नत समाज के लिए महत्वपूर्ण योगदान दे सके। भारत में, महिलाओं को सशक्त बनाने के लिये सबसे पहले समाज में उनके अधिकारों और मूल्यों को मारने वाले उन सभी राक्षसी सोच को मारना जरूरी है। जैसे- दहेज प्रथा, यौन हिंसा, अशिक्षा, भ्रूण हत्या, असमानता, महिलाओं के प्रति घरेलू हिंसा, कार्य स्थल पर यौन शोषण, बाल मजदूरी, वेश्यावृत्ति, मानव तस्करी आदि। स्त्री को सृजन की शक्ति माना जाता है। इस सृजन की शक्ति को विकसित-परिष्कृत कर उसे सामाजिक, आर्थिक, राजनैतिक न्याय, विचार, विश्वास, धर्म और उपासना की स्वतंत्रता, अवसर की समानता का सुअवसर प्रदान करना ही नारी सशक्तीकरण का आशय है। बदलते समय के साथ आधुनिक युग की नारी पढ़-लिख कर स्वतंत्र है। वह अपने अधिकारों के प्रति सजग है तथा स्वयं अपना निर्णय लेती है। अब वह चारदीवारी से बाहर निकलकर देश के लिए विशेष महत्वपूर्ण कार्य करती है। आज स्त्री की छवि भले ही 'पवित्र आदरणीय देवी' की नहीं है लेकिन भारतीय संस्कृति के इतिहास के पन्ने पलट कर देखें तो नर और नारी को गृहस्थी की गाड़ी चलाने के लिए दो पहियों की भांति माना गया है। एक के बिना दूसरा अधूरा तथा आश्रयहीन था। आज देश में नारी शक्ति को सभी दृष्टि से सशक्त बनाने के प्रयास किये जा रहे हैं।

Sub questions

Question Number : 96 Question Id : 71939924154 Question Type : MCQ Option Shuffling : Yes Display Question Number : Yes
Single Line Question Option : No Option Orientation : Vertical

Correct Marks : 1 Wrong Marks : 0.25

संपूर्ण विश्व में अंतर्राष्ट्रीय महिला दिवस कब मनाया जाता है?

Options :

1. ✖ 9 मार्च
2. ✖ 5 मार्च
3. ✖ 10 मार्च
4. ✔ 8 मार्च

Question Number : 97 Question Id : 71939924155 Question Type : MCQ Option Shuffling : Yes Display Question Number : Yes
Single Line Question Option : No Option Orientation : Vertical

Correct Marks : 1 Wrong Marks : 0.25

आधुनिक युग में क्या बदलाव देखने को मिला है?

Options :

1. ✔ नारी पढ़-लिखकर स्वतंत्र है
2. ✖ नारी पढ़-लिखकर चार दीवारी में है
3. ✖ अपने अधिकारों के प्रति सजग नहीं है
4. ✖ नारी दहेज प्रथा व यौन शोषण का शिकारा

Question Number : 98 Question Id : 71939924156 Question Type : MCQ Option Shuffling : Yes Display Question Number : Yes
Single Line Question Option : No Option Orientation : Vertical

Correct Marks : 1 Wrong Marks : 0.25

देश में कौन-सी शक्ति को सभी दृष्टि से सशक्त बनाने का प्रयास कर रहे हैं?

Options :

1. ✖ नर शक्ति
2. ✔ नारी शक्ति
3. ✖ वृद्ध शक्ति
4. ✖ बाल शक्ति

Question Number : 99 Question Id : 71939924157 Question Type : MCQ Option Shuffling : Yes Display Question Number : Yes
Single Line Question Option : No Option Orientation : Vertical

Correct Marks : 1 Wrong Marks : 0.25

स्त्री को कौन-सी शक्ति भी माना जाता है?

Options :

1. ✔ सृजन
2. ✖ असृजन
3. ✖ हिंसा
4. ✖ शोषण

Question Number : 100 Question Id : 71939924158 Question Type : MCQ Option Shuffling : Yes Display Question Number : Yes
Single Line Question Option : No Option Orientation : Vertical

Correct Marks : 1 Wrong Marks : 0.25

उपर्युक्त गद्यांश का उपयुक्त शीर्षक क्या होगा?

Options :

1. ✖ नारी चारदीवारी के भीतर
2. ✖ नारी राजनैतिक अन्याय
3. ✔ नारी सशक्तीकरण
4. ✖ नारी-दहेज प्रथा

Discipline1

Group Number :	6
Group Id :	719399964
Group Maximum Duration :	0
Group Minimum Duration :	0
Revisit allowed for view? :	No
Revisit allowed for edit? :	No
Break time:	0
Group Marks:	20
Revisit allowed for group Instructions? :	Yes
Maximum Instruction Time:	0
Minimum Instruction Time:	0

Discipline1

Section Id :	7193991074
Section Number :	1
Section type :	Online
Mandatory or Optional:	Mandatory
Number of Questions:	20
Number of Questions to be attempted:	20
Section Marks:	20
Display Number Panel:	Yes
Group All Questions:	No

Sub-Section Number:	1
Sub-Section Id:	7193991292
Question Shuffling Allowed :	Yes

Question Number : 101 Question Id : 71939924159 Question Type : MCQ Option Shuffling : Yes Display Question Number : Yes
Single Line Question Option : No Option Orientation : Vertical

Correct Marks : 1 Wrong Marks : 0.25

Which of the following is an important and known cause of cognitive disabilities?

- I. Trauma and physical agent
- II. Chromosomal Abnormality
- III. Psychiatric disorders
- IV. Metabolism and nutrition

Options :

- 1. ✖ I, II and III
- 2. ✖ II, III and IV
- 3. ✖ I, II and IV
- 4. ✔ I, II, III and IV

Question Number : 101 Question Id : 71939924159 Question Type : MCQ Option Shuffling : Yes Display Question Number : Yes
Single Line Question Option : No Option Orientation : Vertical

Correct Marks : 1 Wrong Marks : 0.25

निम्नलिखित में से कौन सा संज्ञानात्मक विकलांगता का एक महत्वपूर्ण और ज्ञात कारण है?

- I. आघात और भौतिक कारण
- II. गुणसूत्र अभिवर्धन
- III. मनोरोग संबंधी विकार
- IV. चयापचय और पोषण

Options :

- 1. ✖ I, II तथा III
- 2. ✖ II, III तथा IV
- 3. ✖ I, II तथा IV
- 4. ✔ I, II, III तथा IV

Question Number : 102 Question Id : 71939924160 Question Type : MCQ Option Shuffling : Yes Display Question Number : Yes
Single Line Question Option : No Option Orientation : Vertical

Correct Marks : 1 Wrong Marks : 0.25

Which of the following words cannot be used for positive verbal reinforcement?

Options :

- 1. ✔ Poor
- 2. ✖ Excellent
- 3. ✖ Correct
- 4. ✖ Fair

Question Number : 102 Question Id : 71939924160 Question Type : MCQ Option Shuffling : Yes Display Question Number : Yes
Single Line Question Option : No Option Orientation : Vertical

Correct Marks : 1 Wrong Marks : 0.25

निम्नलिखित में से किस शब्द का उपयोग सकारात्मक मौखिक सुदृढीकरण के लिए नहीं किया जा सकता है?

Options :

- 1. ✔ खराब
- 2. ✖ उत्कृष्ट
- 3. ✖ सही
- 4. ✖ निष्पक्ष

Question Number : 103 Question Id : 71939924161 Question Type : MCQ Option Shuffling : Yes Display Question Number : Yes
Single Line Question Option : No Option Orientation : Vertical

Correct Marks : 1 Wrong Marks : 0.25

Which of the following type of question allows students to go beyond the available data (their learning) and synthesise them with their personality characteristics?

Options :

- 1. ✖ Provocative Questions
- 2. ✔ Hypothetical Questions
- 3. ✖ Consequences Questions
- 4. ✖ Convergent Questions

Question Number : 103 Question Id : 71939924161 Question Type : MCQ Option Shuffling : Yes Display Question Number : Yes
Single Line Question Option : No Option Orientation : Vertical

Correct Marks : 1 Wrong Marks : 0.25

निम्नलिखित में से किस प्रकार का प्रश्न छात्रों को उपलब्ध डेटा (उनके अधिगम) से आगे जाने और उन्हें उनके व्यक्तित्व विशेषताओं के साथ संश्लेषित करने की अनुमति देता है?

Options :

- 1. ✖ उत्तेजक प्रश्न

2. ✓ काल्पनिक प्रश्न
3. ✗ परिणाम प्रश्न
4. ✗ अभिसृत प्रश्न

Question Number : 104 Question Id : 71939924162 Question Type : MCQ Option Shuffling : Yes Display Question Number : Yes
Single Line Question Option : No Option Orientation : Vertical

Correct Marks : 1 Wrong Marks : 0.25

Which of the following is NOT an internal factor which influence growth and development in children?

Options :

1. ✗ Intelligence
2. ✓ Technical factors
3. ✗ Social nature
4. ✗ Heredity factors

Question Number : 104 Question Id : 71939924162 Question Type : MCQ Option Shuffling : Yes Display Question Number : Yes
Single Line Question Option : No Option Orientation : Vertical

Correct Marks : 1 Wrong Marks : 0.25

निम्नलिखित में से क्या बच्चों में वृद्धि और विकास को प्रभावित करने वाला आंतरिक कारक नहीं है?

Options :

1. ✗ बुद्धिमत्ता
2. ✓ तकनीकी कारक
3. ✗ सामाजिक प्रकृति
4. ✗ आनुवंशिकता कारक

Question Number : 105 Question Id : 71939924163 Question Type : MCQ Option Shuffling : Yes Display Question Number : Yes
Single Line Question Option : No Option Orientation : Vertical

Correct Marks : 1 Wrong Marks : 0.25

Which of the following is way by which a teacher can stimulate thinking skills in children?

- I. Recognize the conditional nature of many thinking skills.
- II. Encourage students to talk to themselves while they think.
- III. Encourage transfer, emphasize connections within and beyond the topic of a given lesson.

Options :

1. ✗ Both I and II
2. ✗ Both II and III
3. ✗ Both I and III
4. ✓ I, II and III

Question Number : 105 Question Id : 71939924163 Question Type : MCQ Option Shuffling : Yes Display Question Number : Yes
Single Line Question Option : No Option Orientation : Vertical

Correct Marks : 1 Wrong Marks : 0.25

निम्नलिखित में से कौन सा तरीका है जिसके द्वारा एक शिक्षक बच्चों में सोच कौशल को प्रोत्साहित कर सकता है?

- I. कई सोच कौशल की सशर्त प्रकृति को पहचानना
- II. छात्रों को प्रोत्साहित करें कि वे विचार करते समय स्वयं से बात करें
- III. हस्तांतरण को प्रोत्साहित करें, किसी दिए गए पाठ के विषय के भीतर और बाहर संबंध पर जोर दें

Options :

1. ✗ I तथा II दोनों
2. ✗ II तथा III दोनों
3. ✗ I तथा III दोनों

4. ✓ I, II तथा III

Question Number : 106 Question Id : 71939924164 Question Type : MCQ Option Shuffling : Yes Display Question Number : Yes
Single Line Question Option : No Option Orientation : Vertical

Correct Marks : 1 Wrong Marks : 0.25

Which of the following is/are effect(s) of emotions on the developing individual?

- I. Emotions add pleasure to everyday experiences in life.
- II. Emotions work as motivations of our behaviour.
- III. Emotional deprivation leads to personality maladjustment.

Options :

- 1. ✗ Both I and II
- 2. ✗ Both II and III
- 3. ✗ Both I and III
- 4. ✓ I, II and III

Question Number : 106 Question Id : 71939924164 Question Type : MCQ Option Shuffling : Yes Display Question Number : Yes
Single Line Question Option : No Option Orientation : Vertical

Correct Marks : 1 Wrong Marks : 0.25

निम्नलिखित में से क्या विकासशील व्यक्तियों पर भावनाओं का/के प्रभाव है/हैं?

- I. भावनाएँ जीवन में रोज़मर्रा के अनुभवों को आनंदित करती हैं।
- II. भावनाएँ हमारे व्यवहार की प्रेरणाओं के रूप में कार्य करती हैं।
- III. भावनात्मक अभाव से व्यक्तित्व में खराबी आती है।

Options :

- 1. ✗ I तथा II दोनों
- 2. ✗ II तथा III दोनों
- 3. ✗ I तथा III दोनों
- 4. ✓ I, II तथा III

Question Number : 107 Question Id : 71939924165 Question Type : MCQ Option Shuffling : Yes Display Question Number : Yes
Single Line Question Option : No Option Orientation : Vertical

Correct Marks : 1 Wrong Marks : 0.25

Which of the following CANNOT be included under the concept of personality?

Options :

- 1. ✗ The way an individual talk.
- 2. ✗ The way an individual walk.
- 3. ✓ The way an individual makes decisions.
- 4. ✗ The way an individual act.

Question Number : 107 Question Id : 71939924165 Question Type : MCQ Option Shuffling : Yes Display Question Number : Yes
Single Line Question Option : No Option Orientation : Vertical

Correct Marks : 1 Wrong Marks : 0.25

निम्नलिखित में से किसे व्यक्तित्व की अवधारणा के तहत शामिल नहीं किया जा सकता है?

Options :

- 1. ✗ एक व्यक्ति जिस तरह से बात करता है।
- 2. ✗ एक व्यक्ति जिस तरह से चलता है।
- 3. ✓ एक व्यक्ति जिस तरह से निर्णय लेता है।
- 4. ✗ एक व्यक्ति जिस तरह से कार्य करता है।

Question Number : 108 Question Id : 71939924166 Question Type : MCQ Option Shuffling : Yes Display Question Number : Yes
Single Line Question Option : No Option Orientation : Vertical

Correct Marks : 1 Wrong Marks : 0.25

Which of the following can motivate a child to continue an activity?

Options :

1. ✖ Painful experiences
2. ✔ Experience of success
3. ✖ Negative non-verbal reinforcement by the teacher
4. ✖ Toughness of activity given to the child

Question Number : 108 Question Id : 71939924166 Question Type : MCQ Option Shuffling : Yes Display Question Number : Yes
Single Line Question Option : No Option Orientation : Vertical

Correct Marks : 1 Wrong Marks : 0.25

निम्नलिखित में से कौन सा एक बच्चे को गतिविधि जारी रखने के लिए प्रेरित कर सकता है?

Options :

1. ✖ दर्दनाक अनुभव
2. ✔ सफलता का अनुभव
3. ✖ शिक्षक द्वारा नकारात्मक अशाब्दिक सुदृढीकरण
4. ✖ बच्चे को दी गई गतिविधि की कठिनता

Question Number : 109 Question Id : 71939924167 Question Type : MCQ Option Shuffling : Yes Display Question Number : Yes
Single Line Question Option : No Option Orientation : Vertical

Correct Marks : 1 Wrong Marks : 0.25

Which of the following disabilities can pose a threat to children in the process of their education?

- I. Physical deviations
- II. Sensory impairment
- III. Problem with language and communication

Options :

1. ✖ Both I and II
2. ✖ Both II and III
3. ✖ Both I and III
4. ✔ I, II and III

Question Number : 109 Question Id : 71939924167 Question Type : MCQ Option Shuffling : Yes Display Question Number : Yes
Single Line Question Option : No Option Orientation : Vertical

Correct Marks : 1 Wrong Marks : 0.25

निम्नलिखित में से कौन सी विकलांगता बच्चों के लिए उनकी शिक्षा की प्रक्रिया में खतरा पैदा कर सकती है?

- I. भौतिक विचलन
- II. संवेदी हानि
- III. भाषा और संचार के साथ समस्या

Options :

1. ✖ I तथा II दोनों
2. ✖ II तथा III दोनों
3. ✖ I तथा III दोनों
4. ✔ I, II तथा III

Question Number : 110 Question Id : 71939924168 Question Type : MCQ Option Shuffling : Yes Display Question Number : Yes
Single Line Question Option : No Option Orientation : Vertical

Correct Marks : 1 Wrong Marks : 0.25

Which of the following is the development norm for a 2 years old child?

Options :

1. ✓ The child can walk without help, jumps, runs
2. ✗ The child can skip and hop
3. ✗ The child has free and active movement and can respond to music
4. ✗ The child cannot walk or even crawl

Question Number : 110 Question Id : 71939924168 Question Type : MCQ Option Shuffling : Yes Display Question Number : Yes
Single Line Question Option : No Option Orientation : Vertical

Correct Marks : 1 Wrong Marks : 0.25

2 वर्ष के बच्चे के लिए निम्नलिखित में से कौन सा विकास मानदंड है?

Options :

1. ✓ बच्चा बिना मदद के चल सकता है, कूद सकता है, दौड़ सकता है
2. ✗ बच्चा स्किप और हॉप कर सकता है
3. ✗ बच्चे के पास स्वतंत्र और सक्रिय संचलन है और वह संगीत का जवाब दे सकता है
4. ✗ बच्चा चल या रेंग भी नहीं सकता

Question Number : 111 Question Id : 71939924169 Question Type : MCQ Option Shuffling : Yes Display Question Number : Yes
Single Line Question Option : No Option Orientation : Vertical

Correct Marks : 1 Wrong Marks : 0.25

Which of the following statement regarding Indian traditional education system is/are correct?

- I. It was neither open to all nor it had any uniformity.
- II. It was elitist in character and was supported with religious purpose.

Options :

1. ✗ Only I
2. ✗ Only II
3. ✗ Both I and II
4. ✓ Neither I nor II

Question Number : 111 Question Id : 71939924169 Question Type : MCQ Option Shuffling : Yes Display Question Number : Yes
Single Line Question Option : No Option Orientation : Vertical

Correct Marks : 1 Wrong Marks : 0.25

भारतीय पारंपरिक शिक्षा प्रणाली के संबंध में निम्नलिखित में से कौन सा/से कथन सही है?

- I. यह न तो सभी के लिए खुली थी तथा न ही इसमें कोई समानता थी।
- II. यह चरित्र में कुलीन थी तथा धार्मिक उद्देश्य से समर्थित थी।

Options :

1. ✗ केवल I
2. ✗ केवल II
3. ✗ I तथा II दोनों
4. ✓ ना ही I ना ही II

Question Number : 112 Question Id : 71939924170 Question Type : MCQ Option Shuffling : Yes Display Question Number : Yes
Single Line Question Option : No Option Orientation : Vertical

Correct Marks : 1 Wrong Marks : 0.25

Which of the following functions can be performed by community to improve school education?

- I. Increase girls retention in school
- II. Boosting morale of school teachers
- III. Supporting the teachers

Options :

1. ✖ II and III
2. ✖ I and III
3. ✖ I and II
4. ✔ I, II and III

Question Number : 112 Question Id : 71939924170 Question Type : MCQ Option Shuffling : Yes Display Question Number : Yes
Single Line Question Option : No Option Orientation : Vertical

Correct Marks : 1 Wrong Marks : 0.25

स्कूल शिक्षा को बेहतर बनाने के लिए समुदाय द्वारा निम्नलिखित में से कौन सा कार्य किया जा सकता है?

- I. स्कूल में लड़कियों के प्रतिधारण में वृद्धि
- II. स्कूल के शिक्षकों के मनोबल को बढ़ावा देना
- III. शिक्षकों का समर्थन करना

Options :

1. ✖ II तथा III
2. ✖ I तथा III
3. ✖ I तथा II
4. ✔ I, II तथा III

Question Number : 113 Question Id : 71939924171 Question Type : MCQ Option Shuffling : Yes Display Question Number : Yes
Single Line Question Option : No Option Orientation : Vertical

Correct Marks : 1 Wrong Marks : 0.25

According to Right to Education Act, 2009, how many minimum numbers of working days in a year are required for classes first to fifth?

Options :

1. ✔ 200
2. ✖ 220
3. ✖ 180
4. ✖ 240

Question Number : 113 Question Id : 71939924171 Question Type : MCQ Option Shuffling : Yes Display Question Number : Yes
Single Line Question Option : No Option Orientation : Vertical

Correct Marks : 1 Wrong Marks : 0.25

शिक्षा का अधिकार अधिनियम, 2009 के अनुसार, पहली से पांचवीं कक्षा के लिए एक वर्ष में कितने न्यूनतम कार्य दिवस की आवश्यकता होती है?

Options :

1. ✔ 200
2. ✖ 220
3. ✖ 180
4. ✖ 240

Question Number : 114 Question Id : 71939924172 Question Type : MCQ Option Shuffling : Yes Display Question Number : Yes
Single Line Question Option : No Option Orientation : Vertical

Correct Marks : 1 Wrong Marks : 0.25

Which of the following is a point announced in the 1835 resolution by Bentick?

- I. Establishment of teacher training institutions.
- II. Persian abolished as court language.

Options :

1. ✖ Only I

2. ✓ Only II
3. ✗ Both I and II
4. ✗ Neither I nor II

Question Number : 114 Question Id : 71939924172 Question Type : MCQ Option Shuffling : Yes Display Question Number : Yes
Single Line Question Option : No Option Orientation : Vertical

Correct Marks : 1 Wrong Marks : 0.25

बैंटिक द्वारा 1835 के संकल्प में घोषित बातों में निम्नलिखित में से कौन सा है?

- I. शिक्षक प्रशिक्षण संस्थानों की स्थापना
- II. फ़ारसी को दरबारी भाषा के रूप में समाप्त कर दिया गया

Options :

1. ✗ केवल I
2. ✓ केवल II
3. ✗ I तथा II दोनों
4. ✗ ना ही I ना ही II

Question Number : 115 Question Id : 71939924173 Question Type : MCQ Option Shuffling : Yes Display Question Number : Yes
Single Line Question Option : No Option Orientation : Vertical

Correct Marks : 1 Wrong Marks : 0.25

Which of the following is NOT a learner related factor affecting learning?

Options :

1. ✗ Goals
2. ✓ Communication
3. ✗ Attention
4. ✗ Motivation

Question Number : 115 Question Id : 71939924173 Question Type : MCQ Option Shuffling : Yes Display Question Number : Yes
Single Line Question Option : No Option Orientation : Vertical

Correct Marks : 1 Wrong Marks : 0.25

निम्नलिखित में से कौन सा अधिगम को प्रभावित करने वाला शिक्षार्थी से संबंधित एक कारक नहीं है?

Options :

1. ✗ लक्ष्य
2. ✓ संचार
3. ✗ ध्यान
4. ✗ प्रेरणा

Question Number : 116 Question Id : 71939924174 Question Type : MCQ Option Shuffling : Yes Display Question Number : Yes
Single Line Question Option : No Option Orientation : Vertical

Correct Marks : 1 Wrong Marks : 0.25

Which of the following is true according to Gandhi?

- I. Learning must provide for opportunities for children to be physically active.
- II. Children must have the freedom to create their own models of knowledge about world.

Options :

1. ✗ Only I
2. ✗ Only II
3. ✓ Both I and II
4. ✗ Neither I nor II

Question Number : 116 Question Id : 71939924174 Question Type : MCQ Option Shuffling : Yes Display Question Number : Yes
Single Line Question Option : No Option Orientation : Vertical

Correct Marks : 1 Wrong Marks : 0.25

गांधी के अनुसार निम्नलिखित में से कौन सा सही है?

- I. अधिगम को बच्चों को शारीरिक रूप से सक्रिय होने के अवसरों को प्रदान करने चाहिए
- II. बच्चों को दुनिया के बारे में ज्ञान के अपने मॉडल बनाने की स्वतंत्रता होनी चाहिए

Options :

- 1. ✖ केवल I
- 2. ✖ केवल II
- 3. ✔ I तथा II दोनों
- 4. ✖ ना ही I ना ही II

Question Number : 117 Question Id : 71939924175 Question Type : MCQ Option Shuffling : Yes Display Question Number : Yes
Single Line Question Option : No Option Orientation : Vertical

Correct Marks : 1 Wrong Marks : 0.25

What role does education play in an individual's development?

- I. It provides pupils teaching skills that prepare them physically, mentally and socially for the world of work.
- II. Higher education helps in maintaining a healthy society which prepare educated health care consumers and professionals.

Options :

- 1. ✖ Only I
- 2. ✖ Only II
- 3. ✔ Both I and II
- 4. ✖ Neither I nor II

Question Number : 117 Question Id : 71939924175 Question Type : MCQ Option Shuffling : Yes Display Question Number : Yes
Single Line Question Option : No Option Orientation : Vertical

Correct Marks : 1 Wrong Marks : 0.25

किसी व्यक्ति के विकास में शिक्षा की क्या भूमिका होती है?

- I. यह विद्यार्थियों को शिक्षण कौशल प्रदान करता है जो उन्हें जीवन में कार्य करने के लिए शारीरिक, मानसिक तथा सामाजिक रूप से तैयार करता है।
- II. उच्च शिक्षा एक स्वस्थ समाज को बनाए रखने में मदद करती है जो शिक्षित स्वास्थ्य देखभाल उपभोक्ताओं तथा पेशेवरों को तैयार करती है।

Options :

- 1. ✖ केवल I
- 2. ✖ केवल II
- 3. ✔ I तथा II दोनों
- 4. ✖ ना ही I ना ही II

Question Number : 118 Question Id : 71939924176 Question Type : MCQ Option Shuffling : Yes Display Question Number : Yes
Single Line Question Option : No Option Orientation : Vertical

Correct Marks : 1 Wrong Marks : 0.25

Which of the following is a requirement for knowing?

- I. Proposition must be true.
- II. Person must believe proposition.

Options :

- 1. ✖ Only I
- 2. ✖ Only II

3. ✓ Both I and II
4. ✗ Neither I nor II

Question Number : 118 Question Id : 71939924176 Question Type : MCQ Option Shuffling : Yes Display Question Number : Yes
Single Line Question Option : No Option Orientation : Vertical

Correct Marks : 1 Wrong Marks : 0.25

निम्नलिखित में से कौन सा जानने की आवश्यकता है?

- I. प्रस्ताव सत्य होना चाहिए
II. व्यक्ति को प्रस्ताव पर विश्वास करना चाहिए

Options :

1. ✗ केवल I
2. ✗ केवल II
3. ✓ I तथा II दोनों
4. ✗ ना ही I ना ही II

Question Number : 119 Question Id : 71939924177 Question Type : MCQ Option Shuffling : Yes Display Question Number : Yes
Single Line Question Option : No Option Orientation : Vertical

Correct Marks : 1 Wrong Marks : 0.25

Which of the following statement regarding informal education system is/are correct?

- I. Its goals are always rooted firmly in value system.
II. It has no direct concern with degrees or diplomas.
III. It does not supplement formal and non-formal education.

Options :

1. ✓ I and II
2. ✗ II and III
3. ✗ I and III
4. ✗ I, II and III

Question Number : 119 Question Id : 71939924177 Question Type : MCQ Option Shuffling : Yes Display Question Number : Yes
Single Line Question Option : No Option Orientation : Vertical

Correct Marks : 1 Wrong Marks : 0.25

अनौपचारिक शिक्षा प्रणाली के संबंध में निम्नलिखित में से कौन सा/से कथन सही है?

- I. इसका लक्ष्य हमेशा मूल्य प्रणाली में दृढ़ता से निहित है
II. इसका डिग्री या डिप्लोमा के साथ कोई प्रत्यक्ष संबंध नहीं है
III. यह औपचारिक तथा गैर-औपचारिक शिक्षा का अनुपूरक नहीं है

Options :

1. ✓ I तथा II
2. ✗ II तथा III
3. ✗ I तथा III
4. ✗ I, II तथा III

Question Number : 120 Question Id : 71939924178 Question Type : MCQ Option Shuffling : Yes Display Question Number : Yes
Single Line Question Option : No Option Orientation : Vertical

Correct Marks : 1 Wrong Marks : 0.25

Which of the following is not correct about the right kind of education?

Options :

1. ✗ Help each individual student to observe and understand his own self projected values.
2. ✗ Helps each individual student to become aware about conditioning influence's about him.

3. ✓ Helps each student to learn from educator preconceived notions about life.
4. ✗ Helps each individual student to observe and understand himself in relation to all things.

Question Number : 120 Question Id : 71939924178 Question Type : MCQ Option Shuffling : Yes Display Question Number : Yes
Single Line Question Option : No Option Orientation : Vertical

Correct Marks : 1 Wrong Marks : 0.25

निम्नलिखित में से क्या उचित प्रकार की शिक्षा के सन्दर्भ में सही नहीं है?

Options :

1. ✗ प्रत्येक छात्र को उसके स्वयं के प्रस्तावित मूल्यों को अवलोकन तथा समझने में मदद करता है।
2. ✗ प्रत्येक व्यक्ति को उसके अनुबंधन प्रभावों के बारे में जागरूक होने में मदद करता है।
3. ✓ प्रत्येक छात्र को शिक्षक जीवन के बारे में पूर्वकल्पित विचारों से ज्ञान प्राप्त करने में मदद करता है।
4. ✗ प्रत्येक छात्र को सभी चीजों के संबंध में स्वयं का अवलोकन करने तथा समझने में मदद करता है।

Discipline2

Group Number :	7
Group Id :	719399965
Group Maximum Duration :	0
Group Minimum Duration :	0
Revisit allowed for view? :	No
Revisit allowed for edit? :	No
Break time:	0
Group Marks:	20
Revisit allowed for group Instructions? :	Yes
Maximum Instruction Time:	0
Minimum Instruction Time:	0

Discipline2

Section Id :	7193991075
Section Number :	1
Section type :	Online
Mandatory or Optional:	Mandatory
Number of Questions:	20
Number of Questions to be attempted:	20
Section Marks:	20
Display Number Panel:	Yes
Group All Questions:	No

Sub-Section Number:	1
Sub-Section Id:	7193991293
Question Shuffling Allowed :	Yes

Question Number : 121 Question Id : 71939924179 Question Type : MCQ Option Shuffling : Yes Display Question Number : Yes
Single Line Question Option : No Option Orientation : Vertical

Correct Marks : 1 Wrong Marks : 0.25

Which of the following is a focus of peace oriented pedagogy?

Options :

1. ✗ Only retention of concepts

2. ✖ Only memorisation of tests
3. ✖ Achieving individual goals
4. ✔ Learning to collaborate with others

Question Number : 121 Question Id : 71939924179 Question Type : MCQ Option Shuffling : Yes Display Question Number : Yes
Single Line Question Option : No Option Orientation : Vertical

Correct Marks : 1 Wrong Marks : 0.25

निम्नलिखित में से कौन सा शांति अभिविन्यस्त उन्मुख शिक्षाशास्त्र का केंद्र बिंदु है?

Options :

1. ✖ केवल अवधारणाओं का प्रतिधारण
2. ✖ केवल याद करने का परीक्षण
3. ✖ व्यक्तिगत लक्ष्यों को प्राप्त करना
4. ✔ अन्य लोगों के साथ देशदोह का अधिगम करना

Question Number : 122 Question Id : 71939924180 Question Type : MCQ Option Shuffling : Yes Display Question Number : Yes
Single Line Question Option : No Option Orientation : Vertical

Correct Marks : 1 Wrong Marks : 0.25

What kind of motivation is provided to the students when they are given rewards like money, gifts or grades by parents or teachers for successfully completing a learning task?

Options :

1. ✖ Intrinsic motivation
2. ✔ Extrinsic motivation
3. ✖ Both intrinsic and extrinsic motivation
4. ✖ Neither intrinsic nor extrinsic motivation

Question Number : 122 Question Id : 71939924180 Question Type : MCQ Option Shuffling : Yes Display Question Number : Yes
Single Line Question Option : No Option Orientation : Vertical

Correct Marks : 1 Wrong Marks : 0.25

छात्रों को किस तरह की प्रेरणा मिलती है जब उन्हें सफलतापूर्वक कार्य पूरा करने के लिए माता-पिता या अध्यापक द्वारा पैसे, उपहार या अंक जैसे पुरस्कार दिए जाते हैं?

Options :

1. ✖ आंतरिक प्रेरणा
2. ✔ बाह्य प्रेरणा
3. ✖ आंतरिक प्रेरणा तथा बाह्य प्रेरणा दोनों
4. ✖ ना तो आंतरिक, ना ही बाह्य प्रेरणा

Question Number : 123 Question Id : 71939924181 Question Type : MCQ Option Shuffling : Yes Display Question Number : Yes
Single Line Question Option : No Option Orientation : Vertical

Correct Marks : 1 Wrong Marks : 0.25

Which of the following processes can be employed by students for retention of information learned through observation?

- I. Rehearsing the sequence of actions mentally.
- II. Storing the things observed as visuals in their memory.

Options :

1. ✖ Only I
2. ✖ Only II
3. ✔ Both I and II
4. ✖ Neither I nor II

Question Number : 123 Question Id : 71939924181 Question Type : MCQ Option Shuffling : Yes Display Question Number : Yes
Single Line Question Option : No Option Orientation : Vertical

Correct Marks : 1 Wrong Marks : 0.25

अवलोकन के माध्यम से सीखी गई जानकारी की स्मृति के लिए निम्नलिखित में से कौन सी प्रक्रिया छात्रों द्वारा उपयोग की जा सकती है?

- I. मन ही मन क्रियाओं की श्रृंखला बनाकर अभ्यास करना
- II. देखी गई वस्तुओं को दृश्य के रूप में दिमाग में स्टोर करना

Options :

- 1. ✖ केवल I
- 2. ✖ केवल II
- 3. ✔ I तथा II दोनों
- 4. ✖ ना ही I ना ही II

Question Number : 124 Question Id : 71939924182 Question Type : MCQ Option Shuffling : Yes Display Question Number : Yes
Single Line Question Option : No Option Orientation : Vertical

Correct Marks : 1 Wrong Marks : 0.25

Discovery learning method is based on which of the following principles?

- I. Principle of activity
- II. Principle of logical thinking
- III. Principle of purposeful experiences
- IV. Principle of searching for alternatives

Options :

- 1. ✖ I, II and III
- 2. ✖ II, III and IV
- 3. ✖ I, III and IV
- 4. ✔ I, II, III and IV

Question Number : 124 Question Id : 71939924182 Question Type : MCQ Option Shuffling : Yes Display Question Number : Yes
Single Line Question Option : No Option Orientation : Vertical

Correct Marks : 1 Wrong Marks : 0.25

खोज द्वारा अधिगम विधि निम्नलिखित में से किस सिद्धांत पर आधारित है?

- I. सक्रियता का सिद्धांत
- II. तर्कपूर्ण चिंतन का सिद्धांत
- III. उद्देश्यपूर्ण अनुभवों का सिद्धांत
- IV. विकल्पों की खोज का सिद्धांत

Options :

- 1. ✖ I, II तथा III
- 2. ✖ II, III तथा IV
- 3. ✖ I, III तथा IV
- 4. ✔ I, II, III तथा IV

Question Number : 125 Question Id : 71939924183 Question Type : MCQ Option Shuffling : Yes Display Question Number : Yes
Single Line Question Option : No Option Orientation : Vertical

Correct Marks : 1 Wrong Marks : 0.25

In which style of teaching, it is considered all the students in the class to be of same or similar ability level and have nearly similar meaning of objects and events?

Options :

- 1. ✖ Child-centered teaching
- 2. ✔ Syllabus-driven teaching

3. ✖ Learning by doing
4. ✖ Learning as meaning making

Question Number : 125 Question Id : 71939924183 Question Type : MCQ Option Shuffling : Yes Display Question Number : Yes
Single Line Question Option : No Option Orientation : Vertical

Correct Marks : 1 Wrong Marks : 0.25

शिक्षण की किस शैली में, यह माना जाता है कि कक्षा के सभी बच्चों का योग्यता स्तर समान या एक जैसा है तथा वस्तुओं तथा घटनाओं के लगभग समान अर्थ हैं?

Options :

1. ✖ छात्र-केंद्रित शिक्षण
2. ✔ पाठ्यक्रम-आधारित शिक्षण
3. ✖ करके-सीखने द्वारा अधिगम
4. ✖ अर्थ निर्माण के रूप में अधिगम

Question Number : 126 Question Id : 71939924184 Question Type : MCQ Option Shuffling : Yes Display Question Number : Yes
Single Line Question Option : No Option Orientation : Vertical

Correct Marks : 1 Wrong Marks : 0.25

Which of the following is/are the characteristics of Formal Operation stage of Piaget's stages of Cognitive Development?

- I. Development of strong idealism
- II. Complete generality of thought
- III. Ability to deal with hypothetical ideas and situations

Options :

1. ✖ I and II
2. ✖ II and III
3. ✖ I and III
4. ✔ I, II and III

Question Number : 126 Question Id : 71939924184 Question Type : MCQ Option Shuffling : Yes Display Question Number : Yes
Single Line Question Option : No Option Orientation : Vertical

Correct Marks : 1 Wrong Marks : 0.25

निम्नलिखित में से कौन सा/से प्याजे के संज्ञानात्मक विकास अवस्था के औपचारिक संक्रिया अवस्था के लक्षण हैं?

- I. सशक्त आदर्शवाद का विकास
- II. विचारों में सम्पूर्ण सामान्यीकरण
- III. परिकल्पित विचारों तथा स्थितियों का सामना करने की योग्यता

Options :

1. ✖ I तथा II
2. ✖ II तथा III
3. ✖ I तथा III
4. ✔ I, II तथा III

Question Number : 127 Question Id : 71939924185 Question Type : MCQ Option Shuffling : Yes Display Question Number : Yes
Single Line Question Option : No Option Orientation : Vertical

Correct Marks : 1 Wrong Marks : 0.25

In which teaching approach, the textbook in the subject is considered as the storehouse of all the required concepts, examples and exercise that are required for the teaching-learning process?

Options :

1. ✖ Learner centered approach
2. ✔ Subject centered approach

3. ✖ Competency based approach

4. ✖ Constructivist approach

Question Number : 127 Question Id : 71939924185 Question Type : MCQ Option Shuffling : Yes Display Question Number : Yes
Single Line Question Option : No Option Orientation : Vertical

Correct Marks : 1 Wrong Marks : 0.25

किस शिक्षण उपागम में, विषय में पाठ्यपुस्तक को सभी आवश्यक अवधारणा, उदाहरण तथा अभ्यास के भण्डार गृह के रूप में माना जाता है जिसकी शिक्षण-अधिगम प्रक्रिया के लिए आवश्यकता होती है?

Options :

1. ✖ अध्येता केंद्रित उपागम

2. ✔ विषय केंद्रित उपागम

3. ✖ दक्षता आधारित उपागम

4. ✖ संरचनात्मक उपागम

Question Number : 128 Question Id : 71939924186 Question Type : MCQ Option Shuffling : Yes Display Question Number : Yes
Single Line Question Option : No Option Orientation : Vertical

Correct Marks : 1 Wrong Marks : 0.25

Which assessment strategies are used in constructivist assessment?

I. Oral discussion

II. Mind mapping

III. Pre-testing

IV. Hands on activities

Options :

1. ✖ I, II and III

2. ✖ I, II and IV

3. ✖ II, III and IV

4. ✔ I, II, III and IV

Question Number : 128 Question Id : 71939924186 Question Type : MCQ Option Shuffling : Yes Display Question Number : Yes
Single Line Question Option : No Option Orientation : Vertical

Correct Marks : 1 Wrong Marks : 0.25

संरचनात्मक मूल्यांकन में किन मूल्यांकन युक्तियों का उपयोग किया जाता है?

I. मौखिक चर्चा

II. माइंड मैपिंग

III. पूर्व परीक्षण

IV. व्यावहारिक क्रियाकलाप

Options :

1. ✖ I, II तथा III

2. ✖ I, II तथा IV

3. ✖ II, III तथा IV

4. ✔ I, II, III तथा IV

Question Number : 129 Question Id : 71939924187 Question Type : MCQ Option Shuffling : Yes Display Question Number : Yes
Single Line Question Option : No Option Orientation : Vertical

Correct Marks : 1 Wrong Marks : 0.25

Which of the following is/are the principles of Play-way method of teaching?

- I. Principle of fulfillment of desires
- II. Principle of unfolding innate potentials
- III. Principle of natural instincts
- IV. Principle of responsibility

Options :

- 1. ✖ I, II and III
- 2. ✖ I, II and IV
- 3. ✖ II, III and IV
- 4. ✔ I, II, III and IV

Question Number : 129 Question Id : 71939924187 Question Type : MCQ Option Shuffling : Yes Display Question Number : Yes
Single Line Question Option : No Option Orientation : Vertical

Correct Marks : 1 Wrong Marks : 0.25

निम्नलिखित में से कौन सा/से शिक्षण की खेल कूद विधि के सिद्धांत हैं?

- I. इच्छापूर्ति का सिद्धांत
- II. अंतःशक्तियों के अभिव्यक्तिकरण का सिद्धांत
- III. नैसर्गिक स्वभाव का सिद्धांत
- IV. जिम्मेदारी का सिद्धांत

Options :

- 1. ✖ I, II तथा III
- 2. ✖ I, II तथा IV
- 3. ✖ II, III तथा IV
- 4. ✔ I, II, III तथा IV

Question Number : 130 Question Id : 71939924188 Question Type : MCQ Option Shuffling : Yes Display Question Number : Yes
Single Line Question Option : No Option Orientation : Vertical

Correct Marks : 1 Wrong Marks : 0.25

In which method of teaching, students are placed in the position of discoverers or inventors?

Options :

- 1. ✔ Heuristic method
- 2. ✖ Project method
- 3. ✖ Play way method
- 4. ✖ Problem solving method

Question Number : 130 Question Id : 71939924188 Question Type : MCQ Option Shuffling : Yes Display Question Number : Yes
Single Line Question Option : No Option Orientation : Vertical

Correct Marks : 1 Wrong Marks : 0.25

शिक्षण की किस विधि में, विद्यार्थियों को खोजकर्ता या आविष्कारक के स्थान पर रखा जाता है?

Options :

- 1. ✔ ह्यूरिस्टिक विधि
- 2. ✖ प्रोजेक्ट विधि
- 3. ✖ खेल कूद विधि
- 4. ✖ समस्या समाधान विधि

Question Number : 131 Question Id : 71939924189 Question Type : MCQ Option Shuffling : Yes Display Question Number : Yes
Single Line Question Option : No Option Orientation : Vertical

Correct Marks : 1 Wrong Marks : 0.25

Which of the following statement regarding accomodating learning style of Kolb's model is/are correct?

- I. It relies on intuition rather than logic.
- II. Learner's use other people's analysis and prefer to take a practical, experimental approach.
- III. Learners prefer to work in teams to complete tasks.

Options :

- 1. ✖ I and II
- 2. ✖ II and III
- 3. ✖ I and III
- 4. ✔ I, II and III

Question Number : 131 Question Id : 71939924189 Question Type : MCQ Option Shuffling : Yes Display Question Number : Yes
Single Line Question Option : No Option Orientation : Vertical

Correct Marks : 1 Wrong Marks : 0.25

कोल्ब के मॉडल की सामंजस्यीकरण अधिगम शैली के बारे में निम्नलिखित में से कौन सा/से कथन सही है?

- I. यह तर्क की अपेक्षा अंतर्ज्ञान पर निर्भर करती है।
- II. शिक्षार्थी दूसरों के विश्लेषण का उपयोग करते हैं तथा व्यावहारिक, प्रयोगात्मक उपागम अपना पसंद करते हैं।
- III. शिक्षार्थी कार्यों को पूरा करने के लिए समूहों में कार्य करना पसंद करते हैं।

Options :

- 1. ✖ I तथा II
- 2. ✖ II तथा III
- 3. ✖ I तथा III
- 4. ✔ I, II तथा III

Question Number : 132 Question Id : 71939924190 Question Type : MCQ Option Shuffling : Yes Display Question Number : Yes
Single Line Question Option : No Option Orientation : Vertical

Correct Marks : 1 Wrong Marks : 0.25

Which of the following forms a part of the assessment in learning-centred approach to learning?

- I. Peer and self-assessment
- II. Integrated assessment
- III. Students and teachers agree on feedback timeframes

Options :

- 1. ✖ I and II
- 2. ✖ II and III
- 3. ✖ I and III
- 4. ✔ I, II and III

Question Number : 132 Question Id : 71939924190 Question Type : MCQ Option Shuffling : Yes Display Question Number : Yes
Single Line Question Option : No Option Orientation : Vertical

Correct Marks : 1 Wrong Marks : 0.25

निम्नलिखित में से क्या अधिगम के अधिगम केंद्रित उपागम में मूल्यांकन का एक हिस्सा है?

- I. सहपाठी तथा स्व-मूल्यांकन
- II. समाकलित मूल्यांकन
- III. विद्यार्थी तथा अध्यापक प्रतिपुष्टि के लिए समय निर्धारण पर सहमत होते हैं

Options :

- 1. ✖ I तथा II
- 2. ✖ II तथा III
- 3. ✖ I तथा III

4. ✓ I, II तथा III

Question Number : 133 Question Id : 71939924191 Question Type : MCQ Option Shuffling : Yes Display Question Number : Yes
Single Line Question Option : No Option Orientation : Vertical

Correct Marks : 1 Wrong Marks : 0.25

Which positive outcomes can be achieved by a teacher in the classroom by using Cooperative learning method?

- I. Academic gains
- II. Social development
- III. Improved interpersonal relations

Options :

- 1. ✗ I and II
- 2. ✗ II and III
- 3. ✗ I and III
- 4. ✓ I, II and III

Question Number : 133 Question Id : 71939924191 Question Type : MCQ Option Shuffling : Yes Display Question Number : Yes
Single Line Question Option : No Option Orientation : Vertical

Correct Marks : 1 Wrong Marks : 0.25

सहकारी अधिगम विधि का उपयोग करके कक्षा में अध्यापक द्वारा कौन से सकारात्मक परिणाम प्राप्त किए जा सकते हैं?

- I. शैक्षणिक लाभ
- II. सामाजिक विकास
- III. बेहतर अंतर्व्यक्तिक संबंध

Options :

- 1. ✗ I तथा II
- 2. ✗ II तथा III
- 3. ✗ I तथा III
- 4. ✓ I, II तथा III

Question Number : 134 Question Id : 71939924192 Question Type : MCQ Option Shuffling : Yes Display Question Number : Yes
Single Line Question Option : No Option Orientation : Vertical

Correct Marks : 1 Wrong Marks : 0.25

What is/are the advantages of activity based learning?

- I. It provides scope for learning in one's own style and own pace of learning.
- II. It develops the ability of self-learning.
- III. Students develop the abilities of enquiry, assessing one's own knowledge and construction of new knowledge.

Options :

- 1. ✗ I and II
- 2. ✗ I and III
- 3. ✗ II and III
- 4. ✓ I, II and III

Question Number : 134 Question Id : 71939924192 Question Type : MCQ Option Shuffling : Yes Display Question Number : Yes
Single Line Question Option : No Option Orientation : Vertical

Correct Marks : 1 Wrong Marks : 0.25

क्रियाकलाप आधारित उपागम का/के क्या लाभ है/हैं?

- I. यह अपनी शैली में सीखने तथा सीखने की गति का निर्धारण करने के लिए कार्यक्षेत्र उपलब्ध कराता है।
- II. यह स्व-अधिगम की क्षमता विकसित करता है।
- III. विद्यार्थी में खोजी क्षमताओं, स्वयं के ज्ञान का मूल्यांकन तथा नए ज्ञान की संरचना जैसी क्षमताओं का विकास होता है।

Options :

- 1. ✖ I तथा II
- 2. ✖ I तथा III
- 3. ✖ II तथा III
- 4. ✔ I, II तथा III

Question Number : 135 Question Id : 71939924193 Question Type : MCQ Option Shuffling : Yes Display Question Number : Yes
Single Line Question Option : No Option Orientation : Vertical

Correct Marks : 1 Wrong Marks : 0.25

In group learning approach, what functions are performed by the teacher in the classroom?

- I. To form groups
- II. To hinder communication in the group
- III. To consolidate the outcomes of the learning in the group

Options :

- 1. ✖ I and II
- 2. ✖ II and III
- 3. ✔ I and III
- 4. ✖ I, II and III

Question Number : 135 Question Id : 71939924193 Question Type : MCQ Option Shuffling : Yes Display Question Number : Yes
Single Line Question Option : No Option Orientation : Vertical

Correct Marks : 1 Wrong Marks : 0.25

समूह अधिगम उपागम में, कक्षा में अध्यापक द्वारा कौन से कार्य किए जाते हैं?

- I. समूह का निर्माण करना
- II. समूह में संप्रेषण में बाधा उत्पन्न करना
- III. समूह में अधिगम परिणामों को समेकित करना

Options :

- 1. ✖ I तथा II
- 2. ✖ II तथा III
- 3. ✔ I तथा III
- 4. ✖ I, II तथा III

Question Number : 136 Question Id : 71939924194 Question Type : MCQ Option Shuffling : Yes Display Question Number : Yes
Single Line Question Option : No Option Orientation : Vertical

Correct Marks : 1 Wrong Marks : 0.25

Which of the following teacher learning method is a projected aid used by a teacher in teaching-learning process?

Options :

- 1. ✔ Epidiascope
- 2. ✖ Chalk board
- 3. ✖ Field trips
- 4. ✖ Photographs

Question Number : 136 Question Id : 71939924194 Question Type : MCQ Option Shuffling : Yes Display Question Number : Yes
Single Line Question Option : No Option Orientation : Vertical

Correct Marks : 1 Wrong Marks : 0.25

निम्नलिखित में से कौन सी शिक्षण-अधिगम सामग्री शिक्षण-अधिगम प्रक्रिया के लिए कक्षा में अध्यापक द्वारा प्रयुक्त होने वाली प्रक्षेपित सहायक सामग्री है?

Options :

1. ✓ एपीडियास्कोप
2. ✗ चॉक बोर्ड
3. ✗ क्षेत्रीय भ्रमण
4. ✗ फोटोग्राफ

Question Number : 137 Question Id : 71939924195 Question Type : MCQ Option Shuffling : Yes Display Question Number : Yes
Single Line Question Option : No Option Orientation : Vertical

Correct Marks : 1 Wrong Marks : 0.25

Which of the following show that language is associated with the identity of an individual?

- I. Language of a person indicates the class of people he lives with.
- II. Language is a decisive factor in maintaining class hierarchy.
- III. A person speaking a different language is not accepted as a fellow human being.

Options :

1. ✓ I and II
2. ✗ I and III
3. ✗ II and III
4. ✗ I, II and III

Question Number : 137 Question Id : 71939924195 Question Type : MCQ Option Shuffling : Yes Display Question Number : Yes
Single Line Question Option : No Option Orientation : Vertical

Correct Marks : 1 Wrong Marks : 0.25

निम्नलिखित में से क्या यह दर्शाता है कि भाषा किसी व्यक्ति की पहचान से जुड़ी हुई है?

- I. किसी व्यक्ति की भाषा यह दर्शाती है कि वह किस वर्ग के लोगों के साथ रहता है।
- II. वर्ग पदानुक्रम को बनाए रखने में भाषा एक निर्णायक कारक है।
- III. एक अलग भाषा बोलने वाले व्यक्ति को एक साथी इंसान के रूप में स्वीकार नहीं किया जाता है।

Options :

1. ✓ I तथा II
2. ✗ I तथा III
3. ✗ II तथा III
4. ✗ I, II तथा III

Question Number : 138 Question Id : 71939924196 Question Type : MCQ Option Shuffling : Yes Display Question Number : Yes
Single Line Question Option : No Option Orientation : Vertical

Correct Marks : 1 Wrong Marks : 0.25

Which of the following statements regarding multilingualism are true?

- I. Multilingualism can be a hindrance to personal development.
- II. Multilingualism can be termed as an expression of cultural richness.
- III. Multilingualism makes a person more tolerant.
- IV. Prevalence of multilingualism in India has halted its economic development.

Options :

1. ✗ I and II
2. ✗ II, III and IV
3. ✓ II and III

4. ✖ I, II and IV

Question Number : 138 Question Id : 71939924196 Question Type : MCQ Option Shuffling : Yes Display Question Number : Yes
Single Line Question Option : No Option Orientation : Vertical

Correct Marks : 1 Wrong Marks : 0.25

बहुभाषावाद के संबंध में निम्नलिखित में से कौन से कथन सत्य हैं?

- I. बहुभाषावाद व्यक्तिगत विकास में बाधा बन सकता है।
- II. बहुभाषावाद को सांस्कृतिक समृद्धि की अभिव्यक्ति के रूप में देखा जा सकता है।
- III. बहुभाषावाद एक व्यक्ति को अधिक सहिष्णु बनाता है।
- IV. भारत में बहुभाषावाद की व्यापकता ने इसके आर्थिक विकास को रोक दिया है।

Options :

- 1. ✖ I तथा II
- 2. ✖ II, III तथा IV
- 3. ✔ II तथा III
- 4. ✖ I, II तथा IV

Question Number : 139 Question Id : 71939924197 Question Type : MCQ Option Shuffling : Yes Display Question Number : Yes
Single Line Question Option : No Option Orientation : Vertical

Correct Marks : 1 Wrong Marks : 0.25

Why do we must ensure flexibility in our lesson plan?

- I. Flexibility in lesson plan would allow us to incorporate many things in one plan so that we can finish the curriculum sooner.
- II. Flexibility will allow us to adjust the plan by continuous assessment.
- III. Continuous evaluation is less important than a rigid lesson plan.

Options :

- 1. ✖ I and II
- 2. ✔ Only II
- 3. ✖ Only I
- 4. ✖ I, II and III

Question Number : 139 Question Id : 71939924197 Question Type : MCQ Option Shuffling : Yes Display Question Number : Yes
Single Line Question Option : No Option Orientation : Vertical

Correct Marks : 1 Wrong Marks : 0.25

हमें अपनी पाठ योजना में लचीलापन क्यों सुनिश्चित करना चाहिए?

- I. पाठ योजना में लचीलापन एक योजना में कई चीजों को शामिल करने की अनुमति देगा ताकि पाठ्यक्रम को जल्द पूरा किया जा सके।
- II. लचीलापन निरंतर आकलन के जरिये योजना को समायोजित करने देगा।
- III. दृढ़ पाठ योजना की तुलना में निरंतर मूल्यांकन कम महत्वपूर्ण है।

Options :

- 1. ✖ I तथा II
- 2. ✔ केवल II
- 3. ✖ केवल I
- 4. ✖ I, II तथा III

Question Number : 140 Question Id : 71939924198 Question Type : MCQ Option Shuffling : Yes Display Question Number : Yes
Single Line Question Option : No Option Orientation : Vertical

Correct Marks : 1 Wrong Marks : 0.25

Suppose we want to know that in a particular village, how many persons are there in various income groups. For this the data will be available with the municipality /panchayat office. This is a scenario of data being collected from which of the following source?

- I. Primary source
- II. Secondary source

Options :

- 1. ✖ Only I
- 2. ✔ Only II
- 3. ✖ Both I and II
- 4. ✖ Neither I nor II

Question Number : 140 Question Id : 71939924198 Question Type : MCQ Option Shuffling : Yes Display Question Number : Yes
Single Line Question Option : No Option Orientation : Vertical

Correct Marks : 1 Wrong Marks : 0.25

मान लीजिए हम किसी विशेष गांव में, विभिन्न आय वर्गों में व्यक्तियों की संख्या जानना चाहते हैं। इसके लिए, आंकड़ें नगर पालिका/पंचायत कार्यालय के पास उपलब्ध होंगे। यह निम्नलिखित में से किस स्रोत से एकत्रित किए गए आंकड़ों का एक उदाहरण है?

- I. प्राथमिक स्रोत
- II. द्वितीयक स्रोत

Options :

- 1. ✖ केवल I
- 2. ✔ केवल II
- 3. ✖ I तथा II दोनों
- 4. ✖ ना ही I ना ही II

Discipline3

Group Number :	8
Group Id :	719399966
Group Maximum Duration :	0
Group Minimum Duration :	0
Revisit allowed for view? :	No
Revisit allowed for edit? :	No
Break time:	0
Group Marks:	20
Revisit allowed for group Instructions? :	Yes
Maximum Instruction Time:	0
Minimum Instruction Time:	0

Discipline3

Section Id :	7193991076
Section Number :	1
Section type :	Online
Mandatory or Optional:	Mandatory
Number of Questions:	20
Number of Questions to be attempted:	20
Section Marks:	20
Display Number Panel:	Yes
Group All Questions:	No

Sub-Section Number: 1
Sub-Section Id: 7193991294
Question Shuffling Allowed : Yes

Question Number : 141 Question Id : 71939924199 Question Type : MCQ Option Shuffling : Yes Display Question Number : Yes
Single Line Question Option : No Option Orientation : Vertical

Correct Marks : 1 Wrong Marks : 0.25

In metric and imperial system both, which of the following is/are the types of measuring units?

- I. The base units
- II. The derived units

Options :

- 1. ✖ Only I
- 2. ✖ Only II
- 3. ✔ Both I and II
- 4. ✖ Neither I nor II

Question Number : 141 Question Id : 71939924199 Question Type : MCQ Option Shuffling : Yes Display Question Number : Yes
Single Line Question Option : No Option Orientation : Vertical

Correct Marks : 1 Wrong Marks : 0.25

मेट्रिक तथा इम्पीरियल प्रणाली दोनों में, निम्नलिखित में से कौन सा/से मापन इकाइयों का/के प्रकार हैं?

- I. आधारभूत इकाइयाँ
- II. व्युत्पन्न इकाइयाँ

Options :

- 1. ✖ केवल I
- 2. ✖ केवल II
- 3. ✔ I तथा II दोनों
- 4. ✖ ना ही I ना ही II

Question Number : 142 Question Id : 71939924200 Question Type : MCQ Option Shuffling : Yes Display Question Number : Yes
Single Line Question Option : No Option Orientation : Vertical

Correct Marks : 1 Wrong Marks : 0.25

Which of the following statement represents the time measure?

- I. How long do we take to complete a work?
- II. When did an event happen during the day?
- III. The quantity of water displaced by a 3D body.

Options :

- 1. ✖ I and III
- 2. ✔ I and II
- 3. ✖ II and III
- 4. ✖ I, II and III

Question Number : 142 Question Id : 71939924200 Question Type : MCQ Option Shuffling : Yes Display Question Number : Yes
Single Line Question Option : No Option Orientation : Vertical

Correct Marks : 1 Wrong Marks : 0.25

निम्नलिखित में से कौन सा कथन समय – माप को दर्शाता है?

- I. किसी कार्य को पूरा करने में हमें कितना समय लगता है?
- II. कोई घटना दिन में कब घटित हुई?
- III. 3D वस्तु द्वारा विस्थापित पानी की मात्रा

Options :

- 1. ✖ I तथा III
- 2. ✔ I तथा II
- 3. ✖ II तथा III
- 4. ✖ I, II तथा III

Question Number : 143 Question Id : 71939924201 Question Type : MCQ Option Shuffling : Yes Display Question Number : Yes
Single Line Question Option : No Option Orientation : Vertical

Correct Marks : 1 Wrong Marks : 0.25

_____ figure has two triangular faces (one at the top and one at the bottom) generally known as bases and three rectangular faces perpendicular to the triangular end.

Options :

- 1. ✖ Cylinder
- 2. ✖ Frustum
- 3. ✖ Pyramid
- 4. ✔ Prism

Question Number : 143 Question Id : 71939924201 Question Type : MCQ Option Shuffling : Yes Display Question Number : Yes
Single Line Question Option : No Option Orientation : Vertical

Correct Marks : 1 Wrong Marks : 0.25

_____ आकृति में दो त्रिभुजाकार फलक होते हैं (एक ऊपर तथा एक नीचे) जिन्हें आमतौर पर आधार के नाम से जाना जाता है तथा तीन आयताकार फलक जो त्रिकोणीय छोर के लंबवत् होते हैं।

Options :

- 1. ✖ बेलन
- 2. ✖ छिन्नक
- 3. ✖ पिरामिड
- 4. ✔ प्रिज़्म

Question Number : 144 Question Id : 71939924202 Question Type : MCQ Option Shuffling : Yes Display Question Number : Yes
Single Line Question Option : No Option Orientation : Vertical

Correct Marks : 1 Wrong Marks : 0.25

Which of the following is not a basic axiom of geometry?

Options :

- 1. ✖ Every line (i.e. straight line) and plane is a set of points.
- 2. ✖ If two planes intersect, then their intersection is a straight line.
- 3. ✔ Only few lines can be drawn through one point.
- 4. ✖ The line drawn through two given points in a plane also lies in the plane.

Question Number : 144 Question Id : 71939924202 Question Type : MCQ Option Shuffling : Yes Display Question Number : Yes
Single Line Question Option : No Option Orientation : Vertical

Correct Marks : 1 Wrong Marks : 0.25

निम्नलिखित में से कौन सा ज्यामिति का एक मूल अभिगृहीत नहीं है?

Options :

- 1. ✖ हर रेखा (यानी सीधी रेखा) तथा समतल बिंदुओं का एक समुच्चय है।
- 2. ✖ यदि दो समतल एक दूसरे को काटते हैं, तो उनका प्रतिच्छेदन एक सीधी रेखा होती है।

3. ✓ एक बिंदु से केवल कुछ रेखाएं खींची जा सकती हैं।

4. ✗ एक समतल में दो दिए गए बिंदुओं के माध्यम से खींची गई रेखा भी समतल में निहित होती है।

Question Number : 145 Question Id : 71939924203 Question Type : MCQ Option Shuffling : Yes Display Question Number : Yes
Single Line Question Option : No Option Orientation : Vertical

Correct Marks : 1 Wrong Marks : 0.25

The word 'meter' is derived from a Greek word _____.

Options :

1. ✓ Metron

2. ✗ Mentor

3. ✗ Morton

4. ✗ Metran

Question Number : 145 Question Id : 71939924203 Question Type : MCQ Option Shuffling : Yes Display Question Number : Yes
Single Line Question Option : No Option Orientation : Vertical

Correct Marks : 1 Wrong Marks : 0.25

'मीटर' शब्द _____ ग्रीक शब्द से लिया गया है।

Options :

1. ✓ मेट्रॉन

2. ✗ मेंटर

3. ✗ मॉर्टन

4. ✗ मेट्रान

Question Number : 146 Question Id : 71939924204 Question Type : MCQ Option Shuffling : Yes Display Question Number : Yes
Single Line Question Option : No Option Orientation : Vertical

Correct Marks : 1 Wrong Marks : 0.25

In which year, the metric system in weights and measures was adopted by the Indian Parliament?

Options :

1. ✓ 1956

2. ✗ 1962

3. ✗ 1967

4. ✗ 1966

Question Number : 146 Question Id : 71939924204 Question Type : MCQ Option Shuffling : Yes Display Question Number : Yes
Single Line Question Option : No Option Orientation : Vertical

Correct Marks : 1 Wrong Marks : 0.25

किस वर्ष में बाट तथा माप की मीट्रिक प्रणाली को भारतीय संसद द्वारा अपनाया गया था?

Options :

1. ✓ 1956

2. ✗ 1962

3. ✗ 1967

4. ✗ 1966

Question Number : 147 Question Id : 71939924205 Question Type : MCQ Option Shuffling : Yes Display Question Number : Yes
Single Line Question Option : No Option Orientation : Vertical

Correct Marks : 1 Wrong Marks : 0.25

Which of the following additional care is needed to be taken to enable the children to learn using the scale correctly?

- I. Familiarizing children with the marking of sub-units on the scale.
- II. Appropriately placing the scale with the object of measurement.
- III. Estimating the length before exactly determining it.
- IV. Correctly calculating the length.

Options :

- 1. ✖ Only IV
- 2. ✖ II, III and IV
- 3. ✖ I, II and IV
- 4. ✔ I, II, III and IV

Question Number : 147 Question Id : 71939924205 Question Type : MCQ Option Shuffling : Yes Display Question Number : Yes
Single Line Question Option : No Option Orientation : Vertical

Correct Marks : 1 Wrong Marks : 0.25

बच्चों को सही तरीके से स्केल का उपयोग करना तथा सिखने को सक्षम बनाने के लिए निम्नलिखित में से किस अतिरिक्त देखभाल की आवश्यकता है?

- I. स्केल पर उप-इकाइयों के अंकन से बच्चों को परिचित कराना
- II. मापन वस्तु के साथ स्केल को उचित रूप से रखना
- III. वास्तविक लंबाई ज्ञात करने से पहले लंबाई का अनुमान लगाना
- IV. लंबाई की सही ढंग से गणना करना

Options :

- 1. ✖ केवल IV
- 2. ✖ II, III तथा IV
- 3. ✖ I, II तथा IV
- 4. ✔ I, II, III तथा IV

Question Number : 148 Question Id : 71939924206 Question Type : MCQ Option Shuffling : Yes Display Question Number : Yes
Single Line Question Option : No Option Orientation : Vertical

Correct Marks : 1 Wrong Marks : 0.25

Concept of reflection in geometry is similar to the reflection in mirror. Reflections create _____ in figures.

- I. Dissimilarity
- II. Symmetry

Options :

- 1. ✖ Only I
- 2. ✔ Only II
- 3. ✖ Both I and II
- 4. ✖ Neither I nor II

Question Number : 148 Question Id : 71939924206 Question Type : MCQ Option Shuffling : Yes Display Question Number : Yes
Single Line Question Option : No Option Orientation : Vertical

Correct Marks : 1 Wrong Marks : 0.25

ज्यामिति में परावर्तन की अवधारणा दर्पण में परावर्तन के समान होती है। परावर्तन आकृतियों में _____ उत्पन्न करता है।

- I. विषमता
- II. सममिति

Options :

- 1. ✖ केवल I
- 2. ✔ केवल II
- 3. ✖ I तथा II दोनों

4. ✖ ना ही I ना ही II

Question Number : 149 Question Id : 71939924207 Question Type : MCQ Option Shuffling : Yes Display Question Number : Yes
Single Line Question Option : No Option Orientation : Vertical

Correct Marks : 1 Wrong Marks : 0.25

Which of the following statements is correct?

- I. A box, a piece of brick and bodies of the like shape with unequal dimensions is known as cuboid.
- II. A cuboid having equal length, breadth and height is known as a cube.

Options :

- 1. ✖ Only I
- 2. ✖ Only II
- 3. ✔ Both I and II
- 4. ✖ Neither I nor II

Question Number : 149 Question Id : 71939924207 Question Type : MCQ Option Shuffling : Yes Display Question Number : Yes
Single Line Question Option : No Option Orientation : Vertical

Correct Marks : 1 Wrong Marks : 0.25

निम्नलिखित कथनों में से कौन सा सही है?

- I. एक बॉक्स, एक ईंट तथा असमान आयामों वाली समान आकार की वस्तुओं को घनाभ के नाम से जाना जाता है।
- II. एक घनाभ जिसकी लंबाई, चौड़ाई तथा ऊँचाई बराबर हो उसे एक घन के नाम से जाना जाता है।

Options :

- 1. ✖ केवल I
- 2. ✖ केवल II
- 3. ✔ I तथा II दोनों
- 4. ✖ ना ही I ना ही II

Question Number : 150 Question Id : 71939924208 Question Type : MCQ Option Shuffling : Yes Display Question Number : Yes
Single Line Question Option : No Option Orientation : Vertical

Correct Marks : 1 Wrong Marks : 0.25

Improve the bracketed part of the sentence.

Raj bought an apple (with) a shop.

Options :

- 1. ✔ from
- 2. ✖ to
- 3. ✖ at
- 4. ✖ No improvement

Question Number : 150 Question Id : 71939924208 Question Type : MCQ Option Shuffling : Yes Display Question Number : Yes
Single Line Question Option : No Option Orientation : Vertical

Correct Marks : 1 Wrong Marks : 0.25

Improve the bracketed part of the sentence.

Raj bought an apple (with) a shop.

Options :

- 1. ✔ from
- 2. ✖ to
- 3. ✖ at

4. ✖ No improvement

Question Number : 151 Question Id : 71939924209 Question Type : MCQ Option Shuffling : Yes Display Question Number : Yes
Single Line Question Option : No Option Orientation : Vertical

Correct Marks : 1 Wrong Marks : 0.25

Choose the word that is opposite in meaning to the given word.

Hatred

Options :

1. ✖ loth
2. ✖ host
3. ✔ liking
4. ✖ safe

Question Number : 151 Question Id : 71939924209 Question Type : MCQ Option Shuffling : Yes Display Question Number : Yes
Single Line Question Option : No Option Orientation : Vertical

Correct Marks : 1 Wrong Marks : 0.25

Choose the word that is opposite in meaning to the given word.

Hatred

Options :

1. ✖ loth
2. ✖ host
3. ✔ liking
4. ✖ safe

Question Number : 152 Question Id : 71939924210 Question Type : MCQ Option Shuffling : Yes Display Question Number : Yes
Single Line Question Option : No Option Orientation : Vertical

Correct Marks : 1 Wrong Marks : 0.25

Choose the word that means the same as the given word.

Force

Options :

1. ✖ sorrow
2. ✖ easy
3. ✔ compel
4. ✖ TRUE

Question Number : 152 Question Id : 71939924210 Question Type : MCQ Option Shuffling : Yes Display Question Number : Yes
Single Line Question Option : No Option Orientation : Vertical

Correct Marks : 1 Wrong Marks : 0.25

Choose the word that means the same as the given word.

Force

Options :

1. ✖ sorrow
2. ✖ easy
3. ✔ compel
4. ✖ TRUE

Question Number : 153 Question Id : 71939924211 Question Type : MCQ Option Shuffling : Yes Display Question Number : Yes
Single Line Question Option : No Option Orientation : Vertical

Correct Marks : 1 Wrong Marks : 0.25

Choose the word that means the same as the given word.

Guest

Options :

1. ✖ host
2. ✔ visitor
3. ✖ enslave
4. ✖ grow

Question Number : 153 Question Id : 71939924211 Question Type : MCQ Option Shuffling : Yes Display Question Number : Yes
Single Line Question Option : No Option Orientation : Vertical

Correct Marks : 1 Wrong Marks : 0.25

Choose the word that means the same as the given word.

Guest

Options :

1. ✖ host
2. ✔ visitor
3. ✖ enslave
4. ✖ grow

Question Number : 154 Question Id : 71939924212 Question Type : MCQ Option Shuffling : Yes Display Question Number : Yes
Single Line Question Option : No Option Orientation : Vertical

Correct Marks : 1 Wrong Marks : 0.25

Choose the word that can substitute the given sentence.

A book of names and addresses

Options :

1. ✖ memoirs
2. ✔ directory
3. ✖ cenotaph
4. ✖ harangue

Question Number : 154 Question Id : 71939924212 Question Type : MCQ Option Shuffling : Yes Display Question Number : Yes
Single Line Question Option : No Option Orientation : Vertical

Correct Marks : 1 Wrong Marks : 0.25

Choose the word that can substitute the given sentence.

A book of names and addresses

Options :

1. ✖ memoirs
2. ✔ directory
3. ✖ cenotaph
4. ✖ harangue

Question Number : 155 Question Id : 71939924213 Question Type : MCQ Option Shuffling : Yes Display Question Number : Yes
Single Line Question Option : No Option Orientation : Vertical

Correct Marks : 1 Wrong Marks : 0.25

In the following question, out of the given four alternatives, select the alternative which best expresses the meaning of the Idiom/Phrase.

Cock-and-bull story

Options :

1. ✖ investigate
2. ✔ an absurd tale
3. ✖ Establish oneself
4. ✖ attend to

Question Number : 155 Question Id : 71939924213 Question Type : MCQ Option Shuffling : Yes Display Question Number : Yes
Single Line Question Option : No Option Orientation : Vertical

Correct Marks : 1 Wrong Marks : 0.25

In the following question, out of the given four alternatives, select the alternative which best expresses the meaning of the Idiom/Phrase.

Cock-and-bull story

Options :

1. ✖ investigate
2. ✔ an absurd tale
3. ✖ Establish oneself
4. ✖ attend to

Question Number : 156 Question Id : 71939924214 Question Type : MCQ Option Shuffling : Yes Display Question Number : Yes
Single Line Question Option : No Option Orientation : Vertical

Correct Marks : 1 Wrong Marks : 0.25

In the following question, out of the given four alternatives, select the alternative which best expresses the meaning of the Idiom/Phrase.

Go out of one's way

Options :

1. ✖ to be plain and evident
2. ✔ make a special effort
3. ✖ laughing out loud
4. ✖ abandoned without support

Question Number : 156 Question Id : 71939924214 Question Type : MCQ Option Shuffling : Yes Display Question Number : Yes
Single Line Question Option : No Option Orientation : Vertical

Correct Marks : 1 Wrong Marks : 0.25

In the following question, out of the given four alternatives, select the alternative which best expresses the meaning of the Idiom/Phrase.

Go out of one's way

Options :

1. ✖ to be plain and evident
2. ✔ make a special effort
3. ✖ laughing out loud
4. ✖ abandoned without support

Question Number : 157 Question Id : 71939924215 Question Type : MCQ Option Shuffling : Yes Display Question Number : Yes
Single Line Question Option : No Option Orientation : Vertical

Correct Marks : 1 Wrong Marks : 0.25

A sentence has been given with a blank to be filled with an appropriate word. Choose the correct alternative.

We _____ have time to catch the flight.

Options :

1. ✖ yet
2. ✔ still
3. ✖ and
4. ✖ without

Question Number : 157 Question Id : 71939924215 Question Type : MCQ Option Shuffling : Yes Display Question Number : Yes
Single Line Question Option : No Option Orientation : Vertical

Correct Marks : 1 Wrong Marks : 0.25

A sentence has been given with a blank to be filled with an appropriate word. Choose the correct alternative.

We _____ have time to catch the flight.

Options :

1. ✖ yet
2. ✔ still
3. ✖ and
4. ✖ without

Question Number : 158 Question Id : 71939924216 Question Type : MCQ Option Shuffling : Yes Display Question Number : Yes
Single Line Question Option : No Option Orientation : Vertical

Correct Marks : 1 Wrong Marks : 0.25

The most important measure of learning for Skinner is the rate of _____.

- I. messaging
- II. responding

Options :

1. ✖ Only I
2. ✔ Only II
3. ✖ Both I and II
4. ✖ Neither I nor II

Question Number : 158 Question Id : 71939924216 Question Type : MCQ Option Shuffling : Yes Display Question Number : Yes
Single Line Question Option : No Option Orientation : Vertical

Correct Marks : 1 Wrong Marks : 0.25

स्किनर के लिए अधिगम का सबसे महत्वपूर्ण उपाय _____ की दर है।

- I. संदेश देने
- II. जवाब देने

Options :

1. ✖ केवल I
2. ✔ केवल II
3. ✖ I तथा II दोनों
4. ✖ ना ही I ना ही II

Question Number : 159 Question Id : 71939924217 Question Type : MCQ Option Shuffling : Yes Display Question Number : Yes
Single Line Question Option : No Option Orientation : Vertical

Correct Marks : 1 Wrong Marks : 0.25

When new behaviour is acquired through observation alone, then the learning appears to be _____.

- I. dramatic
- II. cognitive

Options :

- 1. ✖ Only I
- 2. ✔ Only II
- 3. ✖ Both I and II
- 4. ✖ Neither I nor II

Question Number : 159 Question Id : 71939924217 Question Type : MCQ Option Shuffling : Yes Display Question Number : Yes
Single Line Question Option : No Option Orientation : Vertical

Correct Marks : 1 Wrong Marks : 0.25

जब अकेले अवलोकन के माध्यम से नए व्यवहार का अधिग्रहण किया जाता है, तो अधिगम _____ प्रतीत होता है।

- I. नाटकीय
- II. संज्ञानात्मक

Options :

- 1. ✖ केवल I
- 2. ✔ केवल II
- 3. ✖ I तथा II दोनों
- 4. ✖ ना ही I ना ही II

Question Number : 160 Question Id : 71939924218 Question Type : MCQ Option Shuffling : Yes Display Question Number : Yes
Single Line Question Option : No Option Orientation : Vertical

Correct Marks : 1 Wrong Marks : 0.25

How many stages were there in the theory of moral judgement of Jean Piaget?

Options :

- 1. ✖ 3
- 2. ✔ 2
- 3. ✖ 4
- 4. ✖ 5

Question Number : 160 Question Id : 71939924218 Question Type : MCQ Option Shuffling : Yes Display Question Number : Yes
Single Line Question Option : No Option Orientation : Vertical

Correct Marks : 1 Wrong Marks : 0.25

जीन पियागे के नैतिक निर्णय के सिद्धांत में कितने चरण थे?

Options :

- 1. ✖ 3
- 2. ✔ 2
- 3. ✖ 4
- 4. ✖ 5

Discipline4

Group Number :	9
Group Id :	719399967
Group Maximum Duration :	0
Group Minimum Duration :	0

Revisit allowed for view? :	No
Revisit allowed for edit? :	No
Break time:	0
Group Marks:	20
Revisit allowed for group Instructions? :	Yes
Maximum Instruction Time:	0
Minimum Instruction Time:	0

Discipline4

Section Id :	7193991077
Section Number :	1
Section type :	Online
Mandatory or Optional:	Mandatory
Number of Questions:	20
Number of Questions to be attempted:	20
Section Marks:	20
Display Number Panel:	Yes
Group All Questions:	No

Sub-Section Number:	1
Sub-Section Id:	7193991295
Question Shuffling Allowed :	Yes

Question Number : 161 Question Id : 71939924219 Question Type : MCQ Option Shuffling : Yes Display Question Number : Yes
Single Line Question Option : No Option Orientation : Vertical

Correct Marks : 1 Wrong Marks : 0.25

Which of the following is/are the other sign systems except 'speech'?

- I. Writing
- II. Numbering systems

Options :

1. ✖ Only I
2. ✖ Only II
3. ✔ Both I and II
4. ✖ Neither I nor II

Question Number : 161 Question Id : 71939924219 Question Type : MCQ Option Shuffling : Yes Display Question Number : Yes
Single Line Question Option : No Option Orientation : Vertical

Correct Marks : 1 Wrong Marks : 0.25

निम्नलिखित में से कौन सा/से 'भाषण' को छोड़कर अन्य साइन सिस्टम है/हैं?

- I. लेखन
- II. ससंख्या प्रवृत्ति

Options :

1. ✖ केवल I
2. ✖ केवल II
3. ✔ I तथा II दोनों
4. ✖ ना ही I ना ही II

Question Number : 162 Question Id : 71939924220 Question Type : MCQ Option Shuffling : Yes Display Question Number : Yes
Single Line Question Option : No Option Orientation : Vertical

Correct Marks : 1 Wrong Marks : 0.25

Which of the following components can be categorized under Socio - cultural environment?

- I. Political Institutions
- II. Industries
- III. Landforms
- IV. Community

Options :

- 1. ✖ I, II and III
- 2. ✖ Both I and II
- 3. ✔ Both I and IV
- 4. ✖ Both II and IV

Question Number : 162 Question Id : 71939924220 Question Type : MCQ Option Shuffling : Yes Display Question Number : Yes
Single Line Question Option : No Option Orientation : Vertical

Correct Marks : 1 Wrong Marks : 0.25

निम्नलिखित में से किस घटक को सामाजिक - सांस्कृतिक वातावरण में वर्गीकृत किया जा सकता है?

- I. राजनीतिक संस्थान
- II. उद्योग
- III. भूआकृतियां
- IV. समुदाय

Options :

- 1. ✖ I, II तथा III
- 2. ✖ I तथा II दोनों
- 3. ✔ I तथा IV दोनों
- 4. ✖ II तथा IV दोनों

Question Number : 163 Question Id : 71939924221 Question Type : MCQ Option Shuffling : Yes Display Question Number : Yes
Single Line Question Option : No Option Orientation : Vertical

Correct Marks : 1 Wrong Marks : 0.25

Which of the following statements is false about EVS?

Options :

- 1. ✔ EVS draws upon insights from sciences, social studies and mathematics only
- 2. ✖ EVS is aimed at developing in children a holistic or integrated perspective of the environment where he/she lives in
- 3. ✖ EVS helps children to explore and connect with their natural and human made surroundings
- 4. ✖ EVS is introduced at the primary stage instead of subjects like science and social science

Question Number : 163 Question Id : 71939924221 Question Type : MCQ Option Shuffling : Yes Display Question Number : Yes
Single Line Question Option : No Option Orientation : Vertical

Correct Marks : 1 Wrong Marks : 0.25

पर्यावरण के सन्दर्भ में निम्नलिखित में से कौन सा कथन गलत है?

Options :

- 1. ✔ पर्यावरण अध्ययन केवल विज्ञान, सामाजिक अध्ययन तथा गणित से अंतर्दृष्टि प्राप्त करता है
- 2. ✖ पर्यावरण अध्ययन का उद्देश्य बच्चों में उस वातावरण के पूर्णतावादी या एकीकृत परिप्रेक्ष्य को विकसित करना है, जहां वह रहता/रहती है
- 3. ✖ पर्यावरण अध्ययन बच्चों को उनके प्राकृतिक तथा मानव निर्मित परिवेश के साथ जुड़ने तथा अन्वेषण करने में मदद करता है
- 4. ✖ पर्यावरण अध्ययन को विज्ञान तथा सामाजिक विज्ञान जैसे विषयों के बजाय प्राथमिक स्तर पर पेश किया जाता है

Question Number : 164 Question Id : 71939924222 Question Type : MCQ Option Shuffling : Yes Display Question Number : Yes
Single Line Question Option : No Option Orientation : Vertical

Correct Marks : 1 Wrong Marks : 0.25

Which of the following CANNOT be an objective of the field trip organized for 'Plant Study'?

Options :

1. ✓ Students will be able to draw diagrams of the plants
2. ✗ Students will be able to identify a few of the familiar plants by their names
3. ✗ Students will be able to observe and record the differences in the external features of plants
4. ✗ Students will be able to classify the plants on the basis of size and appreciate the diversity seen

Question Number : 164 Question Id : 71939924222 Question Type : MCQ Option Shuffling : Yes Display Question Number : Yes
Single Line Question Option : No Option Orientation : Vertical

Correct Marks : 1 Wrong Marks : 0.25

निम्नलिखित में से कौन-सा पौधे के अध्ययन के लिए क्षेत्र भ्रमण का एक उद्देश्य नहीं हो सकता है?

Options :

1. ✓ छात्र पौधों के आरेख बनाने में सक्षम होंगे
2. ✗ छात्रों को उनके नामों से कुछ परिचित पौधों की पहचान करने में सक्षम होंगे
3. ✗ छात्रों को पौधों की बाहरी विशेषताओं में अंतर का अवलोकन करने तथा रिकॉर्ड करने में सक्षम होंगे
4. ✗ छात्रों को आकार के आधार पर पौधों को वर्गीकृत करने तथा देखी गई विविधता के गुण को पहचानने में सक्षम होंगे

Question Number : 165 Question Id : 71939924223 Question Type : MCQ Option Shuffling : Yes Display Question Number : Yes
Single Line Question Option : No Option Orientation : Vertical

Correct Marks : 1 Wrong Marks : 0.25

Through which of the following themes, plants are introduced to the children in EVS?

Options :

1. ✗ Shelter
2. ✗ Travel
3. ✓ Food
4. ✗ Animals

Question Number : 165 Question Id : 71939924223 Question Type : MCQ Option Shuffling : Yes Display Question Number : Yes
Single Line Question Option : No Option Orientation : Vertical

Correct Marks : 1 Wrong Marks : 0.25

पर्यावरण अध्ययन में निम्नलिखित में से किस प्रकरण के माध्यम से बच्चों को पौधे से अवगत करवाया जाता है?

Options :

1. ✗ आश्रय
2. ✗ यात्रा
3. ✓ भोजन
4. ✗ जानवर

Question Number : 166 Question Id : 71939924224 Question Type : MCQ Option Shuffling : Yes Display Question Number : Yes
Single Line Question Option : No Option Orientation : Vertical

Correct Marks : 1 Wrong Marks : 0.25

Which of the following is NOT a type of formative assessment in EVS?

Options :

1. ✗ A trip to nearby forest or a park.
2. ✗ A pop quiz on any topic of EVS
3. ✗ Pairing the students and asking them to discuss..
4. ✓ Giving a term-end test on all topics of EVS.

Question Number : 166 Question Id : 71939924224 Question Type : MCQ Option Shuffling : Yes Display Question Number : Yes
Single Line Question Option : No Option Orientation : Vertical

Correct Marks : 1 Wrong Marks : 0.25

पर्यावरण अध्ययन में निम्नलिखित में से कौन सा एक निर्माणात्मक मूल्यांकन नहीं है?

Options :

1. ✖ पास के जंगल या पार्क की यात्रा
2. ✖ पर्यावरण अध्ययन के किसी भी विषय पर एक पॉप प्रश्नोत्तरी परीक्षा
3. ✖ छात्रों को युग्मन करके तथा उनसे चर्चा करने के लिए कहना
4. ✔ पर्यावरण अध्ययन के सभी विषयों पर सत्र के अंत की परीक्षा देना

Question Number : 167 Question Id : 71939924225 Question Type : MCQ Option Shuffling : Yes Display Question Number : Yes
Single Line Question Option : No Option Orientation : Vertical

Correct Marks : 1 Wrong Marks : 0.25

Which of the following is not true about 'topic-based work'?

Options :

1. ✖ While concentrating on a single topic, the content of the lessons becomes more important than the language.
2. ✔ It is the only way to organize one's teaching.
3. ✖ Working on topics can help the learning process.
4. ✖ It allows you to go into a subject in depth.

Question Number : 167 Question Id : 71939924225 Question Type : MCQ Option Shuffling : Yes Display Question Number : Yes
Single Line Question Option : No Option Orientation : Vertical

Correct Marks : 1 Wrong Marks : 0.25

निम्नलिखित में से कौन सा 'विषय-आधारित कार्य' के संदर्भ में सही नहीं है?

Options :

1. ✖ किसी एक विषय पर ध्यान केंद्रित करते समय, पाठ की विषय सूची, भाषा की तुलना में अधिक महत्वपूर्ण हो जाती है
2. ✔ यह किसी के शिक्षण को व्यवस्थित करने का एकमात्र तरीका है
3. ✖ विषयों पर कार्य करना अधिगम की प्रक्रिया की मदद कर सकता है
4. ✖ यह आपको किसी विषय के गहराई में जाने की अनुमति देता है

Question Number : 168 Question Id : 71939924226 Question Type : MCQ Option Shuffling : Yes Display Question Number : Yes
Single Line Question Option : No Option Orientation : Vertical

Correct Marks : 1 Wrong Marks : 0.25

Which of the following is not true regarding 'free activities'?

Options :

1. ✖ There is a genuine communication
2. ✖ The atmosphere should be informal
3. ✔ They focus attention on the language
4. ✖ There is often a game element

Question Number : 168 Question Id : 71939924226 Question Type : MCQ Option Shuffling : Yes Display Question Number : Yes
Single Line Question Option : No Option Orientation : Vertical

Correct Marks : 1 Wrong Marks : 0.25

निम्नलिखित में से कौन सा 'स्वतंत्र गतिविधियों' के संदर्भ में सही नहीं है?

Options :

1. ✖ वहाँ एक वास्तविक संप्रेषण होता है
2. ✖ माहौल अनौपचारिक होना चाहिए

3. ✓ वे भाषा पर ध्यान केंद्रित करते हैं
4. ✗ वहाँ अक्सर एक खेल सामग्री होती है

Question Number : 169 Question Id : 71939924227 Question Type : MCQ Option Shuffling : Yes Display Question Number : Yes
Single Line Question Option : No Option Orientation : Vertical

Correct Marks : 1 Wrong Marks : 0.25

Which of the following steps doesn't come under 'organisation of ideas'?

Options :

1. ✗ Check time references
2. ✗ Check the way ideas are linked
3. ✗ Check the way ideas are explained
4. ✓ Check tenses

Question Number : 169 Question Id : 71939924227 Question Type : MCQ Option Shuffling : Yes Display Question Number : Yes
Single Line Question Option : No Option Orientation : Vertical

Correct Marks : 1 Wrong Marks : 0.25

निम्नलिखित में से कौन सा कदम 'विचारों की आयोजन' के अंतर्गत नहीं आता है?

Options :

1. ✗ समय संदर्भ देखें
2. ✗ विचारों के जुड़ने के तरीके की जाँच करना
3. ✗ विचारों की व्याख्या के तरीके की जाँच करना
4. ✓ काल (टेन्सेस) की जाँच करना

Question Number : 170 Question Id : 71939924228 Question Type : MCQ Option Shuffling : Yes Display Question Number : Yes
Single Line Question Option : No Option Orientation : Vertical

Correct Marks : 1 Wrong Marks : 0.25

Which of the following is a part of review?

- I. Reviewing and summarizing the lesson.
- II. Setting homework.

Options :

1. ✗ Only I
2. ✗ Only II
3. ✓ Both I and II
4. ✗ Neither I nor II

Question Number : 170 Question Id : 71939924228 Question Type : MCQ Option Shuffling : Yes Display Question Number : Yes
Single Line Question Option : No Option Orientation : Vertical

Correct Marks : 1 Wrong Marks : 0.25

निम्नलिखित में से कौन सा समीक्षा का एक हिस्सा है?

- I. पाठ को समीक्षा तथा सारांशित करना
- II. गृहकार्य को सेट करना

Options :

1. ✗ केवल I
2. ✗ केवल II
3. ✓ I तथा II दोनों
4. ✗ न ही I और न ही II

Question Number : 171 Question Id : 71939924229 Question Type : MCQ Option Shuffling : Yes Display Question Number : Yes
Single Line Question Option : No Option Orientation : Vertical

Correct Marks : 1 Wrong Marks : 0.25

On what criteria's can the self-assessment questions be asked?

I. Pronunciations

II. Stress

Options :

1. ✖ Only I
2. ✖ Only II
3. ✔ Both I and II
4. ✖ Neither I nor II

Question Number : 171 Question Id : 71939924229 Question Type : MCQ Option Shuffling : Yes Display Question Number : Yes
Single Line Question Option : No Option Orientation : Vertical

Correct Marks : 1 Wrong Marks : 0.25

निम्न में से किस मापदंड पर स्व-मूल्यांकन/ निर्धारण के प्रश्न पूछे जा सकते हैं?

I. उच्चारण

II. तनाव

Options :

1. ✖ केवल I
2. ✖ केवल II
3. ✔ I तथा II दोनों
4. ✖ न ही I और न ही II

Question Number : 172 Question Id : 71939924230 Question Type : MCQ Option Shuffling : Yes Display Question Number : Yes
Single Line Question Option : No Option Orientation : Vertical

Correct Marks : 1 Wrong Marks : 0.25

Which stage is used to stimulate learners' interest in the topic which help to raise motivation for listening?

Options :

1. ✔ Pre-listening
2. ✖ While-listening
3. ✖ After-listening
4. ✖ Fifth stage

Question Number : 172 Question Id : 71939924230 Question Type : MCQ Option Shuffling : Yes Display Question Number : Yes
Single Line Question Option : No Option Orientation : Vertical

Correct Marks : 1 Wrong Marks : 0.25

निम्न में से किस चरण का उपयोग विषय में शिक्षार्थी की रुचि को प्रोत्साहित करने के लिए, जो सुनने के लिए प्रेरित करता है?

Options :

1. ✔ सुनने से पूर्व
2. ✖ सुनते समय
3. ✖ सुनने के पश्चात
4. ✖ पांचवा चरण

Question Number : 173 Question Id : 71939924231 Question Type : MCQ Option Shuffling : Yes Display Question Number : Yes
Single Line Question Option : No Option Orientation : Vertical

Correct Marks : 1 Wrong Marks : 0.25

Which speaking activity is carried out in pairs or groups and often involve pupil's asking and answering questions?

Options :

1. ✖ Retelling a story
2. ✖ Reading aloud
3. ✔ Information gap
4. ✖ Role play

Question Number : 173 Question Id : 71939924231 Question Type : MCQ Option Shuffling : Yes Display Question Number : Yes
Single Line Question Option : No Option Orientation : Vertical

Correct Marks : 1 Wrong Marks : 0.25

निम्न में से कौन सी बोलने की गतिविधि, युग्म या समूहों में की जाती है तथा इसमें अक्सर विद्यार्थियों का प्रश्न पूछना और उत्तर देना शामिल होता है?

Options :

1. ✖ एक कहानी को दुबारा बताना
2. ✖ ज़ोर से पढ़ना
3. ✔ जानकारी अंतराल
4. ✖ भूमिका निभाना

Question Number : 174 Question Id : 71939924232 Question Type : MCQ Option Shuffling : Yes Display Question Number : Yes
Single Line Question Option : No Option Orientation : Vertical

Correct Marks : 1 Wrong Marks : 0.25

What comes under 'writing at text level' writing activity?

- I. Diaries
- II. Descriptions

Options :

1. ✖ Only I
2. ✖ Only II
3. ✔ Both I and II
4. ✖ Neither I nor II

Question Number : 174 Question Id : 71939924232 Question Type : MCQ Option Shuffling : Yes Display Question Number : Yes
Single Line Question Option : No Option Orientation : Vertical

Correct Marks : 1 Wrong Marks : 0.25

लेखन गतिविधि में 'पाठ स्तर पर लेखन' किस के अंतर्गत आता है?

- I. डायरी
- II. विवरण

Options :

1. ✖ केवल I
2. ✖ केवल II
3. ✔ तथा I II दोनों
4. ✖ न ही I और न ही II

Question Number : 175 Question Id : 71939924233 Question Type : MCQ Option Shuffling : Yes Display Question Number : Yes
Single Line Question Option : No Option Orientation : Vertical

Correct Marks : 1 Wrong Marks : 0.25

Which of the following is included in cognitive strategies?

- I. Comparing
- II. Risk-taking

Options :

1. ✖ Only I
2. ✔ Only II
3. ✖ Both I and II
4. ✖ Neither I nor II

Question Number : 175 Question Id : 71939924233 Question Type : MCQ Option Shuffling : Yes Display Question Number : Yes
Single Line Question Option : No Option Orientation : Vertical

Correct Marks : 1 Wrong Marks : 0.25

निम्नलिखित में से किस को संज्ञानात्मक रणनीतियों में शामिल किया गया है?

- I. तुलना करना
- II. जोखिम लेने

Options :

1. ✖ केवल I
2. ✔ केवल II
3. ✖ तथा I II दोनों
4. ✖ न ही I और न ही II

Question Number : 176 Question Id : 71939924234 Question Type : MCQ Option Shuffling : Yes Display Question Number : Yes
Single Line Question Option : No Option Orientation : Vertical

Correct Marks : 1 Wrong Marks : 0.25

Which of the following categories is included in cultural information that is presented through the storybooks?

- I. Festivals
- II. Everyday life

Options :

1. ✖ Only I
2. ✖ Only II
3. ✔ Both I and II
4. ✖ Neither I nor II

Question Number : 176 Question Id : 71939924234 Question Type : MCQ Option Shuffling : Yes Display Question Number : Yes
Single Line Question Option : No Option Orientation : Vertical

Correct Marks : 1 Wrong Marks : 0.25

निम्नलिखित में से कौन सी श्रेणियों को सांस्कृतिक जानकारी में शामिल किया गया है जो कि स्टोरीबुक के माध्यम से प्रस्तुत की जाती है?

- I. त्यौहार
- II. दिनचर्या या रोज़मर्रा की ज़िंदगी

Options :

1. ✖ केवल I
2. ✖ केवल II
3. ✔ तथा I II दोनों
4. ✖ न ही I और न ही II

Question Number : 177 Question Id : 71939924235 Question Type : MCQ Option Shuffling : Yes Display Question Number : Yes
Single Line Question Option : No Option Orientation : Vertical

Correct Marks : 1 Wrong Marks : 0.25

Which of the following is included in step 2 of a productive computer session?

- I. Explain the purpose of the task.
- II. Make sure children stay on the task

Options :

1. ✖ Only I
2. ✔ Only II
3. ✖ Both I and II
4. ✖ Neither I nor II

Question Number : 177 Question Id : 71939924235 Question Type : MCQ Option Shuffling : Yes Display Question Number : Yes
Single Line Question Option : No Option Orientation : Vertical

Correct Marks : 1 Wrong Marks : 0.25

निम्नलिखित में से कौन सा एक उपयोगी कंप्यूटर सत्र के चरण 2 में शामिल है?

- I. कार्य का उद्देश्य स्पष्ट करना
- II. सुनिश्चित करना कि बच्चे कार्य पर बने रहे

Options :

1. ✖ केवल I
2. ✔ केवल II
3. ✖ तथा I II दोनों
4. ✖ न ही I और न ही II

Question Number : 178 Question Id : 71939924236 Question Type : MCQ Option Shuffling : Yes Display Question Number : Yes
Single Line Question Option : No Option Orientation : Vertical

Correct Marks : 1 Wrong Marks : 0.25

What does multisensory teaching involve?

Options :

1. ✖ A variety of materials and resources that will appeal to different kinds of learners
2. ✔ Adapting tasks to accommodate a range of learning styles
3. ✖ Providing suitable challenges for all children
4. ✖ Matching using words and pictures

Question Number : 178 Question Id : 71939924236 Question Type : MCQ Option Shuffling : Yes Display Question Number : Yes
Single Line Question Option : No Option Orientation : Vertical

Correct Marks : 1 Wrong Marks : 0.25

मल्टीसेन्सरी शिक्षण में क्या शामिल है?

Options :

1. ✖ विभिन्न प्रकार की सामग्री और संसाधन जो विभिन्न प्रकार के शिक्षार्थियों/ सीखनेवा लो से अनुरोध करेंगे
2. ✔ अधिगम की शैलियों की एक सीमा को समायोजित करने के लिए कार्यों को अपनाना
3. ✖ सभी बच्चों के लिए उपयुक्त चुनौतियां प्रदान करना
4. ✖ शब्दों और चित्रों का उपयोग करके मिलान करना

Question Number : 179 Question Id : 71939924237 Question Type : MCQ Option Shuffling : Yes Display Question Number : Yes
Single Line Question Option : No Option Orientation : Vertical

Correct Marks : 1 Wrong Marks : 0.25

Which of the following can be used to accompany story-based work?

- I. Rhymes and songs
- II. Making video recordings

Options :

1. ✖ Only I
2. ✖ Only II

3. ✓ Both I and II
4. ✗ Neither I nor II

Question Number : 179 Question Id : 71939924237 Question Type : MCQ Option Shuffling : Yes Display Question Number : Yes
Single Line Question Option : No Option Orientation : Vertical

Correct Marks : 1 Wrong Marks : 0.25

निम्नलिखित में से किसका उपयोग कहानी-आधारित कार्य के साथ किया जा सकता है?

- I. लय तथा गीतों
- II. वीडियो को रिकॉर्डिंग करना

Options :

1. ✗ केवल I
2. ✗ केवल II
3. ✓ तथा I II दोनों
4. ✗ न ही I और न ही II

Question Number : 180 Question Id : 71939924238 Question Type : MCQ Option Shuffling : Yes Display Question Number : Yes
Single Line Question Option : No Option Orientation : Vertical

Correct Marks : 1 Wrong Marks : 0.25

Practising new structures and functions is a purpose of which activity?

Options :

1. ✗ Writing at word level
2. ✓ Writing at sentence level
3. ✗ Writing at text level
4. ✗ Writing paragraph level

Question Number : 180 Question Id : 71939924238 Question Type : MCQ Option Shuffling : Yes Display Question Number : Yes
Single Line Question Option : No Option Orientation : Vertical

Correct Marks : 1 Wrong Marks : 0.25

नई संरचनाओं और कार्यों का अभ्यास करना किस गतिविधि का एक उद्देश्य है?

Options :

1. ✗ शब्द स्तर पर लेखन
2. ✓ वाक्य स्तर पर लेखन
3. ✗ टेक्स्ट स्तर पर लेखन
4. ✗ अनुच्छेद स्तर लिखना

Discipline5

Group Number :	10
Group Id :	719399968
Group Maximum Duration :	0
Group Minimum Duration :	120
Revisit allowed for view? :	No
Revisit allowed for edit? :	No
Break time:	0
Group Marks:	20
Revisit allowed for group Instructions? :	Yes
Maximum Instruction Time:	0
Minimum Instruction Time:	0

	Discipline5
Section Id :	7193991078
Section Number :	1
Section type :	Online
Mandatory or Optional:	Mandatory
Number of Questions:	20
Number of Questions to be attempted:	20
Section Marks:	20
Display Number Panel:	Yes
Group All Questions:	No

Sub-Section Number:	1
Sub-Section Id:	7193991296
Question Shuffling Allowed :	Yes

Question Number : 181 Question Id : 71939924239 Question Type : MCQ Option Shuffling : Yes Display Question Number : Yes
Single Line Question Option : No Option Orientation : Vertical

Correct Marks : 1 Wrong Marks : 0.25

Which activity is included in practicing and checking vocabulary?

- I. Matching words to pictures
- II. Guessing games

Options :

- 1. ✖ Only I
- 2. ✖ Only II
- 3. ✔ Both I and II
- 4. ✖ Neither I nor II

Question Number : 181 Question Id : 71939924239 Question Type : MCQ Option Shuffling : Yes Display Question Number : Yes
Single Line Question Option : No Option Orientation : Vertical

Correct Marks : 1 Wrong Marks : 0.25

शब्दावली का अभ्यास करना और जाँच करने में कौन सी गतिविधि शामिल है?

- I. शब्दों को चित्रों से मिलाना
- II. खेलों का अनुमान लगाना

Options :

- 1. ✖ केवल I
- 2. ✖ केवल II
- 3. ✔ I तथा II दोनों
- 4. ✖ न ही I और न ही II

Question Number : 182 Question Id : 71939924240 Question Type : MCQ Option Shuffling : Yes Display Question Number : Yes
Single Line Question Option : No Option Orientation : Vertical

Correct Marks : 1 Wrong Marks : 0.25

Which of the following statement(s) is/are correct about the nature of history?

- I. Historical events are always incoherent and discontinuous.
- II. History is the interpretation of the past with intention of predicting future.
- III. History concerns the endeavors and achievements of human beings through the ages.

Options :

1. ✖ Both I and II
2. ✔ Both II and III
3. ✖ I, II and III
4. ✖ Only II

Question Number : 182 Question Id : 71939924240 Question Type : MCQ Option Shuffling : Yes Display Question Number : Yes
Single Line Question Option : No Option Orientation : Vertical

Correct Marks : 1 Wrong Marks : 0.25

इतिहास की प्रकृति के बारे में निम्नलिखित में से कौन सा कथन सही है/हैं?

- I. ऐतिहासिक घटनाएं हमेशा असंबद्ध तथा समाप्त होने वाली होती हैं
- II. भविष्य के अनुमान के उद्देश्य से भूतकाल की व्याख्या इतिहास है
- III. यह इतिहास युगों से मानव के प्रयासों तथा उपलब्धियों से संबंधित है

Options :

1. ✖ I तथा II दोनों
2. ✔ II तथा III दोनों
3. ✖ I, II तथा III
4. ✖ केवल II

Question Number : 183 Question Id : 71939924241 Question Type : MCQ Option Shuffling : Yes Display Question Number : Yes
Single Line Question Option : No Option Orientation : Vertical

Correct Marks : 1 Wrong Marks : 0.25

Which of the following method(s) can help in making teaching - learning process in social science participatory?

- I. Arranging debates on emerging social issues.
- II. Arranging discussions of students with local resource persons and public functionaries.
- III. Creating a classroom environment that includes group workspaces where resources are shared.

Options :

1. ✖ Only I
2. ✖ Both I and II
3. ✖ Only III
4. ✔ I, II and III

Question Number : 183 Question Id : 71939924241 Question Type : MCQ Option Shuffling : Yes Display Question Number : Yes
Single Line Question Option : No Option Orientation : Vertical

Correct Marks : 1 Wrong Marks : 0.25

निम्नलिखित में से कौन सी विधि सामाजिक विज्ञान की भागीदारी में शिक्षण - सीखने की प्रक्रिया को बनाने में मदद कर सकती है?

- I. उभरते सामाजिक मुद्दों पर वाद- विवाद की व्यवस्था करना
- II. स्थानीय संसाधन व्यक्तियों तथा जनता कार्यकर्ता के साथ छात्रों के विचार-विमर्श की व्यवस्था करना
- III. एक कक्षा का वातावरण बनाना जिसमें समूह कार्यस्थान शामिल हैं जहाँ संसाधनों को साझा किया जाते हैं

Options :

1. ✖ केवल II
2. ✖ I तथा II दोनों
3. ✖ केवल III
4. ✔ I, II तथा III

Question Number : 184 Question Id : 71939924242 Question Type : MCQ Option Shuffling : Yes Display Question Number : Yes
Single Line Question Option : No Option Orientation : Vertical

Correct Marks : 1 Wrong Marks : 0.25

Which of the following subjects can be categorized under semi social sciences?

Options :

1. ✖ Anthropology
2. ✔ Ethics
3. ✖ Linguistics
4. ✖ Geography

Question Number : 184 Question Id : 71939924242 Question Type : MCQ Option Shuffling : Yes Display Question Number : Yes
Single Line Question Option : No Option Orientation : Vertical

Correct Marks : 1 Wrong Marks : 0.25

निम्न में से कौन सा विषय अर्थ सामाजिक विज्ञान के अंतर्गत वर्गीकृत किया जा सकता है?

Options :

1. ✖ मानव-शास्त्र
2. ✔ नीति शास्त्र
3. ✖ भाषा विज्ञान
4. ✖ भूगोल

Question Number : 185 Question Id : 71939924243 Question Type : MCQ Option Shuffling : Yes Display Question Number : Yes
Single Line Question Option : No Option Orientation : Vertical

Correct Marks : 1 Wrong Marks : 0.25

Which of the following statement(s) is/are correct regarding the nature of social science?

- I. Social sciences as a field of study includes large number of subjects like political science, anthropology, law, economics, geography etc.
- II. Social science subjects are mainly interdisciplinary and interdependent in nature.
- III. While transacting the social sciences curriculum it must be integrated with different subjects.

Options :

1. ✖ Both I and II
2. ✖ Both I and III
3. ✖ Both II and III
4. ✔ I, II and III

Question Number : 185 Question Id : 71939924243 Question Type : MCQ Option Shuffling : Yes Display Question Number : Yes
Single Line Question Option : No Option Orientation : Vertical

Correct Marks : 1 Wrong Marks : 0.25

निम्नलिखित में से कौन सा कथन सामाजिक विज्ञान की प्रकृति के बारे में सही है/हैं?

- I. अध्ययन के विषय के रूप में सामाजिक विज्ञान में बड़ी संख्या में राजनीति विज्ञान, मानव-शास्त्र, कानून, अर्थशास्त्र, भूगोल आदि जैसे विषय शामिल हैं।
- II. सामाजिक विज्ञान विषय प्रकृति में मुख्य रूप से अंतर्विषयक तथा अन्योन्याश्रित हैं।
- III. सामाजिक विज्ञान के पाठ्यक्रम को करवाते समय इसे विभिन्न विषयों के साथ एकीकृत किया जाना चाहिए।

Options :

1. ✖ I तथा II दोनों
2. ✖ I तथा III दोनों
3. ✖ II तथा III दोनों
4. ✔ I, II तथा III

Question Number : 186 Question Id : 71939924244 Question Type : MCQ Option Shuffling : Yes Display Question Number : Yes
Single Line Question Option : No Option Orientation : Vertical

Correct Marks : 1 Wrong Marks : 0.25

Which of the following fields can be categorized under Biogeography?

- I. Zoo Geography
- II. Environmental Geography
- III. Regional Geography
- IV. Plant Geography

Options :

- 1. ✓ I, II and IV
- 2. ✗ I, II and III
- 3. ✗ I, III and IV
- 4. ✗ I, II, III and IV

Question Number : 186 Question Id : 71939924244 Question Type : MCQ Option Shuffling : Yes Display Question Number : Yes
Single Line Question Option : No Option Orientation : Vertical

Correct Marks : 1 Wrong Marks : 0.25

जैवभूगोल के अंतर्गत निम्नलिखित में से किस क्षेत्र को वर्गीकृत किया जा सकता है?

- I. प्राणी भूगोल
- II. पर्यावरण भूगोल
- III. क्षेत्रीय भूगोल
- IV. वनस्पति भूगोल

Options :

- 1. ✓ I, II तथा IV
- 2. ✗ I, II तथा III
- 3. ✗ I, III तथा IV
- 4. ✗ I, II, III तथा IV

Question Number : 187 Question Id : 71939924245 Question Type : MCQ Option Shuffling : Yes Display Question Number : Yes
Single Line Question Option : No Option Orientation : Vertical

Correct Marks : 1 Wrong Marks : 0.25

Radius of base and height of a cylinder are 28 cm and 5 cm respectively. What will be the curved surface area of cylinder?

Options :

- 1. ✗ 1540 cm^2
- 2. ✗ 1760 cm^2
- 3. ✗ 440 cm^2
- 4. ✓ 880 cm^2

Question Number : 187 Question Id : 71939924245 Question Type : MCQ Option Shuffling : Yes Display Question Number : Yes
Single Line Question Option : No Option Orientation : Vertical

Correct Marks : 1 Wrong Marks : 0.25

एक बेलन के आधार की त्रिज्या तथा ऊँचाई क्रमशः 28 से.मी. तथा 5 से.मी. है। बेलन का वक्र पृष्ठीय क्षेत्रफल क्या होगा?

Options :

1. ✖ 1540 से.मी.²
2. ✖ 1760 से.मी.²
3. ✖ 440 से.मी.²
4. ✔ 880 से.मी.²

Question Number : 188 Question Id : 71939924246 Question Type : MCQ Option Shuffling : Yes Display Question Number : Yes
Single Line Question Option : No Option Orientation : Vertical

Correct Marks : 1 Wrong Marks : 0.25

The base of a prism is rectangle. Length and breadth of rectangle are 14 cm and 5 cm respectively. If height of prism is 10 cm, then what will be the total surface area of prism?

Options :

1. ✖ 630 cm²
2. ✖ 720 cm²
3. ✖ 640 cm²
4. ✔ 520 cm²

Question Number : 188 Question Id : 71939924246 Question Type : MCQ Option Shuffling : Yes Display Question Number : Yes
Single Line Question Option : No Option Orientation : Vertical

Correct Marks : 1 Wrong Marks : 0.25

एक प्रिज्म का आधार आयत है। आयत की लम्बाई तथा चौड़ाई क्रमशः 14 से.मी. तथा 5 से.मी. है। यदि प्रिज्म की ऊँचाई 10 से.मी. है, तो प्रिज्म का कुल पृष्ठीय क्षेत्रफल क्या होगा?

Options :

1. ✖ 630 से.मी.²
2. ✖ 720 से.मी.²
3. ✖ 640 से.मी.²
4. ✔ 520 से.मी.²

Question Number : 189 Question Id : 71939924247 Question Type : MCQ Option Shuffling : Yes Display Question Number : Yes
Single Line Question Option : No Option Orientation : Vertical

Correct Marks : 1 Wrong Marks : 0.25

"The distance between the end points of a line - segment is known as the length of the line segment." This above statement defines which of the following?

Options :

- ✗ Line segment
- ✗ Collinear points
- ✓ Length of a line segment
- ✗ Ray

Question Number : 189 Question Id : 71939924247 Question Type : MCQ Option Shuffling : Yes Display Question Number : Yes
Single Line Question Option : No Option Orientation : Vertical

Correct Marks : 1 Wrong Marks : 0.25

"रेखा खंड के अंतिम बिंदुओं के बीच की दूरी को रेखा खंड की लंबाई के रूप में जाना जाता है" यह उपरोक्त कथन निम्नलिखित में से किसको परिभाषित करता है?

Options :

- ✗ रेखा खंड
- ✗ समरेख बिंदु
- ✓ रेखा खंड की लंबाई
- ✗ रे

Question Number : 190 Question Id : 71939924248 Question Type : MCQ Option Shuffling : Yes Display Question Number : Yes
Single Line Question Option : No Option Orientation : Vertical

Correct Marks : 1 Wrong Marks : 0.25

_____ is which cannot be accepted but is proved.

- I. Formulae
- II. Postulate

Options :

- ✗ Only I
- ✓ Only II
- ✗ Both I and II
- ✗ Neither I nor II

Question Number : 190 Question Id : 71939924248 Question Type : MCQ Option Shuffling : Yes Display Question Number : Yes
Single Line Question Option : No Option Orientation : Vertical

Correct Marks : 1 Wrong Marks : 0.25

_____ वेह है जिसे स्वीकार नहीं किया जा सकता है लेकिन यह साबित हो चुका है।

- I. सूत्र
- II. पोस्ट्युलेट

Options :

- ✗ केवल I
- ✓ केवल II
- ✗ I तथा II दोनों
- ✗ न ही I और न ही II

Question Number : 191 Question Id : 71939924249 Question Type : MCQ Option Shuffling : Yes Display Question Number : Yes
Single Line Question Option : No Option Orientation : Vertical

Correct Marks : 1 Wrong Marks : 0.25

Which of the following is/are the types of range?

- I. Inclusive Range
- II. Exclusive Range

Options :

- 1. ✖ Only I
- 2. ✖ Only II
- 3. ✔ Both I and II
- 4. ✖ Neither I nor II

Question Number : 191 Question Id : 71939924249 Question Type : MCQ Option Shuffling : Yes Display Question Number : Yes
Single Line Question Option : No Option Orientation : Vertical

Correct Marks : 1 Wrong Marks : 0.25

निम्नलिखित में से कौन सा/से रेंज के प्रकार हैं?

- I. समावेशी श्रेणी
- II. विशिष्ट श्रेणी

Options :

- 1. ✖ केवल I
- 2. ✖ केवल II
- 3. ✔ I तथा II दोनों
- 4. ✖ न ही I और न ही II

Question Number : 192 Question Id : 71939924250 Question Type : MCQ Option Shuffling : Yes Display Question Number : Yes
Single Line Question Option : No Option Orientation : Vertical

Correct Marks : 1 Wrong Marks : 0.25

Which of the following is/are the tools and techniques of assessment of mathematics learning?

- I. Written, oral and performance tests and tasks
- II. Projects and assignments
- III. Child's participation in performing mathematical tasks

Options :

- 1. ✖ Only I
- 2. ✖ II and III
- 3. ✖ I and III
- 4. ✔ I, II and III

Question Number : 192 Question Id : 71939924250 Question Type : MCQ Option Shuffling : Yes Display Question Number : Yes
Single Line Question Option : No Option Orientation : Vertical

Correct Marks : 1 Wrong Marks : 0.25

निम्नलिखित में से कौन सा/से गणित सीखने के मूल्यांकन के उपकरण और तकनीकें हैं?

- I. लिखित, मौखिक और प्रदर्शन परीक्षण और कार्य
- II. परियोजनाओं और कार्य
- III. गणितीय कार्य करने में बच्चे की भागीदारी

Options :

- 1. ✖ केवल I
- 2. ✖ II तथा III
- 3. ✖ I तथा III
- 4. ✔ I, II तथा III

Question Number : 193 Question Id : 71939924251 Question Type : MCQ Option Shuffling : Yes Display Question Number : Yes
Single Line Question Option : No Option Orientation : Vertical

Correct Marks : 1 Wrong Marks : 0.25

According to Carl Pearson, the scientific method is marked by which of the following features?

- I. Careful and accurate classification of facts.
- II. Observation of co-relation and sequence.
- III. Discovery of scientific laws with the aid of creative imagination.

Options :

- 1. ✖ I and II
- 2. ✖ II and III
- 3. ✖ I and III
- 4. ✔ I, II and III

Question Number : 193 Question Id : 71939924251 Question Type : MCQ Option Shuffling : Yes Display Question Number : Yes
Single Line Question Option : No Option Orientation : Vertical

Correct Marks : 1 Wrong Marks : 0.25

कार्ल पियर्सन के अनुसार, निम्नलिखित में से क्या वैज्ञानिक विधि की विशेषताएं हैं?

- I. तथ्यों का सावधानीपूर्वक तथा सटीक वर्गीकरण
- II. सह-संबंध तथा अनुक्रम का अवलोकन
- III. रचनात्मक कल्पना की सहायता से वैज्ञानिक नियमों की खोज

Options :

- 1. ✖ I तथा II
- 2. ✖ II तथा III
- 3. ✖ I तथा III
- 4. ✔ I, II तथा III

Question Number : 194 Question Id : 71939924252 Question Type : MCQ Option Shuffling : Yes Display Question Number : Yes
Single Line Question Option : No Option Orientation : Vertical

Correct Marks : 1 Wrong Marks : 0.25

Which approach to teaching science is known as transmission approach?

Options :

- 1. ✔ Expository approach
- 2. ✖ Discovery approach
- 3. ✖ Inquiry approach
- 4. ✖ Experimentation approach

Question Number : 194 Question Id : 71939924252 Question Type : MCQ Option Shuffling : Yes Display Question Number : Yes
Single Line Question Option : No Option Orientation : Vertical

Correct Marks : 1 Wrong Marks : 0.25

शिक्षण विज्ञान के लिए कौन सा दृष्टिकोण ट्रांसमिशन दृष्टिकोण के रूप में जाना जाता है?

Options :

- 1. ✔ एक्सपोजिटरी दृष्टिकोण
- 2. ✖ आविष्कार दृष्टिकोण
- 3. ✖ पूछताछ दृष्टिकोण
- 4. ✖ प्रयोग दृष्टिकोण

Question Number : 195 Question Id : 71939924253 Question Type : MCQ Option Shuffling : Yes Display Question Number : Yes
Single Line Question Option : No Option Orientation : Vertical

Correct Marks : 1 Wrong Marks : 0.25

Which of the following is/are the advantages of using inquiry approach to teaching science in the classroom?

- I. Learning becomes challenging and joyful.
- II. Students realize the tentative nature of the knowledge.

Options :

- 1. ✖ Only I
- 2. ✖ Only II
- 3. ✔ Both I and II
- 4. ✖ Neither I nor II

Question Number : 195 Question Id : 71939924253 Question Type : MCQ Option Shuffling : Yes Display Question Number : Yes
Single Line Question Option : No Option Orientation : Vertical

Correct Marks : 1 Wrong Marks : 0.25

निम्नलिखित में से कौन सा/से कक्षा में विज्ञान पढ़ाने के लिए पूछताछ दृष्टिकोण का उपयोग करने के लाभ हैं?

- I. अधिगम चुनौतीपूर्ण और आनंदमय हो जाता है।
- II. छात्रों को ज्ञान की अस्थायी प्रकृति का एहसास होता है।

Options :

- 1. ✖ केवल I
- 2. ✖ केवल II
- 3. ✔ I तथा II दोनों
- 4. ✖ न ही I और न ही II

Question Number : 196 Question Id : 71939924254 Question Type : MCQ Option Shuffling : Yes Display Question Number : Yes
Single Line Question Option : No Option Orientation : Vertical

Correct Marks : 1 Wrong Marks : 0.25

Which of the following statements regarding syllabus in a teaching – learning process is/are correct?

- I. A syllabus is an outline of a specific course
- II. It includes the topics to be covered, their order, often the required and suggested reading material and any other relevant information

Options :

- 1. ✖ Only I
- 2. ✖ Only II
- 3. ✔ Both I and II
- 4. ✖ Neither I nor II

Question Number : 196 Question Id : 71939924254 Question Type : MCQ Option Shuffling : Yes Display Question Number : Yes
Single Line Question Option : No Option Orientation : Vertical

Correct Marks : 1 Wrong Marks : 0.25

एक शिक्षण-अधिगम प्रक्रिया में पाठ्यक्रम के बारे में निम्नलिखित में से कौन सा/से कथन सही है/हैं?

- I. एक पाठ्यक्रम एक विशिष्ट कोर्स की रूपरेखा है
- II. इसमें शामिल किए जाने वाले विषय, उनके आदेश, अक्सर आवश्यक और सुझाए गए पठन सामग्री और किसी भी अन्य प्रासंगिक जानकारी को शामिल किया जाता है

Options :

- 1. ✖ केवल I
- 2. ✖ केवल II
- 3. ✔ I तथा II दोनों
- 4. ✖ न ही I और न ही II

Question Number : 197 Question Id : 71939924255 Question Type : MCQ Option Shuffling : Yes Display Question Number : Yes
Single Line Question Option : No Option Orientation : Vertical

Correct Marks : 1 Wrong Marks : 0.25

A teacher wants to teach his/her students about astronomy and celestial bodies. To which of the following place, she should organise a field trip for this purpose?

Options :

1. ✓ Planetarium
2. ✗ Museum
3. ✗ Vivarium
4. ✗ Botanical Garden

Question Number : 197 Question Id : 71939924255 Question Type : MCQ Option Shuffling : Yes Display Question Number : Yes
Single Line Question Option : No Option Orientation : Vertical

Correct Marks : 1 Wrong Marks : 0.25

एक शिक्षक अपने छात्रों को खगोल विज्ञान और खगोलीय पिंडों के बारे में पढ़ाना चाहता है। उसे इस उद्देश्य के लिए, निम्नलिखित में से किस स्थान पर एक स्थानीय दौरा आयोजित करना चाहिए?

Options :

1. ✓ तारामंडल
2. ✗ संग्रहालय
3. ✗ मत्स्यालय
4. ✗ बोटैनिकल गार्डन

Question Number : 198 Question Id : 71939924256 Question Type : MCQ Option Shuffling : Yes Display Question Number : Yes
Single Line Question Option : No Option Orientation : Vertical

Correct Marks : 1 Wrong Marks : 0.25

"Oxygen is represented by O_2 " is a -----.

Options :

1. ✓ Factual knowledge
2. ✗ Conceptual knowledge
3. ✗ Procedural knowledge
4. ✗ Metacognitive knowledge

Question Number : 198 Question Id : 71939924256 Question Type : MCQ Option Shuffling : Yes Display Question Number : Yes
Single Line Question Option : No Option Orientation : Vertical

Correct Marks : 1 Wrong Marks : 0.25

"ऑक्सीजन को O_2 द्वारा दर्शाया जाता है", एक ----- है।

Options :

1. ✓ तथ्यात्मक ज्ञान
2. ✗ वैचारिक ज्ञान
3. ✗ प्रक्रियात्मक ज्ञान
4. ✗ मेटाकोग्निटिव ज्ञान

Question Number : 199 Question Id : 71939924257 Question Type : MCQ Option Shuffling : Yes Display Question Number : Yes
Single Line Question Option : No Option Orientation : Vertical

Correct Marks : 1 Wrong Marks : 0.25

Which of the following is a popular model of Integrated education being practiced in India?

- I. Self - contained class
- II. Resource room

Options :

1. ✖ Only I
2. ✖ Only II
3. ✔ Both I and II
4. ✖ Neither I nor II

Question Number : 199 Question Id : 71939924257 Question Type : MCQ Option Shuffling : Yes Display Question Number : Yes
Single Line Question Option : No Option Orientation : Vertical

Correct Marks : 1 Wrong Marks : 0.25

निम्नलिखित में से कौन सा भारत में एकीकृत शिक्षा का इस्तेमाल होने वाला एक लोकप्रिय मॉडल है?

- I. स्व-निहित श्रेणी
- II. संसाधन कक्ष

Options :

1. ✖ केवल I
2. ✖ केवल II
3. ✔ I तथा II दोनों
4. ✖ न ही I और न ही II

Question Number : 200 Question Id : 71939924258 Question Type : MCQ Option Shuffling : Yes Display Question Number : Yes
Single Line Question Option : No Option Orientation : Vertical

Correct Marks : 1 Wrong Marks : 0.25

Which of the following empowerment is implied in education?

- I. Promoting self recognition
- II. Stimulating critical thinking
- III. Enabling access to resources

Options :

1. ✖ I and II
2. ✖ II and III
3. ✖ I and III
4. ✔ I, II and III

Question Number : 200 Question Id : 71939924258 Question Type : MCQ Option Shuffling : Yes Display Question Number : Yes
Single Line Question Option : No Option Orientation : Vertical

Correct Marks : 1 Wrong Marks : 0.25

निम्नलिखित में से कौन सा सशक्तिकरण शिक्षा में निहित है?

- I. स्व मान्यता को बढ़ावा देना
- II. गहन सोच को उत्तेजित करना
- III. संसाधनों तक पहुंच को सक्षम करना

Options :

1. ✖ I तथा II
2. ✖ II तथा III
3. ✖ I तथा III
4. ✔ I, II तथा III